

T.C.
MİLLÎ EĞİTİM BAKANLIĞI



MEGEP

(MESLEKÎ EĞİTİM VE ÖĞRETİM SİSTEMİNİN
GÜÇLENDİRİLMESİ PROJESİ)

KONAKLAMA VE SEYAHAT
HİZMETLERİ

TURİZM COĞRAFYASI

ANKARA 2006

Milli Eğitim Bakanlığı tarafından geliştirilen modüller;

- Talim ve Terbiye Kurulu Başkanlığının 02.06.2006 tarih ve 269 sayılı Kararı ile onaylanan, Mesleki ve Teknik Eğitim Okul ve Kurumlarında kademeli olarak yaygınlaştırılan 42 alan ve 192 dala ait çerçeve öğretim programlarında amaçlanan mesleki yeterlikleri kazandırmaya yönelik geliştirilmiş öğretim materyalleridir (Ders Notlarıdır).
- Modüller, bireylere mesleki yeterlik kazandırmak ve bireysel öğrenmeye rehberlik etmek amacıyla öğrenme materyali olarak hazırlanmış, denenmek ve geliştirilmek üzere Mesleki ve Teknik Eğitim Okul ve Kurumlarında uygulanmaya başlanmıştır.
- Modüller teknolojik gelişmelere paralel olarak, amaçlanan yeterliği kazandırmak koşulu ile eğitim öğretim sırasında geliştirilebilir ve yapılması önerilen değişiklikler Bakanlıkta ilgili birime bildirilir.
- Örgün ve yaygın eğitim kurumları, işletmeler ve kendi kendine mesleki yeterlik kazanmak isteyen bireyler modüllere internet üzerinden ulaşılabilirler.
- Basılmış modüller, eğitim kurumlarında öğrencilere ücretsiz olarak dağıtılır.
- Modüller hiçbir şekilde ticari amaçla kullanılamaz ve ücret karşılığında satılamaz.

İÇİNDEKİLER

AÇIKLAMALAR	iii
GİRİŞ	1
ÖĞRENME FAALİYETİ-1	3
1. TÜRKİYE’NİN TURİZM COĞRAFYASI	3
1.1. Türkiye’nin Dünya Üzerindeki Yeri ve Önemi	3
1.2. Türkiye’nin Coğrafi Bölgeleri’nin Turizm Açısından Yeri ve Önemi	4
1.3. Akdeniz Bölgesi’nin Turizm Coğrafyası	4
1.3.1. Bölgenin Coğrafi Özellikleri	4
1.3.2. İklimi	5
1.3.3. Ulaşımı	5
1.4. Bölgenin Bölümleri, Tarihi ve Doğal Güzellikleri	6
1.4.1. Adana Bölümü	6
1.4.2. Antalya Bölümü	8
1.4.3. Burdur	9
1.4.4. Isparta	9
1.5. Akdeniz Bölgesinin Türkiye Turizmindeki Yeri ve Önemi	10
UYGULAMA FAALİYETİ	11
ÖLÇME VE DEĞERLENDİRME	12
ÖĞRENME FAALİYETİ-2	14
2. EGE BÖLGESİ TURİZM COĞRAFYASI	14
2.1. Bölgenin Coğrafi Özellikleri	14
2.1.2. Ulaşımı	15
2.2. Bölgenin Bölümleri, Tarihi ve Doğal Güzellikleri	15
2.2.1. Kıyı Ege Bölümü	15
2.2.3. İç Batı Anadolu Bölümü	18
2.3. Ege Bölgesinin Türkiye Turizmindeki Yeri ve Önemi	19
UYGULAMA FAALİYETİ	20
ÖLÇME VE DEĞERLENDİRME	21
3. MARMARA BÖLGESİ TURİZM COĞRAFYASI	23
3.1. Bölgenin Coğrafi Özellikleri	23
3.2. Bölgenin Bölümleri, Tarihi ve Doğal Güzellikleri	24
3.2.1. İstanbul Bölümü	24
3.2.3. Bursa, Balıkesir ve Çanakkale Bölümü	26
3.2.4. Kocaeli, Adapazarı ve Bilecik Bölümü	28
3.3. Marmara Bölgesi’nin Türkiye Turizmindeki Yeri ve Önemi	29
UYGULAMA FAALİYETİ	30
ÖLÇME VE DEĞERLENDİRME	31
4. İÇ ANADOLU BÖLGESİ TURİZM COĞRAFYASI	33
4.1. Bölgenin Coğrafi Özellikleri	33
4.1.1. İklimi	33
4.1.2. Ulaşımı	34
4.2. Bölgenin Bölümleri, Tarihi ve Doğal Güzellikleri	34
4.2.1. Ankara Bölümü	34
4.2.2. Kapadokya Bölümü	36
4.2.3. Doğu İç Anadolu Bölümü	37
4.3. İç Anadolu Bölgesi’nin Türkiye Turizmindeki Yeri ve Önemi	39

UYGULAMA FAALİYETİ	40
ÖLÇME VE DEĞERLENDİRME	41
5. KARADENİZ BÖLGESİ TURİZM COĞRAFYASI	43
5.1. Bölgenin Coğrafi Özellikleri.....	43
5.1.1. İklimi	43
5.1.2. Ulaşımı.....	44
5.2. Bölgenin Bölümleri Tarihi ve Doğal Güzellikleri	44
5.2.1. Batı Karadeniz Bölümü	44
5.2.2. Orta Karadeniz Bölümü.....	46
5.2.3. Doğu Karadeniz Bölümü	47
UYGULAMA FAALİYETİ	50
ÖLÇME VE DEĞERLENDİRME	51
ÖĞRENME FAALİYETİ-6.....	53
6. DOĞU ANADOLU BÖLGESİ TURİZM COĞRAFYASI	53
6.1. Bölgenin Coğrafi Özellikleri.....	53
6.1.1. İklimi	54
6.1.2. Ulaşımı.....	54
6.2. Bölgenin Bölümleri, Tarihi ve Doğal Güzellikleri	54
6.2.1. Erzurum, Kars Bölümü.....	54
6.2.2. Van Bölümü.....	56
6.2.3. Malatya, Elazığ Bölümü	57
6.3. Doğu Anadolu Bölgesinin Türkiye Turizmindeki Yeri ve Önemi.....	58
UYGULAMA FAALİYETİ	60
ÖLÇME VE DEĞERLENDİRME	61
ÖĞRENME FAALİYETİ-7	63
7. GÜNEYDOĞU ANADOLU BÖLGESİ TURİZM COĞRAFYASI	63
7.1. Bölgenin Coğrafi Özellikleri.....	63
7.1.2. Ulaşımı.....	64
7.2. Bölgenin Bölümleri, Tarihi ve Doğal Güzellikleri	64
7.2.1. Adıyaman, Gazi Antep, Şanlı Urfa Bölümü	64
7.2.2. Diyarbakır, Mardin Bölümü	65
UYGULAMA FAALİYETİ	68
ÖLÇME VE DEĞERLENDİRME	69
CEVAP ANAHTARLARI	71
MODÜL DEĞERLENDİRME	73
KAYNAKÇA	74

AÇIKLAMALAR

KOD	10TP00001
ALAN	Konaklama ve Seyahat Hizmetleri
DAL/MESLEK	Ortak alan (Rezervasyon/Operasyon elemanı)
MODÜLÜN ADI	Turizm Coğrafyası
MODÜLÜN TANIMI	Türkiye'nin dünya üzerindeki yeri ve önemi, bölgenin coğrafi özellikleri, iklimi, ulaşımı, turizmdeki yeri ve önemi hakkında bilgi kazandıran öğretim materyalidir..
SÜRE	40/32
ÖN KOŞUL	Anadolu Uygarlıkları modülünü almış olmak
YETERLİK	Konuklara; Türkiye'nin coğrafi özelliklerini, tarihini ve doğal güzelliklerini tanıtmak.
MODÜLÜN AMACI	<p>GENEL AMAÇ Bu modül ile uygun ortam sağlandığında; Türkiye'nin coğrafi özelliklerini, tarihini, doğal ve turistik güzelliklerini konuklara doğru olarak tanıtılabileceksiniz.</p> <p>AMAÇLAR</p> <ul style="list-style-type: none">➤ Akdeniz Bölgesinin coğrafi özelliklerini, tarihini ve doğal güzelliklerini, öğrenecek ve turistlere doğru olarak tanıtılabileceksiniz.➤ Ege Bölgesinin coğrafi özelliklerini, tarihini ve doğal güzelliklerini, öğrenecek ve turistlere doğru olarak tanıtılabileceksiniz.➤ Marmara Bölgesinin coğrafi özelliklerini, tarihini ve doğal güzelliklerini, öğrenecek ve doğru olarak turistlere tanıtılabileceksiniz.➤ İç Anadolu Bölgesinin coğrafi özelliklerini, tarihini ve doğal güzelliklerini, öğrenecek ve turistlere doğru olarak tanıtılabileceksiniz.➤ Karadeniz Bölgesinin coğrafi özelliklerini, tarihini ve doğal güzelliklerini, öğrenecek ve turistlere doğru olarak tanıtılabileceksiniz.➤ Doğu Anadolu Bölgesinin coğrafi özelliklerini, tarihini ve doğal güzelliklerini, öğrenecek ve turistlere doğru olarak tanıtılabileceksiniz.➤ Güney Doğu Anadolu Bölgesinin coğrafi özelliklerini, tarihini ve doğal güzelliklerini, turistlere doğru olarak tanıtılabileceksiniz.

EĞİTİM ÖĞRETİM ORTAMLARI VE DONANIMLARI	ORTAM: Sınıf, kütüphane, ev, bilgi teknolojileri, çevre gezileri, turistik danışma büroları DONANIM: TV, DVD,VCD, projeksiyon, PC, internet, kırtasiye, harita
ÖLÇME VE DEĞERLENDİRME	<ul style="list-style-type: none">➤ Modülün içinde yer alan her öğrenme faaliyetinden sonra verilen ölçme soruları, kendinize ilişkin gözlem ve değerlendirmeniz yoluyla kazandığınız bilgi ve becerileri ölçerek kendi kendinizi değerlendireceksiniz.➤ Öğretmen modül sonunda size ölçme teknikleri uygulayarak modül uygulamaları ile kazandığımız bilgi ve becerileri ölçerek değerlendirecektir.

GİRİŞ

Sevgili Öğrenci,

Turizm Coğrafyası, tüm dünya ülkelerinin ve bölgelerinin yerini tarif edebilmek ve nerede olduklarını doğru olarak bulabilmek için bize rehberlik etmektedir. Bu sayede gitmek istediğimiz ya da merak ettiğimiz yerler hakkında bilgi sahibi olabilmekteyiz.

Coğrafya bilgisi, iyi bir turizmci olmanın ön koşullarından biridir. Yaşadığımız yeri, bölgeyi, ülkeyi yerli ve yabancı turistlere doğru olarak tanıtabilmek için coğrafi turizm bilgilerine ihtiyaç duymaktayız. Bu modüldeki bilgileri kazandığınız takdirde, ülkemizin ve bölgelerimizin iklimi; doğal, tarihî ve kültürel varlıkları; turistik değerleri; ulaşım olanakları; Türkiye turizmi içindeki yeri ve önemi hakkında bilgi sahibi olup doğru analizleri yapabileceksiniz. Bu bilgiler, sizin hem meslekî alanda başarılı olmanızı sağlayacak hem de kültürel birikiminizi zenginleştirecektir.

Bilgi çağını yaşadığımız günümüzde gerçek başarıyı yakalayabilmek ve hedeflerimize ulaşabilmek için daha fazla çalışmamız, araştırmalar yapmamız ve doğru analizleri gerçekleştirmemiz gerekmektedir. Bu da siz genç arkadaşlarımızın, çabası ile gerçekleşecektir.

ÖĞRENME FAALİYETİ-1

AMAÇ

Türkiye'nin coğrafi özelliklerini, tarihi, doğal ve turistik güzelliklerini öğrenecek ve konuklara doğru olarak tanıtılabileceksiniz.

ARAŞTIRMA

Türkiye'nin dünya üzerindeki coğrafi konumunu, 1. modülde almış olduğunuz harita bilgileri doğrultusunda, dünya haritası üzerinde inceleyiniz.

- Türkiye'deki coğrafi bölgeleri ve bu bölgelerin Türkiye haritası üzerindeki yerlerini inceleyiniz.
- Akdeniz Bölgesindeki illerin tarihî, doğal ve kültürel varlıklarını, ayrıca özelliklerini araştırınız.
- Öğretmeninizin rehberliğinde, incelemeleriniz hakkında sınıfta birbirinizle bilgi alış verişinde bulununuz.

1.TÜRKİYE'NİN TURİZM COĞRAFYASI

1.1. Türkiye'nin Dünya Üzerindeki Yeri ve Önemi

Gittiğimiz okulun, oturduğumuz evin, çalıştığımız iş yerinin bir adresi vardır. Bu adresler, belirli yerlere göre tarif edilir. Ülkelerin ve bölgelerin de dünya üzerinde bir anlamda adresleri vardır. Bir ülkenin dünya üzerinde bulunduğu yer veya bir şehrin bölge içinde bulunduğu yer, onun coğrafi konumu ile açıklanır.

Bir ülkenin veya bölgenin coğrafi konumu, o yerin kaderini yakından ilgilendirir. Örneğin;

- Verimli topraklarının olup olmaması
- İklim şartlarının sert ya da yumuşak olması
- Komşu olduğu ülkeler ve bölgeler ve bunlarla etkileşimi
- Stratejik özelliklere sahip olması
- Çeşitli kültürlerle etkileşimi

gibi özellikleri coğrafi konumuna bağlıdır

Türkiye, Kuzey Yarım Küre'de 36° - 42° kuzey paralelleri ile 26° - 45° doğu meridyenleri arasında ve "Eski Dünya Kıtaları" diye adlandırılan Asya, Avrupa ve Afrika

kıtalarının birbirine en çok yaklaştığı yerde bulunmaktadır. Ülkemizin hem Asya hem de Avrupa kıtalarında toprakları vardır.



Resim 1: Türkiye'nin yeri

Türkiye, üç tarafı denizlerle çevrili bir yarımadadır kuzeyinde Karadeniz, batısında Ege denizi, güneyinde de Akdeniz bulunmaktadır. Bu üç deniz birbirine bağlıdır Ayrıca Akdeniz, Çeşelitarık Boğazı ile Atlas Okyanusu'na; Süveyş Kanalı ile de Hint Okyanusuna bağlıdır.

1.2. Türkiye'nin Coğrafi Bölgeleri'nin Turizm Açısından Yeri ve Önemi

Türkiye, 1941 yılında toplanmış olan "Birinci Türk Coğrafya Kongresi"nde yedi coğrafi bölgeye ayrılmıştır. Bunlar ; Karadeniz Bölgesi, Marmara Bölgesi, Ege Bölgesi, Akdeniz Bölgesi, İç Anadolu Bölgesi, Doğu Anadolu Bölgesi ve Güneydoğu Anadolu Bölgesi'dir.

Bu bölgeler ele alınırken yeryüzü şekilleri, iklimi, doğal bitki örtüsü ve ekonomik özellikler göz önünde bulundurulmuştur.

1.3. Akdeniz Bölgesi'nin Turizm Coğrafyası

1.3.1. Bölgenin Coğrafi Özellikleri

Akdeniz Bölgesi, yurdumuzun güney kesiminde, adını aldığı denizin sınırlarımız içindeki kıyılarında yer alır. Bölge, bel kemiğini oluşturan Batı ve Orta Toroslarla, Nur



Resim 2 Akdeniz Bölgesi

Dağları'nın çizdiği yaylara göre yön değiştirerek bir şerit oluşturur. Batısında Ege Bölgesi bulunurken kuzeyi İç Anadolu düzlükleri ile sınırlanmıştır. Doğusundaki sınırı ise, Doğu Anadolu engebeleri ile Güneydoğu Anadolu plâtoları belirler. Akdeniz Bölgesinin yüz ölçümü Türkiye'nin yaklaşık %15'ini kapsamaktadır.

1.3.2. İklimi

Akdeniz Bölgesi'nin kıyı kesiminde tipik Akdeniz iklimi görülür. Torosların kıyıya yakın olması, Akdeniz ikliminin etki alanını daraltmıştır. Bu olumsuzluğa karşı Toroslar, kıyıları kışın İç Anadolu'dan gelebilecek soğuk hava kütlelerinden koruyarak iklim bakımından önemli bir rol oynar. Bunun sonucunda da güney kıyılarımız, kışın Türkiye'nin en sıcak yeri olma özelliğine sahip olmuştur.

Akdeniz kıyıları, kış aylarını ılık geçirmektedir. En soğuk ay ortalaması bile 10 derece civarındadır. Kar yağışları ve don olayları çok ender görülür. En yağışlı mevsim kıştır ve yağışların yaklaşık yarısı kış aylarında düşer. Bütün bölgede yazlar sıcak ve kurak geçer. Yıllık ortalama 600 mm civarında olan yağış miktarı, denize bakan dağ yamaçlarında 1000 mm'yi aşar. Nur Dağları, kuzeydoğu – güneybatı doğrultusunda uzandığı için batı rüzgârlarına dönüktür. Bu nedenle bu dağlık alanda yağış miktarı biraz daha fazladır. Hatay – Kahramanmaraş oluşu, Akdeniz ikliminin iç kesimlere kadar sokulmasına olanak verir.

Kıyılardan uzak kesimlerde, kara ikliminin özellikleri görülür. Torosların kuzey eteklerinde ve Gölleler Bölgesi'nde kışlar, sert ve kar yağışlı geçer. Bütün kış boyunca don olayları devam eder. Yağış miktarı da düşüktür; fakat bu kesimlerde yaz kuraklığı daha azdır.

1.3.3. Ulaşımı

Toros Dağları, Akdeniz Bölgesi'nin kıyı kesimleri ile iç kesimleri arasındaki ulaşımı güçleştirir. Ulaşım ancak kara yolunun bazı geçitleri ile sağlanabilir. Bu geçitlerin başlıcaları; **Gölek Boğazı**, **Sertavul Geçidi** ve **Çubuk Boğazı**'dir. İskenderun Körfezi'nin doğusunda, kıyıya paralel olarak uzanan Nur Dağları üzerinde de **Belen Geçidi** bulunmaktadır.

Bölgenin kara yolu bağlantılarının yanı sıra hava yolu ve deniz yolu ulaşım olanakları da bulunmaktadır.

Bölgede son yıllarda büyük gelişme gösteren hava limanlarımız, **Adana** ve **Antalya** Hava limanlarıdır. **Dalaman** (Muğla) **Hava Limanı** da Akdeniz Bölgesi il sınırlarında yer almaktadır. Ayrıca, **Kahramanmaraş** ve **Çardak Hava alanları** da bu bölgemizdedir. .

Deniz yolu ulaşımında en hızlı gelişen limanlarımızın başında, **Mersin Limanı**, **İskenderun Limanı** ve **Antalya Limanı** yer almaktadır. **Alanya ve Kemer** gibi turistik özelliği ağır basan yerlerde de özellikle yatlarla ve diğer turistik gemilere hizmet veren liman tesisleri yapılmıştır.

1.4. Bölgenin Bölümleri, Tarihi ve Doğal Güzellikleri

1.4.1. Adana Bölümü

1.4.1.1. Adana

Adana'nın adı, Yunan mitolojisine göre Uranüs'ün oğlu Adanos'tan gelmektedir. 5 Ocak 1922 tarihinde ülke topraklarına katılan Adana, 1923 yılında il olmuştur.

Adana, önemli bir karayolu kavşağındadır. Kara yoluyla çevre illere, demir yoluyla da İç Anadolu, Gaziantep ve İçel'e bağlanmaktadır. Hava alanı sayesinde her mevsimde hava yolu ulaşımı sağlanmaktadır.



Resim 3: Kastabala

➤ **İldeki başlıca tarihî, doğal ve turistik yerler şunlardır:**

Adana Bölge Müzesi, Adana Arkeoloji Müzesi, Ulucami ve Külliyesi, Akça Mescit, Yağ Camii ve Medresesi, Saat Kulesi, Yılan Kale, Anavarza Kalesi, Sirkeli, Seyhan Baraj Gölü, Börücek Yaylası, Tekir Yaylası, Taşköprü, Anavarza, Misis, Komana (Şar)

1.4.1.2. Hatay

Antakya kenti, İskender'in generallerinden I. Selevkos'un oğlu I. Antiochus tarafından M.Ö. IV. yüzyılda kurulmuştur. Kentin adı da buradan gelmektedir. Kent, 7 Temmuz 1939 tarihinde ülke sınırlarına katılarak il olmuştur.

Hatay'ın çevre illerle kara yolu ulaşımı bulunmaktadır. Ayrıca İskenderun'dan demir yolu ve deniz ulaşımı sağlanmaktadır.

➤ Hatay'daki tarihî, doğal ve turistik yerler şunlardır.

Antakya Mozaik Müzesi, St. Pierre Kilisesi, Roma Köprüsü, Antakya Arkeoloji Müzesi, Payas Kalesi, Alalah, Günahkarlar Hamamı, Payas Kervansarayı, Issos, Kisecik Köyü şifalı suyu, Hamam köyü (Hamamat) Kaplıcası, Kumlu Termal Tesisleri, Başlamuş maden suyu ve ılıcası, Arsuz, Çevlik, Payas plajları, Damlacık Mağarası Harbiye, Asi nehri, Mağaracık Mağarası, Batı Ayaz Yaylası, Soğukoluk Yaylası, Teknepınar Yaylası, Amik Gölü, Yenişehir Gölü

Hatay'da bunların dışında kale, kilise, han, cami gibi birçok tarihî eser bulunmaktadır.

1.4.1.3. İçel (Mersin)

Mersin, 19. yüzyılın ilk yarısına kadar köy idi. Türkistanlı bir aşiret olan Mersinli Aşireti tarafından kurulduğu için Mersin adı verilmiştir. 4 Ocak 1922 tarihinde Fransız ve Ermeni işgalinden kurtarılan kent, 1923 yılında il olmuş, 1933 yılında da adı "İçel" olarak değiştirilmiştir.

Mersin, kara yolu ile çevre illere, demir yolu ile de Adana'ya bağlıdır. İçel'in aynı zamanda deniz yolu ulaşımı da bulunmaktadır.

➤ İldeki başlıca tarihî, doğal ve turistik yerler şunlardır:

Pompeipolis (Viran Kent), Mozaikli Hamamlar, Dikilitaş, Anamur Kalesi, Mut Kalesi, Sivri Türbeler, Cennet ve Cehennem Obruğu, Dilek Obruğu, Silifke Kalesi, Kız Kalesi, Korykos, Cleopatra Kapısı, Eshâbı-ı Keyf Mağarası, Namrun Yaylası, Tarsus Şelâlesi, Çukurpınar Mağarası, Narlıkaya Mağarası, Bolklar Dağları, Göksu nehri, Gözne, Fındıkpınarı

Ayrıca, Silifke'ye dökülen Göksu Nehri'nde rafting sporu yapılmaktadır.

1.4.1.4. Osmaniye

1071 yılların köy olarak kurulan Osmaniye, 1924 yılında, Cebelibereket vilayeti olmuş, 1933 yılında Adana'ya bağlı bir ilçe, 1996 yılında da il olmuştur.

Osmaniye, çevre illere kara yolu ile bağlı olup ayrıca, ilin demir yolu ile da ulaşımı vardır.

➤ **İldeki başlıca tarihî, doğal ve turistik yerler şunlardır:**

Gastabala, Zorkun Yaylası, Karatepe, Toprakkale, Alacami, Gindorus Antik Kenti, Danakaya, Domuztepe, Frenk, Haruniye, Hamite, Kum, Kurtlar, Savranda ve Semankale Gebeli Kaplıcası, Düziçi Kaplıcası, Haruniye Kaplıcaları

1.4.1.5. Kahramanmaraş

İlk adı “Marasi” olan Maraş, Hititler tarafından kurulmuştur. Araplar döneminde kentin adı “Maraş” olmuştur. 11 Şubat 1920 tarihinde İngiliz ve Fransız işgalinden kurtarılan kent, 1923 yılında il olmuş, 1973 yılında da kentin ismi “Kahraman Maraş” olarak değiştirilmiştir.

Kahraman Maraş, çevre illere kara yolu ile bağlıdır; ayrıca hava yolu ve demir yolu ulaşımı da vardır.

➤ **İldeki başlıca tarihî, doğal ve turistik yerler şunlardır:**

Maraş Kalesi, Kahraman Maraş Müzesi, Taş Medrese, Elbistan, Döngel Mağarası, Karagöl Yaylası, Yedi Kuyu Yaylası, Çalı Balma Yaylası, Üç Kaya Yaylası, Çevirme Yaylası, Binboğa Yaylası Başkonuş Yaylası, Gonan Yaylası, Yenicekale Yaylası, Kazma Yaylası, Bozludere Yaylası, Bertiz Yaylası, Kumaşır Gölü ve Kartalkaya Barajı, Zeytun Kaplıcası ve Döngel Kaplıcası

1.4.1.6. Kilis

Orta Tunç Çağı'na dek uzanan eski bir yerleşim merkezi olan Kilis, 20 Ekim 1921 tarihinde Türkiye sınırlarına dahil edilmiştir.

Daha önce, Gazi Antep ilinin bir ilçesi olan Kilis, 1995 yılında il olmuştur.

İl, çevre illere kara yolu ile bağlıdır.

➤ **İldeki başlıca tarihî , doğal ve turistik yerler şunlardır:**

Tekke Camii, Horoz Kalesi, Revanda Kalesi, Tilhabeş ve Kuzeyne antik kenti.


1.4.2. Antalya Bölümü

Geçmiş, Eski Tunç Çağı'na kadar dayanan ilde, M.Ö. 2000 yıllarında bölgede Hititlerin yaşadığı bilinmektedir. Kent Bergama kralı Attalos tarafından kurulmuştur. Temmuz 1921 tarihinde İtalyan işgalinden kurtulan Antalya, 1923 yılında il olmuştur

Antalya, kara yolu ile çevre illere bağlıdır. Ayrıca ilin deniz yolu ve hava yolu ulaşım imkânları da vardır.

➤ **İldeki başlıca tarihî, doğal ve turistik yerler şunlardır:**

Kaleiçi, Antalya Müzesi, Hadrianus Kapısı, Hıdırlık Kulesi, Kesik Minare, Yivli Minare, Karatay Medresesi, Evdirhan, Termessos, Phaselis, Olympos, Perge, Aspendos Tiyatrosu, Side, Side Müzesi, Dereağzı Kilisesi, Derme, Patara, Alanya Kalesi, Düden, Kızıl Kule, Alanya Müzesi, Alanya Tersanesi, Karain Mağarası, Beldibi Mağarası, Damlatas Mağarası, Altın Beşik Mağarası, Kurşunlu Çağlayanı, Manavgat Çağlayanı, Mavi Mağara, Saklıkent, Beydağları Millî Parkı, Güllük Dağı, Köprülü Kanyon Millî Parkı, Karpuzkaldıran, Lara ve Konyaaltı plâjları, Kemer, Side, Titreyen Göl, Alanya, Kaş gibi tüm kıyılar denize girilebilecek doğal plâjlardır. Ayrıca, Finike, Kemer, Kaleiçi, Alanya yat limanlarında yatçılara hizmet vermektedir. Alara Çağlayanı, Dim Çayı ve Mağarası, Kekova Körfezi, Alacadağ



Resim 4: Patara

1.4.3. Burdur

Burdur, Pisidia (Pisidya) Bölgesi'nin, Arkania Limnae (Arkanya Limana) adlı kentidir. Burdur çevresinin tarihi, Hititlere kadar uzanmaktadır. Toplam 14 gölü bulunan Burdur ili, "Göller Cenneti" olarak anılır. 1391 yılında da Osmanlı topraklarına katılan kent, 1923 yılında da il olmuştur.

Burdur çevre illere karayolu ile bağlı olup ayrıca ilin demir yolu ulaşımı da vardır.

➤ **İldeki başlıca tarihî, doğal ve turistik yerler şunlardır:**

Ulu Cami, Hacılar, Kibyra, Olbasa, Sagalassos, Susuz Han, İnsuyu Mağarası, Tefenni, Çendik Plâjı, Burdur, Kestel ve Salda gölleri

1.4.4. Isparta

İlk çağlarda Hitit, Lidya ve Pers dönemini yaşayan kent, Romalıların eline geçmiş ve Romalılar bölgeye Pisidia (Pisidya) adını vermişlerdir. Bizans dönemini de yaşayan kent, XI.

yüzyılda Türklerin eline geçmiş ve kente “Isparta” adı verilmiştir. Kent, 1923 yılında da il olmuştur.

Isparta, kara yolu ile çevre illere bağlıdır; ayrıca ilin demiryolu ve hava yolu ulaşımı da vardır.

➤ **İldeki başlıca tarihî, doğal ve turistik yerler şunlardır:**

Firdevs Cami, Ulu Cami, Taş Medrese, Atabey (Gazi Ertokuş) Medresesi, Baradis, Eğirdir Gölü, Altın Kum, Can Adası Plâjı, Kızıldağ Milli Parkı, Dedegöl Dağları, Yazılı Kanyon, Davraz Kayak Merkezi, Zindan Mağarası

1.5. Akdeniz Bölgesinin Türkiye Turizmindeki Yeri ve Önemi

Akdeniz Bölgesi, Türkiye'nin, turizm bakımından gelişmiş ve alt yapısı bakımından iyi olan bölgeleri arasındadır. Türkiye'deki turistik yatak kapasitesinin %35 kadarı bu bölgede, özellikle Antalya Bölümü'nün kıyı şeridindedir. Bölümün kıyıları boyunca, çok iyi donanmış bazı uluslararası oteller, tatil köyleri, pansiyonlar ve yat limanları birbiri ardınca sıralanır. En çok gelişmiş olan turizm çeşidi de deniz turizmidir. Bölgenin kıyıları, özellikle, Almanya, Fransa, İtalya ve İskandinav ülkelerinden gelen yabancı turistlerin dinlenmek, güneşlenmek, antik kent kalıntıları içinde âdeta tarihi yaşayarak gezinmek için tercih ettikleri yerlerdir. Kıyıların birçok yerinde kurulan yat limanları, açılan yeni hava limanları, kıyı boyundaki bütün yerleşim yerlerini ve görülmeye değer yerleri birbirine bağlayan kara yolları, buralarda turizmin gelişmesine katkıda bulunmaktadır.

Yazın güneşlenme süresinin on iki saati aştığı bu kıyı kesimi, “Güney Antalya Turizm Geliştirme Projesi” kapsamına alınmış ve turizm yatırımları teşvik edilmiştir. Bunun sonucunda Fethiye Körfezi, Kemer, Antalya, Side ve Alanya kıyılarında turistik tesisler yoğunlaşmış; çok sayıda otel, motel ve tatil köyü tesis edilmiştir. Yat turizmi teşvik edilerek Antalya ve Kemer'de modern yat limanları yapılmış, diğer birçok yerde de yatlara hizmet verecek tesisler kurulmuştur. Antalya'nın batısındaki kıyılarda “mavi yolculuk” adıyla düzenlenen turlar ilgi çekmektedir.

UYGULAMA FAALİYETİ

Aşağıdaki uygulamaları yapın!

Akdeniz Bölgesi'nin illerini, tarihi, doğal ve turistik varlıklarını araştırarak elde ettiğiniz dökümanları değerlendirerek elektronik ortamda power point sunusu hazırlayarak arkadaşlarınıza ve öğretmeninize sununuz.

İşlem basamakları	Öneriler
<ul style="list-style-type: none">➤ Türkiye haritasını çizmek için büyük bir karton kağıt üzerinde çalışınız.➤ Haritayı çizerken fiziki harita kullanınız.➤ Ülke sınırlarını belirleyiniz.➤ 7 Bölge sınırlarını çiziniz.➤ Akdeniz Bölgesi sınırları içinde yer alan illeri haritanın içine yerleştiriniz.➤ Bölgede bulunan önemli tarihi, doğal ve turistik varlıkları belirleyiniz.➤ Buraların en belirgin özelliklerini illere göre öğreniniz.➤ Her ildeki en önemli tarihi, doğal ve turistik varlıkları harita üzerinde gösteriniz.➤ Topladığınız bilgi ve materyaller ile rapor hazırlayınız.➤ Tüm materyallerinizi power point programına aktarınız.➤ Sınıf ortamında sunum yapabilecek tüm hazırlıklarını tamamlayınız.	<ul style="list-style-type: none">➤ Çizeceğiniz haritayı modül sonuna kadar kullanacağınız için dikkatli kullanınız.➤ Büyük Atlas'tan faydalanınız.➤ Ülke ve bölge sınırlarını belirlerken renkli ve kalın çizgiler kullanınız.➤ Harita içine illeri yerleştirirken her il için aynı sembolü kullanınız.➤ Bölgedeki tarihi, doğal ve turistik varlıkları belirlerken çeşitli renk, sembol ve simgeler kullanınız.➤ Topladığınız bilgileri derleyip rapor haline getirirken dikkat çekici anlatımlar kullanınız.➤ Sunum sırasında güler yüzlü olunuz.➤ Sunumda arkadaşlarınızdan gelebilecek sorulara karşı dikkatli ve hazırlıklı olunuz.➤ Beden dilini etkili kullanınız.➤ Canlı, hareketli ve espirtüel olunuz.➤ İnsanlarla etkili iletişim kurunuz.

ÖLÇME VE DEĞERLENDİRME

ÖLÇME SORULARI

Bu faaliyet kapsamında hangi bilgileri kazandığınızı belirleyebilmemiz için sorular verilmiştir.

Aşağıdaki sorulardan doğru olan seçeneği işaretleyiniz.

1- Bir ülkenin coğrafi konumunu aşağıdakilerden hangisi **etkilemez**?

- A) İklimini
B) Toprakların verimliliğini
C) Stratejik özelliklerini
D) Komşu ülkeler ile olan ilişkilerini

2- Türkiye kuzey yarım kürede hangi meridyenler arasındadır?

- A) 23° – 42° B) 26° – 45° C) 29° – 46° D) 27° – 45°

3- Coğrafi konum bir ülke için aşağıdakilerden hangisini açıklamaya yarar?

- A) Nüfus yoğunluğunu
B) Dünya üzerinde bulunduğu yeri açıklamaya
C) Tarımdaki gelişmişliğini
D) Kültürel gelişimini

4- Yunan mitolojisine göre, adı Uranüs'ün oğlu Adanos'tan gelen şehrimiz aşağıdakilerden hangisidir?

- A) Adana B) Hatay C) İçel D) Osmaniye

5- Köprülü Kanyon Millî Parkı hangi ilimizin sınırları içindedir?

- A) Burdur B) Kilis C) Antalya D) Isparta

6- Romalıların Pisidya (Pisidia) adını verdikleri ilimiz aşağıdakilerden hangisidir?

- A) Burdur B) Isparta C) Osmaniye D) Antalya

7- Akdeniz bölgesinde en gelişmiş turizm çeşidi aşağıdakilerden hangisidir?

- A) Deniz turizmi B) Kongre turizmi C) Sağlık turizmi D) Kültür turizmi

8- Aşağıdaki illerimizden hangisi Akdeniz Bölgesi sınırları içinde **yer alır**?

- A) Manisa B) Muğla C) Kahramanmaraş D) Uşak

DEĞERLENDİRME ÖLÇEĞİ

Bir arkadaşınız ile birlikte Türkiye Turizm Coğrafyası ve Akdeniz Bölgesi Turizm Coğrafyası ile ilgili faaliyetinizi değerlendirerek eksik veya hatalı olduğunuz konularda öğrenme faaliyetine geri dönerek konuyu tekrar ediniz.

KONTROL LİSTESİ

KRİTERLER (ÖLÇÜTLER)	Evet	Hayir
➤ Türkiye haritasını çizmek için yeterli büyüklükte karton seçtiniz mi?		
➤ Haritayı düzgün çizdiniz mi?		
➤ Fiziki harita kullandınız mı?		
➤ Haritada ülke sınırlarını doğru gösterdiniz mi?		
➤ 7 bölgenin sınırlarını doğru çizdiniz mi?		
➤ Akdeniz Bölgesi içindeki illeri uygun şekilde gösterdiniz mi?		
➤ Bölgede bulunan tarihi, doğal, turistik varlıkları doğru belirlediniz mi?		
➤ Bölgedeki önemli tarihi, doğal ve turistik varlıkları harita üzerinde çeşitli semboller ile doğru gösterdiniz mi?		
➤ Konu hakkındaki tüm bilgi ve materyallerini rapor haline getirdiniz mi?		
➤ Hazırladığınız raporu power point programına aktardınız mı?		
➤ Sınıf ortamında sunum yapabilecek tüm hazırlıkları tamamladınız mı?		

DEĞERLENDİRME

Öğrenme faaliyetinde ,evet sayıları çoğunlukta ise başarılı olduğunuz için diğer bir öğrenme faaliyetine geçebilirsiniz.Hayır'larınız çok ise öğrenme faaliyetini tekrar uygulamak için öğretmenize başvurunuz.

ÖĞRENME FAALİYETİ-2

AMAÇ

Ege Bölgesi'nin coğrafi özelliklerini, tarihi, doğal ve turistik güzelliklerini öğrenmek ve konuklara doğru olarak tanıtılabileceksiniz.

ARAŞTIRMA

Akdeniz Bölgesindeki illerin tarihî, doğal ve kültürel varlıklarını, ayrıca özelliklerini araştırınız.

Öğretmeninizin rehberliğinde, incelemeleriniz hakkında sınıfta birbirinizle bilgi alışverişinde bulununuz.

2. EGE BÖLGESİ TURİZM COĞRAFYASI

2.1. Bölgenin Coğrafi Özellikleri

Ege Bölgesi ismini, kıyı boyunca uzandığı Ege Denizinden alır. Kuzeyde, Kaz Dağı'nın güney eteklerinden; güneyde, Marmaris'in doğusuna kadar uzanan bölgenin doğu sınırından; Emir ve Sultan dağlarının doğusundan geçer. Bölge; Marmara, Akdeniz ve İç Anadolu bölgeleriyle komşudur.



Resim 6: Ege Bölgesi

2.1.1. İklimi

Bölge genelinde, Akdeniz iklimi hakimdir. Dağlar kıyıya dik uzandığından, deniz etkisi, iç kısımlara kadar sokulabilmektedir. Kıyıda, tipik Akdeniz ikliminin etkileri görülür. Yazlar sıcak ve kurak, kışlar ılıman ve yağışlıdır. İç kesimlerde ise, Akdeniz ikliminin etkileri azalır ve iklim karasallaşır. Bu kesimde, yazlar sıcak ve kurak; kışlar ise soğuk ve kar yağışlıdır. Yağışlar, genellikle kışın ve ilkbaharda artar, donma olayları sıkça görülür.

2.1.2. Ulaşımı

Bölgede dağların kıyıya dik uzanması, kıyı ile iç kesimler arasındaki kara ve demir yolu ulaşımını kolaylaştırır. Bölgenin deniz ulaşımında en önemli ticaret limanı, İzmir'dir. Ülkemizin ve bölgenin büyük kısmının ürünleri, İzmir Limanı'ndan yurt içine ve yurt dışına pazarlanır. Bölgenin diğer limanları ise genellikle turistik amaçlıdır. Ülkemizdeki ilk demir yolu hattı, bölgenin tarımsal zenginliğinden yararlanmak amacıyla, 1856 yılında İzmir-Aydın arasında yapılmıştır. Ayrıca, turist taşımacılığında çok önemli bir yere sahip olan bölgenin hava ulaşımı, İzmir, Milas ve Bodrum Hava limanları ile Ege Bölgesi sınırları içinde yer alan Körfez Hava Alanı'ndan yapılmaktadır.

2.2. Bölgenin Bölümleri, Tarihi ve Doğal Güzellikleri

2.2.1. Kıyı Ege Bölümü

Ege Bölümü, kuzeyde Kaz Dağı'na, güneyde ise Marmaris'in doğusuna kadar uzanır. Bölümü iç kesiminden, Soma ile Denizli'nin doğusu arasında çizilen bir hat ayırır. Buraya “**Kıyı Ege**” veya “**Asıl Ege Bölümü**” denir.

Ege Bölümü'nün kıyıları, çok girintili çıkıntılıdır. Kıyıda çok sayıda yarımada ve körfez vardır. Yarımadaların başlıcaları; **Karaburun, Bodrum ve Datça**'dır. Körfezler ise kuzeyden güneye doğru şunlardır: Edremit, Çandarlı, İzmir, Kuşadası, Güllük ve Gökova körfezleri

2.2.1.1. Manisa

Manisa, Magnetler tarafından, Truva Savaşları sırasında kurulmuştur. Birçok egemenlikte kaldıktan sonra, 8 Eylül 1922 tarihinde Yunan işgalinden kurtulmuş, 1923 yılında Saruhan adıyla il olmuştur. 1927 yılında da adı “Manisa” olarak değiştirilmiştir.

Manisa, çevre illere kara yolu ile bağlı olup ayrıca ilin demir yolu ulaşımı da vardır.

➤ **Manisa'daki başlıca tarihî, doğal ve turistik yerler şunlardır:**

Ulu Cami, Niobe Sardes (Sard), Muradiye Camii, Sultan Camii, İshak Bey Medresesi, Arkeoloji ve Etnoğrafya müzeleri, Manisa Kalesi, Kybele Kaya Kabartması, Spil Dağı Millî Parkı, Kurşunlu Kaplıcaları, Urganlı Kaplıcaları, Kula Emir Kaplıcaları, Sarayak Kaplıcaları, Salihli Sard Kaplıcaları bulunmaktadır.

2.2.1.2. İzmir

İzmir, ilk kez M. Ö. 3000 yılında, Truvalılar tarafından kurulmuştur. Birçok egemenlikten sonra Osmanlı döneminde adı “İzmir” olmuştur. Birinci Dünya Savaşı sonunda üç yıl Yunan egemenliğinde kalan kent, 9 Eylül 1922 tarihinde kurtarılmış ve 1923 yılında il olmuştur.

İzmir, çevre illere kara yolu ile bağlı olup deniz, hava ve demir yolu ulaşım bağlantısı da vardır.


➤ İldeki başlıca tarihi, doğal ve turistik yerler şunlardır:

Agora, Asansör, Klaros, Akropol, Kadifekale(Pagos), Bayraklı (Eski İzmir), Saat Kulesi, Arkeoloji Müzesi, Atatürk Müzesi, Konak (Yalı) Camii, Kolophon (Kolofon), Pergamon (Bergama), Bergama Müzesi, Aigai (Agayi), Çeşme Kalesi, Erythrai (Eritra), Phokaia (Fokaya), Teos, Pitane (Çandarlı), Larisa, Efes (Ephesos), Efes Arkeoloji Müzesi, Ayasulug, Meryem Ana Evi Kilisesi , İsabey Camii, Çeşmealtı Plâjı, Urla Plâjı, Karaburun Plâjı, Mordoğan Plâjı, Balıklıova Plâjı, Çeşme Plâjı, Ilıca, Şifne Plâjları, Akkum plâjları, Aliğa Plâjı, Çandarlı Plâjı, Dikili Plâjı, Foça Plâjı,, Ahmetbeyli Plâjı, Klaros Plâjı ve Selçuklu Pamucak Plajı, Balçova Kaplıcası, Güzellik Kaplıcası, Çeşme Kaplıcası, Şifne Kaplıcası, Yamanlar Dağı, Bozdağ Kayak Merkezi, Küçük Menderes ve Gediz nehirleri

2.2.1.3. Muğla

Karia bölgesinin en eski kentlerinden biri olan kent, İlk Çağ’da kurulmuştur. İlk adı “Mubella”dır. Cumhuriyet dönemine dek “Menteşe Eli” adıyla anılmış ve 1390 yılında Osmanlı topraklarına katılan kent, 1923 yılında “Muğla” adı ile il olmuştur.

Muğla, çevre illere kara yolu ile bağlıdır, ayrıca ilin hava ve deniz yolu ulaşımı da vardır.



Resim 7 Marmaris

➤ İldeki başlıca tarihî, doğal ve turistik yerler şunlardır:

Bodrum Su Altı Arkeoloji Müzesi, Telmessos, Bodrum Kalesi, Knidos, Pinara, Kaunos, Marmaris Kalesi, Milas (Mylasa), Yuromos (Euromos), Tasos (Tassos), Labranda, Beçin Kalesi, Sitratoniya (Stratonikeia) ,Lagina ,Tylos, Fethiye, Köyceğiz, Marmaris, Milas,

Bodrum, Dalyan plâjları; Bodrum, Datça, Marmaris, Köyceğiz, Göcek, Fethiye yat limanları, Fethiye’de Belceğiz, Gebeler ve Turunç Pınarı kaplıcaları; Yatağan’da Bağkaya Kaplıcası; Köyceğiz’de Girme Kaplıcaları ,Sultaniye kaplıcaları.

2.2.1.4. Denizli

Kent, 11. yüzyılda Selçuklu Türkleri tarafından kurulmuştur. Denizli, 1923 yılında il olmuştur.

Denizli, çevre illere kara yolu ile bağlıdır, ayrıca ilin hava yolu ve demiryolu ulaşımı da bulunmaktadır.



Resim 8: Pamukkale

➤ İldeki başlıca tarihî, doğal ve turistik yerler şunlardır:

Honoz Dağı Millî Parkı: Pamukkale, Karahayıt kaplıcaları, Gölemezli Çamur Kaplıcası, Yenice Kaplıcası ve Sarayköy Kaplıcaları, Diopolis (Rhoas), Selçuklulara ait Akhan Kervansarayı, Eski Denizli Mezarlığı, Yediler Türbesi, Beyce Sultan Höyüğü, Buldan yakınındaki Tripolis Laodikeia (Laodikya), ve Hierapolis, Denizli’deki Kartal Gölü, Acı Göl, Adıgüzeller Barajı, Çivril Barajı

2.2.1.5. Aydın

Kentin tarihi, M.Ö. 189 yıllarına dayanmaktadır. 7 Eylül 1922 tarihinde Yunan işgalinden kurtarılan Aydın, 1923 yılında il olmuştur.

Aydın, Karayolu ile çevre illere bağlı olup ilin demiryolu ulaşımı ve Kuşadası Limanı ile de deniz yolu ulaşımı bulunmaktadır.



Resim 9 Didyma (Didim) Apollon Tapınağı

➤ **İldeki başlıca tarihî, doğal ve turistik yerler şunlardır:**

Alabanda, Afrodisias, Üveys Paşa Camii, Alihan Kümbeti, Kurtuluş Savaşı Şehitler Anıtı, Nasuh Paşa Medresesi, Alinda, Antiokheia (Antiyokya), Küçük Ada Kalesi, Miletos (Milet), Didyma (Didim), Priene (Prien), Dilek Yarımadası Milli Parkı, Kızıldere Kaplıcası, Salavatlı Kaplıcası, Germencik Çamur Kaplıcası, Gümüşlü Kaplıcası, İmamköy Kaplıcası, Alangüllü Kaplıcası, Davutlar Kaplıcası ve Kuşadası İçmeleri, Meryem Ana Evi ve Efes Antik Kenti, Aydın Yat limanı, Kuşadası ve Didim plâjları . Aydupaşa, Mardan, Karacasu, Salıcaova yaylaları, Beydağları, Güney Şelâlesi, Büyük Menderes Irmağı

2.2.3. İç Batı Anadolu Bölümü

2.2.3.1. Afyonkarahisar

Kentin tarihi, Hititler dönemine dayanmakta ve Hititlerin Arzava Prenslığı tarafından kurulduğu sanılmaktadır. Afyon'un eski adı, "Akroenos"tur. Kent, 1921 ve 1922 yıllarında iki kez Yunan işgaline uğramış, Başkumandanlık Meydan Savaşı ile işgalden kurtarılmış ve 1923 yılında il olmuştur. Bol miktarda "afyon" yetiştirildiği için Cumhuriyet döneminde "Afyonkarahisar" adını almıştır.

Afyonkarahisar, çevre illere kara yolu ile bağlı olup ilin demiryolu ulaşımı da bulunmaktadır.

➤ **İldeki başlıca tarihî, doğal ve turistik yerler şunlardır:**

Afyon Arkeoloji Müzesi, Afyon Kalesi, Aslankaya, Aslantaş, Çavdarlı Höyük, İmaret Camii, Ulu Cami, İstiklâl Harbi Müzesi, Kocatepe Anıtı, Zafer Anıtı, Sinan Paşa Camii, Sahip Ata Kervansarayı, Başkomutan Tarihî Millî Parkı, Eber Gölü ve Dandindere, Gazlı Göl Kaplıcası , Gecek Kaplıcası, Ömerli Kaplıcası, Hüdai Kaplıcası, Heybeli Kaplıcaları .

2.2.3.2. Kütahya

Kütahya, Germiyanogullarının 157 yıl boyunca başkenti olmuş ve Selçuklulardan beri çinileri ile ün salmıştır. Kütahya M.Ö. 1500 yılında kurulmuş ve adını Kotys'in şehri

anlamına gelen Kotiaieion (Kotiyon)'dan alınmıştır. 30 Ağustos 1922 yılında Yunan işgalinden kurtarılan kent 1923 tarihinde il olmuştur.

Kütahya, kara ve demir yolu ile çevre illere bağlıdır.

➤ **İldeki başlıca tarihî, doğal ve turistik yerler şunlardır:**

Aezani, Ulu Camii ve Kitaplığı, İshak Fakih Camii ve medresesi, Vahit Paşa Kitaplığı, imaret Mescidi, Hisarlı Camii, Balık, Hatunya ve Özbek camii'leri, Hüseyin Paşa Külliyesi, Emet (Tiberipolis) Antik Kenti, Macar Evi, Vacidiye Medresesi, Kütahya Kaplıcaları, Harlek Kaplıcaları, Yoncalı Kaplıcaları, Tavşanlı Göbel Kaplıcaları, Gediz Kaplıcaları, Murat Dağı Kaplıcaları, Yeşil ve Kaynarca kaplıcaları ,Eynal Naşa Kaplıcaları .

2.2.3.3. Uşak

İl çevresinde çok eski dönemlere ait yerleşim merkezleri olmasına rağmen yeni kurulan bir şehirdir. 1 Eylül 1922'de Yunan işgalinden kurtulan kent 1923 yılında il olmuştur.

İl kara yolu ile çevre illere bağlı olup ayrıca demir yolu ulaşımı da vardır.

➤ **İldeki başlıca tarihî, doğal ve turistik yerler şunlardır:**

Ulu Cami, Selçuklar, Banaz'ın Ahlat köyündeki Flaviapolis, Eşme'deki Katakekomone antik kentleri, Selçuklar ve Süleymanlı köylerindeki tarihî eserler, Burmalı Cami, Gögem Zafer Anıtı, Emirfakih Kaplıcaları, Aksaz Kaplıcaları ve Hamamboğazi Kaplıcaları

2.3. Ege Bölgesinin Türkiye Turizmindeki Yeri ve Önemi

Ege Bölgesi, ülkemizin en önemli turizm alanlarından biridir. İklimin elverişli olması, birçok kumsalının bulunması, kaplıcaları, doğal güzellikleri ve tarihi eserleriyle yerli ve yabancı turistlerin ilgisini çekmektedir. Son yıllarda konaklama tesislerinin sayıca artması, bölge turizmini daha da canlandırılmıştır.



Resim 10: Tylos

İzmir'de her yıl açılan Uluslararası İzmir Fuarı, bölgeye ticaret ve turizm bakımından önemli bir canlılık katmaktadır. Manisa'da düzenlenen mesir macunu şenlikleri, özellikle çevreden gelenlerin ilgiyle izledikleri olaylardır.

UYGULAMA FAALİYETİ

Ege Bölgesi'nin illerini, tarihi, doğal ve turistik varlıklarını araştırarak elde ettiğiniz dökümanları değerlendirerek elektronik ortamda power point sunusu hazırlayarak arkadaşlarınıza ve öğretmeninize sununuz.

İşlem basamakları	Öneriler
<ul style="list-style-type: none">➤ Harita üzerinde çalışırken fiziki harita kullanınız.➤ Ege Bölgesi sınırları içinde yer alan illeri haritanın içine yerleştiriniz.➤ Bölgede bulunan önemli tarihi, doğal ve turistik varlıkları belirleyiniz.➤ Buraların en belirgin özelliklerini illere göre öğreniniz.➤ Her ildeki en önemli tarihi, doğal ve turistik varlıkları harita üzerinde gösteriniz.➤ Topladığınız bilgi ve materyaller ile rapor hazırlayınız.➤ Tüm materyallerinizi power point programına aktarınız.➤ Sınıf ortamında sunum yapabilecek tüm hazırlıklarını tamamlayınız.	<ul style="list-style-type: none">➤ Çizeceğiniz haritayı modül sonuna kadar kullanacağınız için dikkatli kullanınız.➤ Büyük Atlas'tan faydalanınız.➤ Harita içine illeri yerleştirirken her il için aynı sembolü kullanınız.➤ Bölgedeki tarihi, doğal ve turistik varlıkları belirlerken çeşitli renk, sembol ve simgeler kullanınız.➤ Topladığınız bilgileri derleyip rapor haline getirirken dikkat çekici anlatımlar kullanınız.➤ Sunum sırasında güler yüzlü olunuz.➤ Sunumda arkadaşlarınızdan gelebilecek sorulara karşı dikkatli ve hazırlıklı olunuz.➤ Beden dilini etkili kullanınız.➤ Canlı, hareketli ve esprituël olunuz.➤ İnsanlarla etkili iletişim kurunuz.

ÖLÇME VE DEĞERLENDİRME

ÖLÇME SORULARI

Bu faaliyet kapsamında hangi bilgileri kazandığınızı belirleyebilmeniz için sorular verilmiştir.

Aşağıdaki sorulardan doğru olan seçeneği işaretleyiniz.

- 1- Aşağıdakilerden hangisi Ege Bölgesine komşu olan bölgelerden biri **değildir**?
A) Marmara Bölgesi B) Doğu Anadolu Bölgesi
C) Akdeniz Bölgesi D) İç Anadolu Bölgesi
- 2- Ege Bölgesi'nin kıyı kesimlerinde hakim olan iklim tipi aşağıdakilerden hangisidir?
A) Akdeniz iklimi B) Karadeniz iklimi C) Karasal iklim D) Kurak iklim
- 3- Aşağıdaki körfezlerden hangisi Ege Bölgesinde **değildir**?
A) İzmir Körfezi B) Güllük Körfezi C) Saroz Körfezi D) Çandarlı Körfezi
- 4- Aşağıda sayılan Muğla ilçesine bağlı ilçelerden hangisinde yat turizmi için uygun yat limanı **bulunmamaktadır**?
A) Marmaris B) Fethiye C) Bodrum D) Dalaman
- 5- Hieropolis antik kenti hangi il sınırlarımız içinde yer alır?
A) Muğla B) Uşak C) Denizli D) Aydın
- 6- Sınırları içinde, Tiberipolis antik kentini ve Vacidiye Medresesi'ni barındıran ve Germiyanogullarının 157 yıl boyunca başkenti olmuş ilimiz aşağıdakilerden hangisidir?
A) Kütahya B) Uşak C) Denizli D) Malatya
- 7- Pamukkale ve Karahayıt Kaplıcaları aşağıdaki illerden hangisinde bulunmaktadır?
A) Muğla B) Aydın C) Afyonkarahisar D) Denizli
- 8- Aşağıdaki illerimizden hangisi Ege Bölgesi sınırları içinde **yer almaz**?
A-) Uşak B-) Denizli C-) İzmir D-) Antalya

DEĞERLENDİRME ÖLÇEĞİ

KONTROL LİSTESİ

KRİTERLER (ÖLÇÜTLER)	EVET	HAYIR
➤ Ege Bölgesi içindeki illeri uygun şekilde gösterdiniz mi?		
➤ Bölgede bulunan tarihi, doğal ve turistik varlıkları doğru belirlediniz mi?		
➤ Bölgedeki önemli tarihi doğal turistik varlıkları harita üzerinde çeşitli semboller ile doğru gösterdiniz mi?		
➤ Konu hakkındaki tüm bilgi ve materyallerini rapor haline getirdiniz mi?		
➤ Hazırladığınız raporu power point programına aktardınız mı?		
➤ Sınıf ortamında sunum yapabilecek tüm hazırlıkları tamamladınız mı?		

DEĞERLENDİRME

Öğrenme faaliyetinde ,evet sayıları çoğunlukta ise başarılı olduğunuz için diğer bir öğrenme faaliyetine geçebilirsiniz.Hayır'larınız çok ise öğrenme faaliyetini tekrar uygulamak için öğretmenize başvurunuz.

ÖĞRENME FAALİYETİ-3

AMAÇ

Marmara Bölgesi'nin coğrafi özelliklerini, tarihi, doğal ve turistik güzelliklerini konuklara doğru olarak tanıtılabileceksiniz.

ARAŞTIRMA

Marmara Bölgesindeki illerin tarihî, doğal ve kültürel varlıklarını, ayrıca özelliklerini araştırınız.

Öğretmeninizin rehberliğinde, incelemeleriniz hakkında sınıfta birbirinizle bilgi alışverişinde bulununuz.

3. MARMARA BÖLGESİ TURİZM COĞRAFYASI

3.1. Bölgenin Coğrafi Özellikleri

Marmara Bölgesi ülkemizin kuzey batısını oluşturur. Bölgenin doğusu Karadeniz ve İç Anadolu bölgeleriyle; güneyi, Ege Bölgesi'yle; batısında Ege Denizi ile; kuzeybatısı, Yunanistan ve Bulgaristan ile; kuzeyi, Karadeniz'le çevrilidir. Bölgeye adını veren Marmara Denizi bölge sınırları içinde yer alır. Marmara Denizi, İstanbul Boğazı ile Karadeniz'e, Çanakkale Boğazı ile Ege denizine bağlıdır. Yurdumuzun, İstanbul Boğazı'nın batısında, Marmara denizi ve Çanakkale Boğazı'nın kuzeyinde kalan topraklarına **Trakya** adı verilir. Boğazlar ve

Marmara Denizi, aynı zamanda Asya ile Avrupa topraklarımız arasındaki sınırları meydana getirir.



Resim 11: Marmara Bölgesi

3.1.1. İklimi

Marmara Bölgesi, iklim bölgeleri arasında bir geçiş alanıdır. Genel olarak Akdeniz iklimi ile Karadeniz iklimi arasında bir iklim hakimdir. Yağış ve sıcaklık durumu, bu iklimler arasındadır. Bölgenin güney kesimleri daha çok Akdeniz ikliminin; kuzey kesimleri de Karadeniz ikliminin özelliklerini yansıtır. Bölgenin iç kesimleri, bilhassa Ergene Havzası, karasal iklim özelliği gösterir. Bölge, en çok yağışı kışın alır. Yıllık ortalama sıcaklık Akdeniz ve Ege bölgelerine göre düşüktür. Trakya’da kışlar daha soğuk, yazlar daha sıcaktır.

3.1.2. Ulaşımı

Marmara, Bölgenin ortasında bulunan Marmara Denizinin ortalama derinliği 200 m. civarındadır. Karadeniz ile Ege Denizini boğazlarla birbirine bağlar; bu bakımdan önemli bir su yoludur. Marmara Denizinde birçok ada bulunmaktadır. Bunların en büyüğü, **Marmara Adası**’dır. Marmara Denizi turizm bakımından büyük önem taşır; kıyıları, deniz turizmine çok uygundur.

Marmara Bölgesi; kara, hava, deniz ve demir yolu ulaşımı bakımından zengin bir ağa sahiptir. Bu bölgemiz Anadolu ve Trakya yarımadaları ile Avrupa ve Asya arasında bir geçiş alanıdır. Bilhassa İstanbul Boğazı üzerindeki köprülerle, Karadeniz ile Ege denizini birbirine bağlayan İstanbul ve Çanakkale boğazları, bölgeye ulaşım bakımından büyük kolaylık sağlar. Bunların yanında, yurdumuzun en işlek kara ve demir yolları da bölge üzerinden geçer.

3.2. Bölgenin Bölümleri, Tarihi ve Doğal Güzellikleri

3.2.1. İstanbul Bölümü

Kenti, M.Ö. 657 yılında Megaralı Bizans’ın kurduğu sanılmaktadır. Bu nedenle ilk ismi, “Byzantion”dur. Çeşitli zamanlarda kuşatılan ancak alınamayan kenti, 1453 yılında Fatih Sultan Mehmet aldığı anda adı, “İstanbul” olarak değiştirilmiştir. Kent, 1922 yılına kadar Osmanlı İmparatorluğu’nun başkenti olmuştur. 1920 yılında, İtilaf Devletleri tarafından işgal edilen İstanbul, 6 Ekim 1923 tarihinde işgalden kurtarılmıştır.

İstanbul; kara, hava, deniz ve demir yolu ulaşımının yalabildiği bir kenttir.



Resim 12 :İstanbul/Kız Kulesi

➤ **İldeki başlıca tarihî, doğal ve turistik yerler şunlardır:**

İldeki diğer eserler arasında Alman Çeşmesi, Azapkapı Çeşmesi, Beyazıt Kulesi, Ayasofya Müzesi, Kariye Müzesi, Fenari İsa Camii, Küçük Ayasofya Camii yer almaktadır. Ayrıca Hıka-ı Şerif Camii, Kılıç Ali Paşa Camii, Süleymaniye Camii, Sultan Ahmet Külliyesi Camii, Şehzade Camii, Fethiye Cami de önemli eserler arasındadır.

Su tesisleri arasında Bozdoğan Su Kemerı, Yerebatan Sarnıcı (Sarayı), Binbirdirek Sarnıcı yer almaktadır. Mazlum Kemerı, Eğri Kemer, Aspar Sarnıcı, İsa Sarnıcı, Atatürk Bulvarı Sarnıcı, Sarayburnu Sarnıcı İstanbul'daki Bizans dönemine ait diğer su depolarıdır.



Resim13: Topkapı Müzesi

İstanbul'daki Anıtlara örnek olarak; At Meydanı (Hipodrom), Gotlar Sütunu Arkadius Sütunu, Çemberli Taş, Kız Taşı, Kız Kulesi, Surlar, Galata Kulesi verilebilir.

Osmanlı Dönemi sarayları arasında; Topkapı Sarayı ve Müzesi, Dolmabahçe Sarayı, Beylerbeyi Sarayı, Çırağan Sarayı, Yıldız Sarayı yer almaktadır.

Kapalı Çarşı, Mısır Çarşısı, Ayasofya Türbeleri, Eyüp Sultan Türbesi, Anadolu Hisarı, Rumeli Hisarı, Yedi Kule Hisarı da tarihi eserlerdendir.

Arkeoloji Müzesi, Askeri Müze, Türk İslam Eserleri Müzesi, Deniz Müzesi, Tanzimat Müzesi, Aşiyen Müzesi İstanbul'daki müzelerden sadece birkaçıdır.

Lütfi Kırdar Kongre Sarayı, İstanbul'daki en önemli kongre turizm merkezidir.

Şile, Kilyos, Ağva, Küçük Çekmece, Büyük Çekmece ve Adalar'da plajlar bulunmaktadır. Fenerbahçe ve Ataköy Yat Limanları da yatçıları ağırlamaktadır.

İstanbul'da doğal güzelliklere sahip diğer gezi ve dinlenme yerleri şunlardır: Adalar, Yıldız Parkı, Emirgan Korusu, Gülhane Parkı, Belgrad Ormanı, Çamlıca, Taşdelen, Polonezköy, Piyerloti Kahvesi, Kilyos ve Şile

3.2.2. Trakya Bölümü

3.2.2.1. Tekirdağ

1371 yılında Türklerin eline geçen kente, Tekfur kelimesinden gelme "Tekfurdağı" adı verilmiştir. Kentin adı, 1917 yılında "Tekirdağ" olarak değiştirilmiştir. Kent, 13 Kasım 1922'de işgalden kurtulmuş ve 1923 yılında ise il olmuştur. Tekirdağ, kara yolu ile çevre illere bağlıdır.

➤ **İldeki başlıca tarihî, doğal ve turistik yerler şunlardır:**

Rüstem Paşa Camii, Prens Rakoczy (Rakosi) Evi, Namık Kemal Anıtları, Hürriyet Anıtı, Tekirdağ Müzesi bunlardan bazılarıdır. Bunların dışında il çevresinde; kale, cami, medrese ve türbe gibi birçok eser bulunmaktadır. Kumbağ ve Şarköy kıyıları, deniz turizmüne oldukça elverişlidir.

3.2.2.2. Edirne

Kent, M.Ö. X. yüzyılda Odrissiler tarafından kurulmuştur. 25 Kasım 1922 tarihinde Yunan işgalinden kurtarılan kent, 1923 yılında il olmuştur.

Edirne kara yolu ile çevre illere bağlıdır, ayrıca ilin demir yolu ulaşımı da bulunmaktadır.

Türkiye'nin Avrupa'ya açılan kapısı durumundaki Kapıkule Gümrük Kapısı Edirne'de bulunmaktadır. Avrupa'ya giriş ve çıkışlar buradan yapılmaktadır.

➤ **İldeki başlıca tarihî, doğal ve turistik yerler şunlardır:**

Selimiye Camii, Üç Şerefeli Cami, II. Beyazıt Külliyesi, Sarayıçi (Kırkpınar), Arkeoloji Müzesi, Bedesten, Saroz Körfezi bunlardan bazılarıdır.

Ayrıca Gala Gölü, Altinyazı Barajı, Tunca ve Meriç nehirleri Edirne'deki doğal güzellikleri olan gezi yerlerindedir.

3.2.2.3. Kırklareli

Kentin ne zaman kurulduğu kesin olarak bilinmemektedir. 10 Kasım 1922 tarihinde Yunan işgalinden kurtarılan kent, 1923 yılında il olmuştur. Kırklar Şehitlerinden dolayı ismi Kırklareli olarak değiştirilmiştir.

Kırklareli, kara yolu ile çevre illere bağlanmıştır.

➤ **İldeki başlıca tarihi, doğal ve turistik yerler şunlardır:**

Hızır Bey Camii, Beyazıt Camii, Sokullu Mehmet Paşa Camii, Alpulu Köprüsü gibi. Kasatura Körfezi ve Saka Gölü Kırklareli'nin kıyı turizmi için İğneada Plâjı, Kıyıköy Plajı ve İatros Plajı

3.2.3. Bursa, Balıkesir ve Çanakkale Bölümü

3.2.3.1. Bursa

Kentin kuruluşu M.Ö. 550 yılına dayanmaktadır. 1922'de Yunan işgalinden kurtulan Bursa 1923 yılında il olmuştur.

Bursa, çevre illere kara yolu ile bağlı olup ayrıca ilin hava yolu ulaşımı bulunmaktadır. Bursanın denizle bağlantısını Mudanya ve Gemlik sağlar.



Resim14 Yeşil Türbe

➤ **İldeki başlıca tarihi, doğal ve turistik yerler şunlardır:**

Arkeoloji müzesi, Muradiye Camii, Yeşil Camii, Osman Gazi ve Orhan Gazi Türbeleri, Yeşil Türbe, Çekirge Kaplıcaları, Mudanya Mütarekesi Müzesi. Bursa'nın denizle bağlantısını Mudanya ve Gemlik sağlar. İznik ve Ulubat Gölü'nde ise doğal güzelliklere sahip gezi ve piknik yerleri bulunmaktadır.

Ayrıca Uludağ, Bursa'nın sembolü olmuş, yaz aylarında dağcılık, kampçılık kış aylarında ise kayak sporları yapılmaktadır.

3.2.3.3. Balıkesir

Kentin kuruluşu, 1303 yıllarına dayanmaktadır. 6 Eylül 1922 tarihinde Yunan işgalinden kurtarılan ve ismi "Karasi" olan kent, 1923 yılında il olup ismi "Balıkesir" olarak değiştirilmiştir.

Balıkesir, kara yolları ile çevre illere bağlı olup ayrıca ilin demir yolu, deniz yolu ve hava yolu ulaşimleri da bulunmaktadır.

➤ **İldeki başlıca tarihî, doğal ve turistik yerler şunlardır:**

Zağnos Paşa Camii, Karasi Bey Türbesi, Kadıköy Kulesi, Antandros, Erdek Açık Hava Müzesi, Kuş Cenneti Millî Parkı, Gönen Kaplıcaları.

Balıkesir, Marmara ve Ege Denizlerine kıyısı olması sebebiyle kıyı turizmi açısından büyük öneme sahiptir. Marmara kıyısında Erdek, Avşa Adası, Zeytinli Ada; Ege kıyısında Ayvalık, Ören, Burhaniye gerek doğal güzellikleri gerekse güzel plajları ile önemli turizm merkezlerindedir.

3.2.3.4. Çanakkale

Çanakkale'nin tarihi, M.Ö. 3000 yılına kadar dayanmaktadır. Türk ordusunun 1915'de "Çanakkale Geçilmez" destanının yazıldığı bu kent, 1926 yılında il olmuştur.

Çanakkale, çevre illere deniz yolu ile bağlı olup ayrıca ilin deniz yolu ulaşımı da bulunmaktadır.



Resim15: Truva (Troya)

➤ **İldeki başlıca tarihi, doğal ve turistik yerler şunlardır:**

Çanakkale Anıtları, Çanakkale Kaleleri, Truva (Troya), Dardanos Tümülüsü, Assos, Zeus Altarı, Namık Kemal'in Mezarı, Gelibolu Yarımadası Tarihi Millî Parkı, Kestanbol Kaplıcası, Külcüler Kaplıcası.

3.2.4. Kocaeli, Adapazarı ve Bilecik Bölümü

3.2.4.1. Kocaeli (İzmit)

Kocaeli, Bithinya Kralı I. Nicomedes tarafından, M.Ö. 262 yılında kurulmuş olup ilk adı "Nikomedia" (Nicomedia)'dir. 27 Haziran 1921 tarihinde düşman işgalinden kurtarılan Kocaeli 1923 yılında il olmuştur.

Kocaeli, kara yolu ile çevre illere bağlı olup ayrıca, ilin demir yolu ve deniz yolu ulaşımı da kullanılmaktadır.

➤ **İldeki başlıca tarihi, doğal ve turistik yerler şunlardır:**

İzmit Arkeoloji Müzesi, Orhan Camii, Saat Kulesi kentteki önemli eserlerdendir.

Marmara Denizinde; Bayramoğlu ve Darıca kıyıları, Sapanca gölü kıyıları ve Karadeniz-Kandıra kıyılarında plajlar bulunmaktadır.

Kartepe Kayak Merkezi Balıklayalar ve Beşkayalar doğa parkı da önemli gezi yerlerindedir.

3.2.4.2. Sakarya (Adapazarı)

İl, 14. yüzyılda Osmanlılar döneminde kurulmuştur. Adını kentin yakınından geçen Sakarya ırmağından alan Sakarya, 1954 yılında il olmuştur.

Sakarya çevre illere kara ve demir yolu ağı ile bağlıdır.

➤ **İldeki başlıca tarihi, doğal ve turistik yerler şunlardır:**

Beşköprü, Elvanbey İmaret, Rüstem Paşa Camii, Kuzucuk Kaplıcası önemli tarihi eserlerdendir. Ayrıca, Sapanca gölü, küçük bir deniz gibi olup çevresinde kamp kurmaya elverişli piknik alanları, gezi ve dinlenme yerleri bulunmaktadır.

3.2.4.3. Bilecik

M.S. III. yüzyılda kurulan ilin eski adı "Agrilion" olarak bilinmektedir. 6 Eylül 1922 tarihinde Yunan işgalinden kurtarılan kent 1923 yılında "Bilecik" adı ile il olmuştur.

Bilecik çevre illere kara yolu ile bağlı olup ayrıca, ilin demir yolu ulaşımı da bulunmaktadır.

➤ **İldeki başlıca tarihi, doğal ve turistik yerler şunlardır:**

Şeyh Edebali Türbesi, Orhan Gazi Camii, Osman Gazi Camii, Saat Kulesi, Belekoma Kalesi ve Ertuğrul Gazi Türbesi.

3.2.4.4. Yalova

Kuruluşu M.Ö. 3000 yılına dayanan ve önceleri Bursa'ya bağlı olan Yalova, 1995 yılında il olmuştur.

İl, kara yolu ile çevre illere bağlı olup ayrıca, ilin deniz yolu ulaşımı da bulunmaktadır.

➤ **İldeki başlıca tarihi, doğal ve turistik yerler şunlardır:**

Termal Kaplıcalar, Paşa iskelesi Tepesi, Çiftlikköy, Yalova Kaplıcaları, Çınarcık ve Armutlu'nun doğal kıyıları, turizme cevap veren yerlerdendir.

3.3. Marmara Bölgesi'nin Türkiye Turizmindeki Yeri ve Önemi

Marmara Bölgesi; doğal güzellikleri, tarihî eserleri ve turistik varlıkları ile Türkiye'nin ve dünyanın sayılı turizm merkezlerindedir. Doğal güzellikler ve tarihî eserler yönünden oldukça zengin olan İstanbul ve Bursa, bölge sınırları içinde yer almaktadır. Bölge her yıl yerli ve yabancı turistleri ağırlamaktadır. Ayrıca, Avrupa'yı Orta Doğu'ya bağlayan İstanbul ve Çanakkale Boğazlarının burada yer alması, turizmin canlanmasına önemli katkı sağlamaktadır.

UYGULAMA FAALİYETİ

Marmara Bölgesi'nin illerini, tarihi, doğal ve turistik varlıklarını araştırarak elde ettiğiniz dökümanları değerlendirerek elektronik ortamda power point sunusu hazırlayarak arkadaşlarınıza ve öğretmeninize sununuz.

İşlem Basamakları	Öneriler
<ul style="list-style-type: none">➤ Harita üzerinde çalışırken fiziki harita kullanınız.➤ Marmara Bölgesi sınırları içinde yer alan illeri haritanın içine yerleştiriniz.➤ Bölgede bulunan önemli tarihi, doğal ve turistik varlıkları belirleyiniz.➤ Buraların en belirgin özelliklerini illere göre öğreniniz.➤ Her ildeki en önemli tarihi, doğal ve turistik varlıkları harita üzerinde gösteriniz.➤ Topladığınız bilgi ve materyaller ile rapor hazırlayınız.➤ Tüm materyallerinizi power point programına aktarınız.➤ Sınıf ortamında sunum yapabilecek tüm hazırlıklarınızı tamamlayınız.	<ul style="list-style-type: none">➤ Çizeceğiniz haritayı modül sonuna kadar kullanacağınız için dikkatli kullanınız.➤ Büyük Atlas'tan faydalanınız.➤ Harita içine illeri yerleştirirken her il için aynı sembolü kullanınız.➤ Bölgedeki tarihi, doğal ve turistik varlıkları belirlerken çeşitli renk, sembol ve simgeler kullanınız.➤ Topladığınız bilgileri derleyip rapor haline getirirken dikkat çekici anlatımlar kullanınız.➤ Sunum sırasında güler yüzlü olunuz.➤ Sunumda arkadaşlarınızdan gelebilecek sorulara karşı dikkatli ve hazırlıklı olunuz.➤ Beden dilini etkili kullanınız.➤ Canlı, hareketli ve espritel olunuz.➤ İnsanlarla etkili iletişim kurunuz.

ÖLÇME VE DEĞERLENDİRME

ÖLÇME SORULARI

Bu faaliyet kapsamında hangi bilgileri kazandığınızı belirleyebilmeniz için sorular verilmiştir.

Aşağıdaki sorulardan doğru olan seçeneği işaretleyiniz.

1- Trakya Bölümü hangi coğrafi bölgemiz sınırları içindedir?

- A) Ege Bölgesi B) Marmara Bölgesi C) Karadeniz Bölgesi D) Akdeniz Bölgesi

2- Marmara Bölgesi'nin güney kesiminde hakim olan iklim tipi aşağıdakilerden hangisidir?

- A) Karasal iklim B) Karadeniz iklimi C) Akdeniz iklimi D) Kurak iklim

3- Aşağıdakilerden hangisi İstanbul'da bulunan Bizans Dönemi eserlerinden **biri değildir**?

- A) Yerebatan Sarnıcı B) Galata Kulesi C) Ayasofya Müzesi D) Mısır Çarşısı

4- Lütü Kırđar Kongre ve Sergi Sarayı aşağıdaki illerimizin hangisindedir?

- A) Bursa B) Tekirdağ C) Edirne D) İstanbul

5- Aşağıdakilerden hangisi Tekirdağ ilinde bulunan turistik değerlerden biri **değildir**?

- A) Ayasofya Cami B) Rüstem Paşa Cami C) Şarköy D) Namık Kemal Anıtı

6- Aşağıdakilerden hangisi İstanbul'da bulunan, doğal güzelliklere sahip , gezi ve dinlenme yerlerinden biri **değildir**?

- A) Belgrad Ormanı B) Çamlıca C) Kumbağ D) Gülhane Parkı

7- Aşağıdakilerden hangisi Sakarya ilinin turistik değerlerinden biri **değildir**?

- A) Kuzucuk Kaplıcası B) Sapanca Gölü C) Paşa İskelesi D) Elvenbey İmaretı

8- Aşağıdakilerden hangisi Bursa'da bulunan doğal güzelliklerimizden **değildir**?

- A) Tahir Yaylası B) Ulubat Gölü C) İznik Gölü D) Uludağ Millî parkı

DEĞERLENDİRME ÖLÇEĞİ

KONTROL LİSTESİ

KRİTERLER (ÖLÇÜTLER)	EVET	HAYIR
➤ Marmara Bölgesi içindeki illeri doğru bir şekilde gösterdiniz mi?		
➤ Bölgede bulunan tarihi, doğal ve turistik varlıkları doğru belirlediniz mi?		
➤ Bölgedeki önemli tarihi doğal turistik varlıkları harita üzerinde çeşitli semboller ile doğru gösterdiniz mi?		
➤ Konu hakkındaki tüm bilgi ve materyallerini rapor haline getirdiniz mi?		
➤ Hazırladığınız raporu power point programına aktardınız mı?		
➤ Sınıf ortamında sunum yapabilecek tüm hazırlıkları tamamladınız mı?		

DEĞERLENDİRME

Öğrenme faaliyetinde ,evet sayıları çoğunlukta ise başarılı olduğunuz için diğer bir öğrenme faaliyetine geçebilirsiniz.Hayır'larınız çok ise öğrenme faaliyetini tekrar uygulamak için öğretmenize başvurunuz.

ÖĞRENME FAALİYETİ-4

AMAÇ

İç Anadolu Bölgesi'nin coğrafi özelliklerini, tarihi, doğal ve turistik güzelliklerini öğrenecek ve konuklara doğru olarak tanıtabileceksiniz.

ARAŞTIRMA

İç Anadolu Bölgesindeki illerin tarihî, doğal ve kültürel varlıklarını, ayrıca özelliklerini araştırınız.

Öğretmeninizin rehberliğinde, incelemeleriniz hakkında sınıfta birbirinizle bilgi alışverişinde bulununuz.

4. İÇ ANADOLU BÖLGESİ TURİZM COĞRAFYASI

4.1. Bölgenin Coğrafi Özellikleri

Yurdumuzun orta bölümünde yer alan İç Anadolu Bölgesi'ne, konumundan dolayı, “Orta Anadolu Bölgesi” de denmektedir. Bu bölgemiz Güneydoğu Anadolu Bölgesi dışındaki diğer bütün bölgelerimizle ortak sınırlara sahiptir.

4.1.1. İklimi

İç Anadolu Bölgesi'nde karasal iklim görülmektedir. Yazlar sıcak ve kurak; kışlar ise soğuktur. Yağışın en çok düştüğü mevsim, ilkbahardır. Kışın daha çok kar yağmakta ve yağın kar, uzun süre yerde kalmaktadır. Gece – gündüz ve yaz - kış arasındaki sıcaklık farkı, oldukça fazladır.



Resim 16: İç Anadolu Bölgesi

4.1.2. Ulaşımı

İç Anadolu Bölgesi, bulunduğu konum ve yer şekillerinin uygun olması dolayısı ile zengin bir ulaşım ağına sahiptir. Kara, hava ve demir yolları bakımından yurdumuzun birçok bölgesinin kavşağı durumundadır. Bu bölgeden yurdun her tarafına kolayca ulaşım sağlanabilmektedir. Başkent Ankara'nın İç Anadolu Bölgesi'nde oluşu, bu özelliğin kazanılmasında önemli rol oynar.


4.2. Bölgenin Bölümleri, Tarihi ve Doğal Güzellikleri

4.2.1. Ankara Bölümü

4.2.1.1. Ankara

M.Ö. 8. yüzyılda, Frigyalılar tarafından Ankuva adlı Hitit kentinin yerine kurulan kent, 13 Ekim 1923 tarihinde Türkiye Cumhuriyeti'nin başkenti olmuştur.

Ankara çevre illere kara yolu ile bağlı olup ayrıca ilin hava yolu ve demir yolu ulaşımı da bulunmaktadır.



Resim17 :Anadolu Uygarlıkları Müzesi

➤ İldeki başlıca tarihî, doğal ve turistik yerler şunlardır:

Ankara Kalesi, Ogüst (Augustus) Tapınağı, Gordion, Gâvurkale, Roma Hamamı, Anıtkabir, Kurtuluş Savaşı Müzesi, Bilim-Teknoloji ve Tabiat Tarihi Müzesi, Anadolu medeniyetleri müzesi, Hacı Bayram Camii, Akköprü, Ayaş Kaplıcası, Soğuksu Millî Parkı.

Bunların dışında; Atatürk Orman Çiftliği, Çubuk Barajı, Gölbaşı, Atakule, Beynam Ormanları da Ankara'daki gezi ve dinlenme yerleri arasında gösterilebilir.

4.2.1.2. Eskişehir

Kentteki ilk yerleşimin M.Ö. 3900 yıllarında olduğu tahmin edilmektedir. 2 Eylül 1922 tarihinde Yunan işgalinden kurtarılan kent 1923 yılında il olmuştur.

İlin kara yolu ve demir yolu ulaşımı vardır.

➤ **İldeki başlıca tarihî, doğal ve turistik yerler şunlardır:**

Yazılı Kaya (Midas Kenti), Pessinus Kenti, Yunus Emre Anıt Mezarı, Arkeoloji Müzesi, Atatürk ve Kültür Müzesi, Hasırca Kaplıcası, Çardak Kaplıcası, Sakarılıca Kaplıcası

4.2.1.3. Kırıkkale

Cumhuriyet döneminde, 1925 yılında kurulmuş olan kent, adını civarındaki eski bir kaleden almıştır. Kent, 1989 yılında il olmuştur.

İl, kara yolu ile çevre illere bağlı olup ayrıca, demir yolu ile de doğu ve batı ulaşımını sağlamaktadır.

➤ **İldeki başlıca tarihî, doğal ve turistik yerler şunlardır:**

Hasandede Camii ve Türbesi, Eccobriga Antik Kenti, Karababa Türbesi, Küçük Şamil Camii ve Türbesi

4.2.1.4. Çankırı

Çankırı çevresine ilk yerleşenler, Hititlerdir. Kent 1923 yılında il olmuştur.

Çankırı, çevre illere kara yolu ile bağlı olup ayrıca, ilin demir yolu ulaşımı da vardır.

➤ **İldeki başlıca tarihî, doğal ve turistik yerler şunlardır:**

Çankırı Kalesi, Taş Mescit, Ulu Camii, Çavundur Kaplıcası, Ilgaz Dağı

4.2.1.5. Konya

Konya'nın tarihi, M.Ö. 2600 yılına kadar uzanmaktadır. 1397 yılında Karamanoğullarından alınan kent, 1923 yılında il olmuştur.

Konya, çevre illere kara yolu ile bağlı olup ayrıca, ilin hava yolu ve demir yolu ulaşımı da bulunmaktadır.

➤ **İldeki başlıca tarihî, doğal ve turistik yerler şunlardır:**

İnce Minareli Medrese, Sırçalı Medrese, Çatalhöyük, İvriz Kabartması, Kubadabâd Sarayı, Beyşehir Gölü Millî Parkı.

Bunların dışında; Meke Gölü, Meram Bağları, Akgöl, Yerköprü Mağarası Konya'daki gezi ve dinlenme yerlerinden sayılabilir.

4.2.1.6. Karaman

Kentin kuruluş tarihi, Hititlere dayanmaktadır. Karaman, Türkçenin ilk defa resmî dil olarak kabul edildiği yerdir. Kent 21 Haziran 1989 tarihinde il olmuştur.

İl, kara yolu ile çevre illere bağlı olup ayrıca, demir yolu ile de doğu batı ulaşımını sağlamaktadır.

➤ **İldeki başlıca tarihî, doğal ve turistik yerler şunlardır:**

Karaman Kalesi, Ermenek Kalesi, Yunus Emre Camii ve Türbesi, Alahan, Görmel Köprüsü, Manazan Mağarası, Divle Obruğu

4.2.2. Kapadokya Bölümü

4.2.2.1. Nevşehir

Kentin kimler tarafından kurulduğu bilinmemektedir. İlk adı Nissa'dır. Nevşehir 1923 yılında Kırşehir'e bağlı ilçe, 1954 yılında da il olmuştur.

İl, çevre illere kara yolu ile bağlanmıştır.

➤ **İldeki başlıca tarihî, doğal ve turistik yerler şunlardır:**

Nevşehir Kalesi, Derinkuyu, Kaymaklı, Ürgüp, Göreme Millî Parkı, Zelve, Hacı Bektaş-ı Veli Dergâhı, Sarıhan



Resim19 :Kapadokya

4.2.2.2. Niğde

Hititler döneminde kurulan kentin adı Nahita idi. 1923 yılında il olan kentin, adı da aynı yıl “Niğde” olmuştur.

İl çevre illere kara yolu ile bağlı olup ayrıca, ilin demir yolu ulaşımı da vardır.

➤ İldeki başlıca tarihî, doğal ve turistik yerler şunlardır:

Ak Medrese, Niğde Müzesi, Gümüşler Manastırı, Göllü Dağ, Tyana, Ala dağlar ve Bolkar Dağları, Değirmenli Mağarası, Gelin Duvağı Çağlayanı, Kayırlı Peri Bacaları, Çifte Han Kaplıcası, Narlı Göl ve Nar Vadisi

4.2.2.3. Aksaray

Kapadokya Kralı Archelais tarafından kurulan bir kent olan Aksaray 1989 yılında il olmuştur.

İl, çevre illere kara yolu ile bağlanmıştır.

➤ İldeki başlıca tarihî, doğal ve turistik yerler şunlardır:

Ihlara Vadisi, Ulu Camii, Eğri Minare, Ağzıkara Han, Hasan Dağı

4.2.2.4. Kırşehir

Kırşehirin tarihi, M.Ö. 2500 yılına dayanmaktadır. 1957 yılında il olmuştur.

Şehir, çevre illere kara yolu ile bağlıdır.

➤ İldeki başlıca tarihî, doğal ve turistik yerler şunlardır:

Ahi Evran Türbesi, Caca Bey Medresesi, Hirfanlı Barajı, Seyfe Gölü, Terme, Karakurt, Bulamaçlı Kaplıcaları

4.2.3. Doğu İç Anadolu Bölümü

4.2.3.1. Sivas

Kent, Hititler tarafından M.Ö. 2000 yılında kurulmuştur. Kentin adının Hitit Kavmi olan “Sabasib” adından geldiği bilinmektedir. 4 Eylül 1919’da Sivas Kongresi’ne sahne olan kent, 1923 yılında il olmuştur.

Sivas, çevre illere kara yolu ile bağlı olup ayrıca ilin hava yolu ve demir yolu ulaşımı da bulunmaktadır.

➤ **İldeki başlıca tarihî, doğal ve turistik yerler şunlardır:**

Gök Medrese, Çifte Minareli Medrese, Behram Paşa Hanı, 4 Eylül Atatürk Müzesi, Divriği Kalesi, Sıcak ve Soğuk Çermik, Balıklı Çermik

4.2.3.2. Yozgat

Yozgat ili ve çevres, birçok uygarlığın yerleşim merkezi olmuştur. Bir rivayete göre kentin adı Hızır Aleyhisselâm tarafından konmuştur. Kent, 1923 yılında il olmuştur.

İlin kara yolu ve demir yolu ulaşımı bulunmaktadır.

➤ **İldeki başlıca tarihî, doğal ve turistik yerler şunlardır:**

Çapanoğlu Camii, Alışar, Kerkenez, Sarıkaya Kaplıcası, Sorgun Kaplıcası, Çamlık Millî Parkı, Bozok Yaylası, Çadırözü Yaylası

4.2.3.3. Kayseri

Anadolu'da ilk siyasi birliği kuran Hitit İmparatorluğu'nun egemenliğinde bulunan kent 1515 yılında Osmanlıların eline geçmiştir. Kayseri, 1923 yılında il olmuştur.

Kayseri, çevre illere kara yolu ile bağlı olup ayrıca ilin hava yolu ve demir yolu ulaşımı da bulunmaktadır.



Resim 18: Erciyes

➤ **İldeki başlıca tarihî, doğal ve turistik yerler şunlardır:**

Kayseri Kalesi, Çifte Kümbet, Sırçalı Kümbet, Sultan Hanı, Etnoğrafya Müzesi, Tekir Yaylası, Erciyes dağı, Yeşil Hisar İçmesi, Tekgöz Kaplıcası

4.3. İ Anadolu Bölgesi'nin Türkiye Turizmindeki Yeri ve Önemi

İ Anadolu Bölgesi turizm açısından çok önemli bir potansiyele sahiptir. Doğal ve tarihî güzelliklerinin eři olmayan dağcılık ve kayak merkezlerinin sağlık turizmi için elverişli alanlarının eşsiz doğa harikalarının kentte bulunması, bölgeyi çok sayıda yerli ve yabancı turistin ziyaret etmesini sağlamaktadır. İ Anadolu'ya yerleşimin tarihi 5000 yıl öncesine dayanmaktadır. Bölgeye yerleşme, Hitit medeniyeti ile başlamıştır. Bölge Selçuklu ve Osmanlı medeniyetlerine sahne olmuştur. Bu sayede de bölgedeki kültür ve sanat eserlerini günümüze kadar ulaşabilmiştir.

UYGULAMA FAALİYETİ

İç Anadolu Bölgesi'nin illerini, tarihi, doğal ve turistik varlıklarını araştırarak elde ettiğiniz dökümanları değerlendirerek eletronik ortamda power point sunusu hazırlayarak arkadaşlarınıza ve öğretmeninize sununuz.

İşlem Basamakları	Öneriler
<ul style="list-style-type: none">➤ Haritada üzerinde çalışırken fiziki harita kullanınız.➤ İç Anadolu Bölgesi sınırları içinde yer alan illeri haritanın içine yerleştiriniz.➤ Bölgede bulunan önemli tarihi, doğal ve turistik varlıkları belirleyiniz.➤ Buraların en belirgin özelliklerini illere göre öğreniniz.➤ Her ildeki en önemli tarihi, doğal ve turistik varlıkları harita üzerinde gösteriniz.➤ Topladığımız bilgi ve materyaller ile rapor hazırlayınız.➤ Tüm materyallerinizi power point programına aktarınız.➤ Sınıf ortamında sunum yapabilecek tüm hazırlıklarınızı tamamlayınız.	<ul style="list-style-type: none">➤ Çizeceğiniz haritayı modül sonuna kadar kullanacağımız için dikkatli kullanınız.➤ Büyük Atlas'tan faydalanınız.➤ Harita içine illeri yerleştirirken her il için aynı sembolü kullanınız.➤ Bölgedeki tarihi, doğal ve turistik varlıkları belirlerken çeşitli renk, sembol ve simgeler kullanınız.➤ Topladığımız bilgileri derleyip rapor haline getirirken dikkat çekici anlatımlar kullanınız.➤ Sunum sırasında güler yüzlü olunuz.➤ Sunumda arkadaşlarınızdan gelebilecek sorulara karşı dikkatli ve hazırlıklı olunuz.➤ Beden dilini etkili kullanınız.➤ Canlı, hareketli ve espirüel olunuz.➤ İnsanlarla etkili iletişim kurunuz.

ÖLÇME VE DEĞERLENDİRME

ÖLÇME SORULARI

Bu faaliyet kapsamında hangi bilgileri kazandığınızı belirleyebilmemiz için sorular verilmiştir.

Aşağıdaki sorulardan doğru olan seçeneği işaretleyiniz.

1- İç Anadolu Bölgesi'nin aşağıdaki bölgelerimizin hangisi ile sınırı **yoktur**?

- A) Marmara Bölgesi B) Ege Bölgesi
C) Güney Doğu Anadolu Bölgesi D) Akdeniz Bölgesi

2- İç Anadolu Bölgesinde yağmurun en çok düştüğü mevsim aşağıdakilerden hangisidir?

- A) Kış mevsimi B) İlkbahar mevsimi C) Yaz mevsimi D) Sonbahar mevsimi

3- Aşağıdakilerden hangisi Konya ilinin turistik değerlerinden biri **değildir**?

- A) Meram Bağları B) Kubadabâd Sarayı
C) İnce Minareli Medrese D) Soğuksu Miilli Parkı

4- 1519 yılında Osmanlı topraklarına katılan, Çifte Kümbet, Sırçalı Kümbet, Tekir Yaylası, Tekgöz Kaplıcası gibi turistik değerlere sahip ilimiz aşağıdakilerden hangisidir?

- A) Nevşehir B) Niğde C) Kayseri D) Sivas

5- Kapadokya Kralı Archelais tarafından kurulan ve sınırları içinde İhlara Vadisi, Hasan Dağı gibi doğal ve turistik değerlerin bulunduğu ilimiz aşağıdakilerden hangisindedir?

- A) Aksaray B) Niğde C) Nevşehir D) Karaman

6- Ürgüp ve Göreme Millî Parkı Hangi ilimizde bulunmaktadır?

- A) Nevşehir B) Sivas C) Niğde D) Bilecik

7- Çifte Minareli Medrese ve Gök Medrese hangi ilimizin sınırlarındadır?

- A) Konya B) Sivas C) Ankara D) Niğde

8- Aşağıdakilerden illerden hangisi İç Anadolu Bölgesi'nde **değildir**?

- A) Eskişehir B) Çankırı C) Yozgat D) Zonguldak

DEĞERLENDİRME ÖLÇEĞİ

KONTROL LİSTESİ

KRİTERLER (ÖLÇÜTLER)	EVET	HAYIR
➤ İç Anadolu Bölgesi içindeki illeri doğru bir şekilde gösterdiniz mi?		
➤ Bölgede bulunan tarihi, doğal ve turistik varlıkları doğru belirlediniz mi?		
➤ Bölgedeki önemli tarihi doğal turistik varlıkları harita üzerinde çeşitli semboller ile doğru gösterdiniz mi?		
➤ Konu hakkındaki tüm bilgi ve materyallerini rapor haline getirdiniz mi?		
➤ Hazırladığınız raporu power point programına aktardınız mı?		
➤ Sınıf ortamında sunum yapabilecek tüm hazırlıkları tamamladınız mı?		

DEĞERLENDİRME

Öğrenme faaliyetinde ,evet sayıları çoğunlukta ise başarılı olduğunuz için diğer bir öğrenme faaliyetine geçebilirsiniz.Hayır'larınız çok ise öğrenme faaliyetini tekrar uygulamak için öğretmenize başvurunuz.

ÖĞRENME FAALİYETİ-5

AMAÇ

Karadeniz Bölgesi'nin coğrafi özelliklerini, tarihi, doğal ve turistik güzelliklerini konuklara doğru olarak tanıtılabileceksiniz.

ARAŞTIRMA

Karadeniz Bölgesindeki illerin tarihî, doğal ve kültürel varlıklarını, ayrıca özelliklerini araştırınız.

Öğretmeninizin rehberliğinde, incelemeleriniz hakkında sınıfta birbirinizle bilgi alışverişinde bulununuz.

5. KARADENİZ BÖLGESİ TURİZM COĞRAFYASI

5.1. Bölgenin Coğrafi Özellikleri



Resim 20 :Karadeniz Bölgesi

Ülkemiz topraklarının %18'ini kaplayan Karadeniz Bölgesi, adını aldığı Karadeniz kıyısında bir şerit halinde uzanır. Doğuda Gürcistan sınırına, batıda Sakarya ırmağının doğusuna kadar uzanan topraklar, bölge sınırları içinde yer alır.

5.1.1. İklimi

Kıyı kesiminde, özellikle kuzeye bakan yamaçlarda bölge, bütünüyle Karadeniz iklimi altındadır. Her mevsimin yağışlı olması, Karadeniz ikliminin en belirgin özelliğidir; ancak en çok yağış sonbahar mevsiminde düşmektedir. Kışlar çok soğuk yazlar ise çok sıcak değildir. Deniz kıyısı ile iç bölgeler arasında oldukça fazla sıcaklık farkları görülmektedir. Kıyıdaki dağların denize bakan yamaçları, çok daha fazla yağış alırken iç kesimler, özellikle dağların güneye bakan yamaçları, daha az yağış almaktadır.

5.1.2. Ulaşımı

Karadeniz Bölgesi'nde ulaşımı zorlaştıran, doğu - batı doğrultusunda uzanan Kuzey Anadolu Dağları'dır. Doğu Karadeniz Bölümü'nde iç kesimlerle ulaşım **Kalkanlı** ve **Kop Geçitleri** ile sağlanabilmektedir. İç kesimlerle ulaşımın kolayca sağlanabildiği yer, Samsun'un güneyidir.

Deniz yolu ulaşımında, doğal bir liman olan Sinop Limanı kullanılmaktadır. Bunun dışında, yapay limanlardan olan Ereğli, Zonguldak, Samsun, Giresun, Trabzon ve Hopa Limanları da kullanılmaktadır.

Bölgede hava yolu ulaşımı için Samsun (Çarşamba) Hava alanı ve Trabzon Hava limanı kullanılmaktadır.

5.2. Bölgenin Bölümleri Tarihi ve Doğal Güzellikleri

5.2.1. Batı Karadeniz Bölümü

5.2.1.1. Kastamonu

Kent, Bizanslılar tarafından 12.yüzyılın sonlarında kurulmuştur. 1461 yılında Osmanlı topraklarına katılan Kastamonu 1923 yılında il olmuştur.

Kastamonu, çevre illere kara yolu ile bağlıdır.

➤ **İldeki başlıca tarihî, doğal ve turistik yerler şunlardır:**

Kastamonu Müzesi, Kastamonu Kalesi, Atabey Camii, Yılanlı Dartuşşifa, Saat Kulesi, Ilgaz Dağı Millî Parkı, Küre Dağları Millî Parkı

Ayrıca, ilin Karadeniz kıyı şeridinde; Abana, İnebolu, Çatalzeytin ve Cide ilçelerinde birçok doğal plâj bulunmaktadır.

5.2.1.2. Düzce

Bithinya, Roma ve Bizans dönemlerini yaşayan kent 1321'de Osmanlı topraklarına katılmıştır.

İl, çevre illere kara yolu ile bağlanmıştır.

➤ **İldeki başlıca tarihî, doğal ve turistik yerler şunlardır:**

Üskübü, DERNİN ve Erteni kaplıcaları, Akçakoca, Samandere Şelâlesi

5.2.1.3. Bolu

Bolu'nun geçmişi, Hititlere kadar dayanmaktadır. 1324 yılında Osmanlıların eline geçen kent, 1923 yılında il olmuştur.

Bolu, çevre illere kara yolu ile bağlıdır.

➤ **İldeki başlıca tarihî, doğal ve turistik yerler şunlardır:**

Ulu Camii, Kartalkaya, Yedigöller Millî Parkı, Abant, Bolu Kaplıcaları, Bağlum Kaplıcaları, Gerede, Esentepe, Gölcük, Aladağ ve Seben Yaylaları

5.2.1.4. Zonguldak

Daha önce sazlık ve bataklık olan ve adını da bu özelliğinden alan Zonguldak (Zongalık), 1849'da yerleşim yeri olarak kurulmuş ve 1924 yılında da il olmuştur.

Kent, çevre illere kara yolu ile bağlı olup kentin demir yolu ulaşımı da bulunmaktadır. İldeki liman, yük taşımacılığı için kullanılmaktadır.

➤ **İldeki başlıca tarihî, doğal ve turistik yerler şunlardır:**

Alaplı ve Ereğli plâjları, Filyos Irmağı kenarı, Erdemir Barajı

5.2.1.5. Sinop

Hititler tarafından kurulan kentin adının "Sinova"dan veya Yunanca "Sinope"den geldiği sanılmaktadır. 1461 yılında Osmanlı topraklarına katılan kent 1923 yılında il olmuştur.

Kent, çevre illere kara yolu ile bağlı olup, hava yolu ve deniz yolu ile de Sinop'a ulaşabilmektedir.

➤ **İldeki başlıca tarihî, doğal ve turistik yerler şunlardır:**

Sinop Kalesi, Sinop Müzesi, Alaeddin Camii, Alaiye Medresesi, Karakum Plâjı, Sarıkum plâjı

5.2.1.6. Bartın

Bartın, Orta Çağ'da "Parthenia" adlı yerleşim yerinin olduğu antik bir kenttir. 1461 yılında Osmanlı topraklarına katılan Bartın, 1924 yılında il olmuştur.

Kent, çevre illere kara yolu ile bağlı olup ilin Bartın, Amasra ve Kurucaşile ticari limanları bulunmaktadır.

➤ **İldeki başlıca tarihî, doğal ve turistik yerler şunlardır:**

Amasra Müzesi, Amasra Kalesi, Fatih Camii, Büyük Ada Kilisesi, Kuşyaka Mağarası, Taşhan, Çakraz ve İnkumu Plâjları

5.2.1.7. Bayburt

Bayburt, M.Ö. I. yüzyılda kurulmuştur. Cumhuriyet'in ilânından sonra topraklarımıza katılan kent, 1989 yılında il olmuştur.

Kent, çevre illere kara yolu ile bağlıdır.

➤ **İldeki başlıca tarihî, doğal ve turistik yerler şunlardır:**

Bayburt Kalesi, Saruhan Kalesi, Ulu Camii, Aydıntepe Yer Altı Şehri, Soğanlı Yaylası

5.2.1.8. Karabük

1930 yılına kadar Öğbeyli köyüne bağlı bir mahalle olan Karabük, demir yolu ulaşımının sağlanması ve Karabük Demir Çelik Fabrikasının kurulmasıyla 1995 yılında il olmuştur.

Kent, çevre illere kara yolu ile bağlı olup ayrıca, kentin demir yolu ulaşımı da bulunmaktadır.

➤ İldeki başlıca tarihî, doğal ve turistik yerler şunlardır:

Cinci Han, Köprülü Camii, Safranbolu Evleri, Safranbolu Kalesi, Hidayetullah ve Lütfiye camileri.

5.2.2. Orta Karadeniz Bölümü

5.2.2.1. Samsun

İlk adı Amisos olan Samsun, M.Ö. VII. yüzyılda “Miletoslar” tarafından kurulmuştur. 1413 yılında Osmanlı topraklarına katılan kent, 1923 yılında il olmuştur.

İlin, kara yolu, hava yolu, deniz yolu ve demir yolu ulaşımı bulunmaktadır.

➤ İldeki başlıca tarihî, doğal ve turistik yerler şunlardır:

Atatürk Anıtı, Arkeoloji ve Etnoğrafya Müzesi, Atatürk Müzesi, İlkadım Anıtı, Büyük Cami, Gazi Müzesi, Havza Kaplıcası, Atakum ve İncekum, Altinkaya Baraj Gölü

5.2.2.2. Ordu

Kentin tarihi M.Ö. 2000 yıllarına dayanmaktadır. 1462 yılında Osmanlı topraklarına katılan Ordu 1923 yılında il olmuştur.

Kent, çevre illere kara yolu ile bağlı olup ayrıca, Ordu'dan deniz yolu ulaşımı da sağlanabilmektedir.

➤ İldeki başlıca tarihî, doğal ve turistik yerler şunlardır:

Çaleoğlu Kalesi, Çambaşı Yaylası, Perşembe Yaylası, Keyfalan Yaylası, Argın Yaylası, Sarmaşık Kaplıcaları, Uzunkum Plajı

5.2.2.3. Tokat

İlk Çağlarda Togayitlerin kurduğu sanılan kentin adı Surlu Şehir(Tak-Kat) kelimelerinden gelmektedir. Tokat 1923 yılında il olmuştur.

Kent, çevre illere kara yolu ile bağlı olup ayrıca, hava yolu ve demir yolu ulaşımına sahiptir.

➤ İldeki başlıca tarihî, doğal ve turistik yerler şunlardır:

Tokat Kalesi, Ali Paşa Camii, Yeşilirmak Köprüsü, Zile, Ballica Mağarası, Batmataş Yaylası, Bozçalı Yaylası, Sulusaray ve Reşadiye Kaplıcaları, Zinav Gölü, Almus Barajı

5.2.2.4. Amasya

Amasya'nın tarihi M.Ö. 4000 yıllarına dayanmaktadır. 12 Haziran 1919'da Amasya'ya gelen Mustafa Kemal, Müdafai Hukuk Cemiyetini burada kurmuştur. Amasya, 1923 yılında da il olmuştur.

Amasya'nın kara yolu ve demir yolu ulaşımı vardır.

➤ **İldeki başlıca tarihî, doğal ve turistik yerler şunlardır:**

Amasya Kalesi, Kral Kaya Mezarları, Gök Medrese Camii, Aynalı Mağara, Borabay, Terziköy Kaplıcası, Hamamözü Kaplıcası

5.2.2.5. Çorum

Eski adı "Nikonias" olarak tahmin edilen kent, Anadolu'da ilk siyasî birliği kuran Hitit İmparatorluğu'nun ana yurdudur. 1398 yılında Osmanlı topraklarına katılan kent, 1923 yılında il olmuştur.

Kent, çevre illere kara yolu ile bağlıdır.

➤ **İldeki başlıca tarihî, doğal ve turistik yerler şunlardır:**

Ulu Cami, Saat Kulesi, Çorum Kalesi, Çorum Müzesi, Alacahöyük, Boğazköy, Pazarlı, Yazılıkaya Açık Hava Tapınağı

5.2.3. Doğu Karadeniz Bölümü

5.2.3.1. Trabzon

Kent, M.Ö. 750 yılında Miletos kolonisi tarafından kurulmuştur. Sofra şekilli taşlardan dolayı Trabzon'a, sofra taşı anlamına gelen "Trapeza" adı verilmiştir. 24 Şubat 1918 tarihinde Rus işgalinden kurtarılan kent 1923 yılında il olmuştur.



Resim 21: Sümele Manastırı

Kent çevre illere kara yolu ile bağlı olup ayrıca, kentin hava yolu ve deniz yolu ulaşımı da bulunmaktadır.

➤ **İldeki başlıca tarihî, doğal ve turistik yerler şunlardır:**

Trabzon Kalesi, Gülhisar Kalesi, Ayasofya Kilisesi, Ortahisar Camii, Küçük Fatih Camii, Sümele (Meryem Ana) Manastırı, Kızlar Manastırı, Altın Dere Millî Parkı, Çaykara Uzungöl Yaylası, Akçaabat Karadağ Yaylası, Trabzon ve ilçelerini kaplayan doğal plajlar.

5.2.3.2. Giresun

M.Ö. 183 yılların Pontus Kralı I. Farnak tarafından kurulan kente “Farnakya” adı verilmiştir. 1461 yılında alınan kentin adı, Giresun olarak değiştirilmiştir. Kent, 1923 yılında il olmuştur.

Kent, çevre illere kara yolu ile bağı olup ayrıca kentin deniz yolu ulaşımı da bulunmaktadır.

➤ **İldeki başlıca tarihî, doğal ve turistik yerler şunlardır:**

Giresun Kalesi, Giresun (Hayırsız) Adası, Şebinkarahisar Kalesi, Seyyid-i Vakkas Türbesi, Aksu ve Tirebolu doğal plâjları, Karagöl Yaylası, Kümbet Yaylası, Bektaşî Yaylası

5.2.3.3. Rize

Kentin M.Ö. VI. Yüzyılda İonlar tarafından kurulduğu sanılmaktadır. 2 Mart 1918 tarihinde Rus işgalinden kurtarılan Rize, 1923 yılında il olmuştur.

Kent, çevre illere kara yolu ile bağı olup ayrıca, kentin deniz yolu ulaşımı da bulunmaktadır.

➤ **İldeki başlıca tarihî, doğal ve turistik yerler şunlardır:**

Rize Kalesi, Zil Kalesi. İslâm Paşa Camii, Kaçkar Dağları Millî Parkı, Ayder Yaylası, Anzer Yaylası, Kito Yaylası, Elevit Yaylası, Karap Yaylası, Kavran Yaylası, Ayder Kaplıcaları, Cimil Kaplıcası

5.2.3.4. Artvin

Kentin ne zaman kurulduğu bilinmemektedir. Çeşitli uygarlıklara sahne olan ve 1921 yılında Gürcistan sınırlarında kalan Artvin, 1936 yılında Çoruh adı ile 1956 yılında da bugünkü adıyla il olmuştur.

Kent, çevre illere kara yolu ile bağıdır.

➤ **İldeki başlıca tarihî, doğal ve turistik yerler şunlardır:**

Artvin Kalesi, İşhan Kilise, Tibet Kilisesi, Hatilla Vadisi Millî Parkı, Karagöl-Sahara Millî Parkı, Kaçkar Yaylası, Çoruh Nehri, Otinyo Kaplıcası, Zeytinlik Kaplıcası

5.2.3.5. Gümüşhane

Kentin Urartular tarafından kurulduğu sanılmaktadır. 28 Şubat 1918 tarihinde Rus işgalinden kurtarılan Gümüşhane, adını gümüş ocaklarından almıştır. Kent, 1923 yılında il olmuştur.

Kent, çevre illere kara yolu ile bağıdır.

➤ **İldeki başlıca tarihî, doğal ve turistik yerler şunlardır:**

Süleymaniye Camii, Karaca Mağarası, Kalkanlı Dağları, Artahel Gölü, Altıntaş Yaylası, Sultan Murat Yaylası ve Şehitliği, Kadirga Yaylası

5.3. Karadeniz Bölgesi'nin Türkiye Turizmindeki Yeri ve Önemi

Karadeniz Bölgesi; tarihi değerleri, doğal güzellikleri, yayları, kaplıcaları, içmeleri ve plâjları turizm yönünden önemli bir potansiyele sahiptir. Ancak, bölgenin her mevsim yağış alması, yaz aylarının serin geçmesi, deniz turizmini olumsuz etkilemektedir. Ayrıca bölgede turistik tesisler de oldukça yetersizdir. Buna rağmen bölgenin batı kıyılarında, deniz turizmi gelişmeye başlamıştır.



Resim 22: Uzun Göl

UYGULAMA FAALİYETİ

Karadeniz Bölgesi'nin illerini, tarihi, doğal ve turistik varlıklarını araştırarak elde ettiğiniz dökümanları değerlendirerek elektronik ortamda power point sunusu hazırlayarak arkadaşlarınıza ve öğretmeninize sununuz.

İşlem Basamakları	öneriler
<ul style="list-style-type: none">➤ Haritada üzerinde çalışırken fiziki harita kullanınız.➤ Kara Deniz Bölgesi sınırları içinde yer alan illeri haritanın içine yerleştiriniz.➤ Bölgede bulunan önemli tarihi, doğal ve turistik varlıkları belirleyiniz.➤ Buraların en belirgin özelliklerini illere göre öğreniniz.➤ Her ildeki en önemli tarihi, doğal ve turistik varlıkları harita üzerinde gösteriniz.➤ Topladığınız bilgi ve materyaller ile rapor hazırlayınız.➤ Tüm materyallerinizi power point programına aktarınız.➤ Sınıf ortamında sunum yapabilecek tüm hazırlıklarını tamamlayınız.	<ul style="list-style-type: none">➤ Çizeceğiniz haritayı modül sonuna kadar kullanacağınız için dikkatli kullanınız.➤ Büyük Atlas'tan faydalanınız.➤ Harita içine illeri yerleştirirken her il için aynı sembolü kullanınız.➤ Bölgedeki tarihi, doğal ve turistik varlıkları belirlerken çeşitli renk, sembol ve simgeler kullanınız.➤ Topladığımız bilgileri derleyip rapor haline getirirken dikkat çekici anlatımlar kullanınız.➤ Sunum sırasında güleryüzlü olunuz.➤ Sunumda arkadaşlarınızdan gelebilecek sorulara karşı dikkatli ve hazırlıklı olunuz.➤ Beden dilini etkili kullanınız.➤ Canlı, hareketli ve espirüel olunuz.➤ İnsanlarla etkili iletişim kurunuz.

ÖLÇME VE DEĞERLENDİRME

ÖLÇME SORULARI

Bu faaliyet kapsamında hangi bilgileri kazandığınızı belirleyebilmeniz için sorular verilmiştir.

Aşağıdaki sorulardan doğru olan seçeneği işaretleyiniz.

1. Aşağıdakilerden hangisi Karadeniz ikliminin en belirgin özelliklerinden biri **değildir**?

- A) Her mevsimin yağışlı olması B) Kışların çok soğuk olmaması
C) Yazların çok sıcak olmaması D) En çok yağışın ilkbaharda olması

2. Aşağıdakilerden hangisi Karadeniz'in doğal limanlarından birisidir?

- A) Sinop B) Samsun C) Zonguldak D) Trabzon

3. Aşağıdakilerden hangisi Bolu ilimizin turistik değerlerinden biri **değildir**?

- A) Yedigöller Millî Parkı B) Kartalkaya
C) Alâiye Medresesi D) Abant Gölü

4. Aşağıdakilerden hangisi Bayburt ilimizin turistik değerlerinden birisidir?

- A) Yılanlı Darüşşifa B) Aydıntepe Yeraltı Şehri
C) Üskübü Kaplıcaları D) Gerede Yaylası

5. Büyükada Kilisesi ve Amasra Kalesi hangi ilimiz sınırlarındadır?

- A) Bartın B) Bayburt C) Samsun D) Sinop

6. Miletoslar tarafından kurulan ve ilk adı "Amisos" olan ilimiz aşağıdakilerden hangisidir?

- A) Düzce B) Denizli C) Tokat D) Samsun

7. Dünyaca ünlü Sümela Manastırı hangi ilimizde bulunmaktadır?

- A) Giresun B) Artvin C) Gümüşhane D) Trabzon

8. Aşağıdaki turistik varlıklardan hangisi Gümüşhane ilimizde **bulunmamaktadır**?

- A) Karaca Mağarası B) Kalkanlı Dağları C) Altıntaş Yaylası D) Tibet Kilisesi

DEĞERLENDİRME ÖLÇEĞİ

KONTROL LİSTESİ

KRİTERLER (ÖLÇÜTLER)	EVET	HAYIR
➤ Karadeniz Bölgesi içindeki illeri doğru bir şekilde gösterdiniz mi?		
➤ Bölgede bulunan tarihi doğal turistik varlıkları doğru belirlediniz mi?		
➤ Bölgedeki önemli tarihi, doğal ve turistik varlıkları harita üzerinde çeşitli semboller ile doğru gösterdiniz mi?		
➤ Konu hakkındaki tüm bilgi ve materyallerini rapor haline getirdiniz mi?		
➤ Hazırladığınız raporu power point programına aktardınız mı?		
➤ Sınıf ortamında sunum yapabilecek tüm hazırlıkları tamamladınız mı?		

DEĞERLENDİRME

Öğrenme faaliyetinde ,evet sayıları çoğunlukta ise başarılı olduğunuz için diğer bir öğrenme faaliyetine geçebilirsiniz.Hayır'larınız çok ise öğrenme faaliyetini tekrar uygulamak için öğretmenize başvurunuz.

ÖĞRENME FAALİYETİ-6

AMAÇ

Doğu Anadolu Bölgesi'nin coğrafi özelliklerini, tarihi, doğal ve turistik güzelliklerini öğrenecek ve konuklara doğru olarak tanıtılabileceksiniz.

ARAŞTIRMA

Doğu Anadolu Bölgesi'ndeki illerin tarihî, doğal ve kültürel varlıklarını, ayrıca özelliklerini araştırınız.

Öğretmeninizin rehberliğinde, incelemeleriniz hakkında sınıfta birbirinizle bilgi alışverişinde bulununuz.

6. DOĞU ANADOLU BÖLGESİ TURİZM COĞRAFYASI

6.1. Bölgenin Coğrafi Özellikleri

Ülkemiz topraklarının %21'ini kaplayan Doğu Anadolu Bölgesi; kuzeyde, Kuzey Anadolu Dağları'nın iç sınırları ile çevrelenen bölgeye, güneyde Güneydoğu Torosların kuzey eteklerine kadar uzanır. Doğuda, İran, Azerbaycan, Ermenistan ve Gürcistan; güneydoğuda ise Irak ile komşudur.

Bölgeye “Türkiye'nin Çatısı “ denmesinin sebebi, Doğu Anadolu Bölgesi'nin, yurdumuzun en yüksek ve en dağlık bölgesi olmasıdır.



Resim 23: Doğu Anadolu Bölgesi

6.1.1. İklimi

Bölgenin genelinde karasal iklim hakimdir. Yükseklik fazla olduğu için yazlar serin, kışlar çok soğuk ve kar yağışlı geçmektedir. Yurdumuzun en düşük sıcaklıkları, bu bölgeye aittir. Kışın kar yağışının çok fazla olmasından özellikle küçük yerleşim birimlerine ulaşım, uzun süre aksamaktadır. Bölgede mevsimde çığ düşme olayı sık yaşanmaktadır.

6.1.2. Ulaşımı

Bölgedeki olumsuz doğal şartlar, bölgenin yeterince gelişmesini engellemiştir. Bölgede ulaşım da yeterince gelişmemiştir.

Bölgenin Karadeniz ile kara yolu bağlantısı, **Kop ve Kalkanlı Geçitleri**'nden sağlanmaktadır. Erzurum, bu geçitler sayesinde işlek bir kara yolu ile Trabzon'a bağlanmıştır. Ayrıca Erzurum ile Ağrı arasında modern bir kara yolu inşa edilerek Avrupa-İran transit taşımacılığı sağlanmıştır.

Bölgenin hava ulaşımı; Malatya, Erzurum, Van, Elazığ ve Kars Hava alanları ile gerçekleştirilmektedir.

6.2. Bölgenin Bölümleri, Tarihi ve Doğal Güzellikleri

6.2.1. Erzurum, Kars Bölümü

6.2.1.1. Erzurum

Erzurum'un bulunduğu bölgede birçok uygarlık yaşamıştır. 1514 yılında Osmanlı topraklarına katılan kent, 1923 yılında il olmuştur.

İl, çevre illere kara yolu ile bağlı olup ayrıca, ilin hava yolu ve demir yolu ulaşımı da vardır.

➤ İldeki başlıca tarihî, doğal ve turistik yerler şunlardır:

Üç Kümbetler, Ulu Cami, Erzurum Kalesi, Saat Kulesi, Erzurum Müzesi, İspir Kalesi, Yakutiye Medresesi, Hasankale Kaplıcaları, Palandöken, Tortum Çağlayanı, Akdoğan Gölü

6.2.1.2. Kars

Kentin ne zaman ve kimler tarafından kurulduğu bilinmemektedir. Fakat ilk yerleşenlerin "Huriler" olduğu sanılmaktadır. 25 Nisan 1918 tarihinde Rus işgalinden kurtarılan kent, 1923 yılında il olmuştur.

İl, çevre illere kara yolu ile bağlı olup ayrıca, ilin hava yolu ve demir yolu ulaşımı da vardır.



Resim 24: Kars Kalesi

➤ **İldeki başlıca tarihî, doğal ve turistik yerler şunlardır:**

Kars Kalesi, Kars Müzesi, Kümbet Camii, Ani kenti arkeolojik alanı, Micingird Kalesi, Sarıkamış .

6.2.1.3. Ardahan

Tarihi eski dönemlere dayanan Ardahan'nın ilk adı, "Arhan"dır. 1926 yılında ülke topraklarına katılan kent, 1992 yılında il olmuştur.

İl, çevre illere kara yolu ile bağlıdır.

➤ **İldeki başlıca tarihî, doğal ve turistik yerler şunlardır:**

Ardahan Kalesi, Seyhan Kalesi, Aktaş ve Çıldır gölleri.

6.2.1.4. Ağrı

Kent,1926 yılında Doğubayazıt'ın yerine il olmuş, 1938 yılında da adı "Ağrı" olarak değiştirilmiştir.İl, çevre illere kara yolu ile bağlı olup ayrıca, hava yolu ve demir yolu ulaşımı da vardır.

Ağrı çevre illere kara yolu ile bağlı olup hava yolu ulaşımı da vardır.



Resim 25: İshakpaşa Sarayı

➤ **İldeki başlıca tarihî, doğal ve turistik yerler şunlardır:**

Ağrı Dağı, Aras Vadisi, İshak Paşa Sarayı, Buz Mağarası, Balık Gölü

6.2.1.5. Iğdır

Kent, M.Ö. 7.yüzyılda “Urartular” tarafından kurulmuştur. 1919-1920 yıllarında Ermenilerin eline geçen Iğdır, 1924 yılında Kars iline bağlı ilçe, 1992 yılında da il olmuştur.

İl, çevre illere kara yolu ile bağlıdır.

➤ **İldeki başlıca tarihî, doğal ve turistik yerler şunlardır:**

Sürmeli Kalesi, Ağrı Dağı, Aras Gölü

6.2.2. Van Bölümü

6.2.2.1. Van

Kentin M.Ö. XVI. yüzyılda “Huriler” tarafından kurulduğu sanılmaktadır. 1514 yılında Osmanlı topraklarına katılan kent, 1918 yılında bugünkü yerine kurulmuştur, 1923 yılında da il olmuştur.

İl, çevre illere kara yolu ile bağlı olup ilin hava yolu ve demir yolu ulaşımı da vardır. Ayrıca, Van Gölü’nde Van - Tatvan arasında feribot seferleri yapılmaktadır.

➤ **İldeki başlıca tarihî, doğal ve turistik yerler şunlardır:**

Halime Hatun Türbesi, Hüsrev Paşa Camii ve Türbesi, Van Kalesi, Hoşap Kalesi, Akdamar Kilisesi, Van Müzesi, Gevaş, Çatak, Memlik, Akdamar Adası, Muradiye Çağlayanı .

6.2.2.2. Bitlis

Çeşitli uygarlıkları sahne olan kentin, ne zaman kurulduğu bilinmemektedir. 1514 yılında Osmanlı topraklarına katılan kent, 1936 yılında da il olmuştur.

İl, çevre illere kara yolu ile bağlıdır. Tatvan-Van feribot seferleri ve Tatvan’dan demir yolu ulaşımı da bulunmaktadır.

➤ **İldeki başlıca tarihî, doğal ve turistik yerler şunlardır:**

Bitlis Kalesi, Kızıl Cami, Ulu Cami, Emir Bayındır Kümbeti, Ahlat Kaleleri, Van Gölü kıyısındaki Tatvan, Ahlat, ve Adilcevaz kumsalları, Sapgör Dağı, Süphan dağı, Nemrut Dağı, Azpağa Gölü

6.2.2.3. Muş

Muş'un IV. yüzyılda kurulduğu sanılmaktadır. Kentin adı, Süryani dilinde suyu bol anlamına gelen "Muşa" sözcüğünden geldiği söylenmektedir.

1513 yılında Osmanlı topraklarına katılan kent, 1923 yılında da il olmuştur.

İl, çevre illere kara yolu ile bağlı olup ilin demir yolu ulaşımı da vardır.

➤ İldeki başlıca tarihî, doğal ve turistik yerler şunlardır:

Ulu Cami, Alaeddin Bey Camii, Kayalıdere Kalesi, Bulanık ve Nazik gölleri

6.2.2.4. Şırnak

Osmanlı döneminde Şırnak, bir köy idi. Kent 1927 yılında Siirt'e bağlı ilçe, 1990 yılında ise, il olmuştur.

Şırnak, çevre illere kara yolu ile bağlıdır.

➤ İldeki başlıca tarihî, doğal ve turistik yerler şunlardır:

Cudi dağında bulunan antik kent ve mağara, Cizre ilçesinde Babil, Dara, Şah, Yasef antik kentleri, Cizre ve Dara Kaleleri, İsfis antik kenti, Beytüşşebap Kalesi, Betemeremi, Zümrüt Kaplıcası

6.2.2.5. Hakkari

Birçok uygarlığa sahne olan kentin adı, Van Gölü'nün güneyinde yaşayan Hakar Aşireti'nden gelmektedir. Hakkâri, 1936 yılında il olmuştur.

İl, çevre illere kara yolu ile bağlıdır.

➤ İldeki başlıca tarihî, doğal ve turistik yerler şunlardır:

Gevaruk Kaya Resimleri, Meydan Medresesi, Cilo ve Sat dağları

6.2.3. Malatya, Elazığ Bölümü

6.2.3.1. Malatya

Malatya, Romalılar tarafından kurulmuştur. Kentin adı "Melta" sözcüğünden gelmektedir. 1516 yılında Osmanlı topraklarına katılmıştır.

İl, çevre illere kara yolu ile bağlı olup ilin demir yolu ve hava yolu ulaşımı da vardır.

➤ İldeki başlıca tarihî, doğal ve turistik yerler şunlardır:

Arkeoloji Müzesi, Ulu Cami, Malatya Kalesi, Aslantepe, Taşhan, İspendere Kaplıcası, Harapşehir Kaplıcası, Pınarbaşı, Aspuzu Bağları, Asude Çağlayanı ve Günpınar Şelâlesi .

6.2.3.2. Elazığ

Kente ilk yerleşenler, M.Ö. 2000 yıllarında yaşayan Hurilerdir. 1514 yılında Osmanlı topraklarına katılan kent, 1923 yılında da il olmuştur.

Elazığ, çevre illere kara yolu ile bağlı olup ayrıca, kentin hava yolu ve demir yolu ulaşımı vardır.

➤ İldeki başlıca tarihî, doğal ve turistik yerler şunlardır:

Harput Kalesi, Ulu Cami, Kurşunlu Cami, Elazığ Arkeoloji ve Etnoğrafya Müzesi, Harput Müzesi, Buzluk Mağarası, Kolon Kaplıcaları, Harput Dabakhane Suyu, Hazar gölü, Keban, Karakaya ve Kralkızı barajları

6.2.3.3. Erzincan

İlk adı “Aziris”olan Erzincan, birçok uygarlığın yönetiminde kalmıştır. 16 Şubat 1918 tarihinde Rus işgalinden kurtarılan kent, 1923 yılında da il olmuştur.

İl, çevre illere kara yolu ile bağlı olup ayrıca, kentin hava yolu ve demir yolu ulaşımı da vardır

➤ İldeki başlıca tarihî, doğal ve turistik yerler şunlardır:

Anıttepe, Kemah Kalesi, Mama Hatun Kervansarayı, Ekşisu (Bögert), Köroğlu Mağarası, Gürlevik Çağlayanı

6.2.3.4. Bingöl

Bingöl’ün tarihi, M.Ö. 2000 yıllarına dayanmaktadır. Bingöl, adını bölgedeki bin adet göl ile bol su kaynaklarından almıştır. 1514 yılında Osmanlı topraklarına katılan kent, 1936 yılında da il olmuştur.

İl, çevre illere kara yolu ile bağlı olup ayrıca, kentin demir yolu ulaşımı vardır.

➤ İldeki başlıca tarihî, doğal ve turistik yerler şunlardır:

Kiğı Kalesi, Kiğı Camii, Kral Kızı Kalesi, Sebi Terias Kalesi, Kayak Evi, Orduzu, Soğuk Çeşme

6.2.3.5. Tunceli

İlin çevresinde eski dönemlere ait yerleşim merkezleri olmasına rağmen, ilin tarihi yenidir. 1936 yılında “Çemişgezek” adı ile il olan Tunceli, 1947 yılında il merkezi olmuştur.

Tunceli’ye ulaşım sadece kara yolu ile yapılmaktadır.

➤ İldeki başlıca tarihî, doğal ve turistik yerler şunlardır:

Yelmaniye Medresesi, Eski Hamam, Pertek Kalesi, Pulur, Bıgın, Harik, Aşağı Doluca kaplıcaları, Mercan Vadisi Milli Parkı, Keban Barajı, Karagöl ve Dereova Çağlayanı.

6.3. Doğu Anadolu Bölgesinin Türkiye Turizmindeki Yeri ve Önemi

Doğu Anadolu Bölgesi, çok önemli bir turizm potansiyeline sahiptir. Bölgede birçok tarihi kalıntılar, doğal güzellikler, değişik medeniyetlere ait kale, camii, türbe ve tarihi

yapıtlar olmasına rağmen, turizm istenilen seviyeye ulaşamamıştır. Bu durumun başlıca sebepleri arasında; ulaşım imkânlarının yetersizliği, iklim şartlarının elverişsizliği, ihtiyaçlara cevap verebilecek turistik tesislerin olmayışı, yeterli tanıtımın yapılamamış olması yer almaktadır.

Bölge, özellikle kış turizmi için uygun şartlara sahip iken bu potansiyel değerlendirilememektedir. Bölgede çok sayıda bulunan göl, kaplıca ve içmelerin yakın çevrelerinde uygun tesisler yapıldığı takdirde, buralara daha çok sayıda yerli ve yabancı turist gelebilecektir. Böylece günü birlik ziyaretlerin yerini, uzun süreli konaklamalar alabilecektir.

UYGULAMA FAALİYETİ

Aşağıdaki uygulamaları yapın!

Doğu Anadolu Bölgesi'nin illerini, tarihi, doğal ve turistik varlıklarını araştırarak elde ettiğiniz dökümanları değerlendirerek elektronik ortamda power point sunusu hazırlayarak arkadaşlarınıza ve öğretmeninize sununuz.

İşlem Basamakları	Öneriler
<ul style="list-style-type: none">➤ Haritada üzerinde çalışırken fiziki harita kullanınız.➤ Doğu Anadolu Bölgesi sınırları içinde yer alan illeri haritanın içine yerleştiriniz.➤ Bölgede bulunan önemli tarihi, doğal ve turistik varlıkları belirleyiniz.➤ Buraların en belirgin özelliklerini illere göre öğreniniz.➤ Her ildeki en önemli tarihi, doğal ve turistik varlıkları harita üzerinde gösteriniz.➤ Topladığınız bilgi ve materyaller ile rapor hazırlayınız.➤ Tüm materyallerinizi power point programına aktarınız.➤ Sınıf ortamında sunum yapabilecek tüm hazırlıklarınızı tamamlayınız.	<ul style="list-style-type: none">➤ Çizeceğiniz haritayı modül sonuna kadar kullanacağınız için dikkatli kullanınız.➤ Büyük Atlas'tan faydalanınız.➤ Harita içine illeri yerleştirirken her il için aynı sembolü kullanınız.➤ Bölgedeki tarihi, doğal ve turistik varlıkları belirlerken çeşitli renk, sembol ve simgeler kullanınız.➤ Topladığınız bilgileri derleyip rapor haline getirirken dikkat çekici anlatımlar kullanınız.➤ Sunum sırasında güleryüzlü olunuz.➤ Sunumda arkadaşlarınızdan gelebilecek sorulara karşı dikkatli ve hazırlıklı olunuz.➤ Beden dilini etkili kullanınız.➤ Canlı, hareketli ve espirüel olunuz.➤ İnsanlarla etkili iletişim kurunuz.

ÖLÇME VE DEĞERLENDİRME

Bu faaliyet kapsamında hangi bilgileri kazandığınızı belirleyebilmeniz için sorular verilmiştir.

Aşağıdaki sorulardan doğru olan seçeneği işaretleyiniz.

- “Türkiye’nin Çatısı” olarak bilinen bölgemiz aşağıdakilerden hangisidir?
A) Akdeniz Bölgesi
B) Karadeniz Bölgesi
C) İç Anadolu Bölgesi
D) Doğu Anadolu Bölgesi
- Doğu Anadolu Bölgesi’nin kara yolu bağlantısı aşağıdakilerden hangi geçitler ile sağlanmaktadır?
A) Zigana Geçidi
B) Belen Geçidi
C) Kop ve Kalkanlı Geçitleri
D) Gülek ve Sertavul Geçitleri
- Aşağıdakilerden hangisi **Doğubayazıt**’ın yerine il olmuştur?
A) Ardaha
B) Ağrı
C) Iğdır
D) Kars
- Aşağıdakilerden hangisi Doğu Anadolu Bölgesinde turizm potansiyelinin yeterince değerlendirilemeyiş nedenlerinden **değildir**?
A) İklim şartlarının elverişsiz olması
B) Turistik tesislerin yetersizliği
C) Tanıtımın yetersiz olması
D) Bölgenin çok uzak olması
- Doğu Anadolu Bölgesi aşağıdakilerden hangi turizm çeşidi için elverişli **değildir**?
A) Kış turizmi
B) Sağlık turizmi
C) Deniz turizmi
D) Dağ turizmi
- İshak Paşa Sarayı Aşağıdaki illerimizden hangisindedir?
A) Ağrı
B) Van
C) Muş
D) Elazığ
- Aşağıdaki illerimizden hangisi Doğu Anadolu Bölgesinde **yer almaz**?
A) Erzurum
B) Kars
C) Düzce
D) Van
- Romalılar tarafından kurulan ve adı “**Melta**” sözcüğünden gelen ilimiz hangisidir?
A) Malatya
B) Erzincan
C) Hakkâri
D) Tunceli

DEĞERLENDİRME ÖLÇEĞİ

KONTROL LİSTESİ

KRİTERLER (ÖLÇÜTLER)	EVET	HAYIR
➤ Doğu Anadolu Bölgesi içindeki illeri doğru bir şekilde gösterdiniz mi?		
➤ Bölgede bulunan tarihi doğal turistik varlıkları doğru belirlediniz mi?		
➤ Bölgedeki önemli tarihi, doğal ve turistik varlıkları harita üzerinde çeşitli semboller ile doğru gösterdiniz mi?		
➤ Konu hakkındaki tüm bilgi ve materyallerini rapor haline getirdiniz mi?		
➤ Hazırladığınız raporu power point programına aktardınız mı?		
➤ Sınıf ortamında sunum yapabilecek tüm hazırlıkları tamamladınız mı?		

DEĞERLENDİRME

Öğrenme faaliyetinde ,evet sayıları çoğunlukta ise başarılı olduğunuz için diğer bir öğrenme faaliyetine geçebilirsiniz.Hayır'larınız çok ise öğrenme faaliyetini tekrar uygulamak için öğretmenize başvurunuz.

ÖĞRENME FAALİYETİ-7

AMAÇ

Güney Doğu Anadolu Bölgesi'nin coğrafi özelliklerini, tarihi, doğal ve turistik güzelliklerini öğrenecek ve konuklara doğru olarak tanıtabileceksiniz.

ARAŞTIRMA

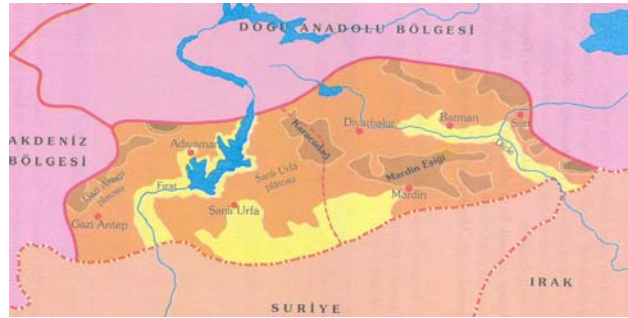
Güney Doğu Anadolu Bölgesindeki illerin tarihî, doğal ve kültürel varlıklarını, ayrıca özelliklerini araştırınız.

Öğretmeninizin rehberliğinde, incelemeleriniz hakkında sınıfta birbirinizle bilgi alışverişinde bulununuz.

7. GÜNEYDOĞU ANADOLU BÖLGESİ TURİZM COĞRAFYASI

7.1. Bölgenin Coğrafi Özellikleri

Yurdumuzun güney doğusunda bulunan bölge, adını coğrafi konumundan almaktadır. Bölgenin kuzeyinde Doğu Anadolu Bölgesinin batısında ise Akdeniz Bölgesi, güneyinde Suriye, güneydoğusunda ise Irak bulunmaktadır.



Resim 26 Güneydoğu Anadolu Bölgesi

8.1.1. İklimi

Bölgenin batısında Akdeniz ikliminin etkileri görülmektedir. Yazlar sıcak ve kurak; kışlar ise, ılıman ve yağışlı geçmektedir. Bölgede batıdan doğuya gidildikçe, alçak yerlerden yüksek yerlere çıkıldıkça deniz etkisinin azalması nedeniyle, karasal iklim etkileri görülmeye başlamaktadır. Bu kesimde kışlar soğuk ve kar yağışlı olup yazlar oldukça kurak

geçmektedir. Yağış almasına rağmen bölgede yazların kurak geçmesinin sebebi bölgenin aşırı buharlaşması ve güneyden gelen sıcak hava kütlelerine açık olmasıdır.

7.1.2. Ulaşımı

Güneydoğu Anadolu Bölgesi'ne ulaşım, kara, hava ve demir yolu ile sağlanmaktadır. Hava yolu ulaşımını sağlamak için Adıyaman, Gaziantep, Şanlı Urfa, Mardin, Diyarbakır ve Siirt hava alanları kullanılmaktadır. Bölge sınırları içinde yer alan Diyarbakır ve Gazi Antep, kara yolu ulaşımının kavşağında bulunmaktadır. Ayrıca, Diyarbakır'dan demir yolu ulaşımı da sağlanmaktadır.

7.2. Bölgenin Bölümleri, Tarihi ve Doğal Güzellikleri

7.2.1. Adıyaman, Gazi Antep, Şanlı Urfa Bölümü

7.2.1.1. Adıyaman

VIII. yüzyılda, Emevî Komutanlarından Mansur İbni Caneve tarafından kurulan kentin ilk adı, “Mansur’un Hisarı” (Hısn-ı Mansur)’dır. Kent, 1516 yılında Osmanlı topraklarına katılmış ve 1923 yılında da il olmuştur.

İl, kara yolu ile çevre illere bağlı olup ayrıca, kentin Gölbaşı ilçesinden demir yolu ulaşımı da vardır.



Resim 27: Nemrut

➤ İldeki başlıca tarihî, doğal ve turistik yerler şunlardır

Adıyaman Kalesi, Ulu Cami, Pirin Mağarası, Kâhta Kalesi, Cendere Köprüsü, Karakuş, Nemrut Dağı

7.2.1.2. Gaziantep

Kentin eski adı “Ayıntap”tır. 1 Nisan 1920 – 9 Şubat 1921 tarihleri arasında Fransızlara karşı büyük bir savunma verdiği için kente “Gazi” unvanı verilerek kentin adı “Gaziayıntap” olmuştur. 1923 yılında il olan Gaziayıntap, 1928 yılında da Gazi Antep adını almıştır.

Gazi Antep'ten kara, hava ve demir yolu ulaşımı sağlanabilmektedir.

➤ **İldeki başlıca tarihî, doğal ve turistik yerler şunlardır**

Arkeoloji Müzesi, Gazi Antep Kalesi, Ömeriye Camii, Dülük, Hisar Anıt Mezarı, Yesemek Açık Hava Müzesi, Belkıs (Zeugma), Kargamış Harabeleri, Karasu ırmağı, Gedikli Höyük

7.2.1.3. Şanlıurfa

Peygamberler şehri olarak bilinen kentin tarihi çok eskilere dayanmaktadır. 10 Nisan 1920 tarihinde Fransızlardan kurtarılan Urfa 1923 yılında il olmuştur.

İl, çevre illere kara yolu ile bağlı olup ayrıca, ilin demir yolu ve hava yolu ulaşımı da sağlanmıştır.



Resim 28: Harran

➤ **İldeki başlıca tarihî, doğal ve turistik yerler şunlardır:**

Urfa Kalesi, Arkeoloji Müzesi, Ulu Cami, Halil Rahman Camii, Harran, Sumatar, Hazreti İbrahim Mağarası, Hazreti Eyüp Mağarası, Ayn Zeliha ve Halilürrahman gölleri, Peygamber Camii, Balıklı göl

7.2.2. Diyarbakır, Mardin Bölümü

7.2.2.1. Diyarbakır

Eski adı “Amid” olan kentin Hititler döneminde kurulduğu sanılmaktadır. 1515 yılında Osmanlı topraklarına katılan kent, 1923 yılında il olmuş, 1937 yılında da zengin bakır yataklarından dolayı “Diyarbakır” adını almıştır.

İl, çevre illere kara yolu ile bağlı olup ayrıca, ilin demir yolu ve hava yolu ulaşımı da sağlanmıştır.

➤ **İldeki başlıca tarihî, doğal ve turistik yerler şunlardır**

Ulu Camii, Diyarbakır Kalesi, Arkeoloji Müzesi, Zinciriye Medresesi, Malabadi Köprüsü, Behram Paşa Camii, Devegeçidi Barajı, Birkileyin Mağarası

7.2.2.2. Mardin

Kentin kimler tarafından kurulduğu bilinmemektedir. 1517 yılında Osmanlı topraklarına katılan Mardin, 1923 yılında il olmuştur.

İl, çevre illere kara yolu ile bağlı olup ayrıca, ilin demir yolu ulaşımı da sağlanmıştır, fakat demir yolu, genelde yük taşımacılığında kullanılmaktadır.


➤ **İldeki başlıca tarihi, doğal ve turistik yerler şunlardır**

Mardin Kalesi, Deyrulzafaran Manastırı, Marin Kalesi, Anastasiapolis, Ulu Cami, Emüniddin Medresesi, Zinciriye Medresesi

7.2.2.3. Batman

Adını Batman Çayından alan kent, 1990 yılında il olmuştur.

İl, çevre illere kara yolu ile bağlı olup ayrıca, ilin demir yolu ulaşımı da sağlanmaktadır.



Resim 29: Hasankeyf

➤ **İldeki başlıca tarihi, doğal ve turistik yerler şunlardır**

Hasankeyf Kalesi, Dicle Nehri, Hızırbey Camii, Kandil Kalesi, Rabat Kalesi.

7.2.2.4. Siirt

Kent tarihinin Urartularla başladığı sanılmaktadır. 1514 yılında Osmanlı topraklarına katılan Siirt, 1923 yılında il olmuştur.

İl, çevre illere kara yolu ile bağlı olup ayrıca, ilin demir yolu ve hava yolu ulaşımı da sağlanmıştır.

➤ **İldeki başlıca tarihi, doğal ve turistik yerler şunlardır**

Cumhuriyet Camii, Ulu Cami, Veysel Karani Türbesi, Sağlarca Kaplıcası, Hista (Taruni)

7.3. Güneydoğu Anadolu Bölgesinin Türkiye Turizmindeki Yeri ve Önemi

Güneydoğu Anadolu Bölgesi, zengin bir tarihe sahip olup çağlar boyu birçok uygarlığa sahne olmuştur. Bölgede, birçok tarihi eser bulunmaktadır. Ancak, bölgede turizm yeterince gelişmemiştir. Bu durumun sebepleri arasında; doğal şartların elverişsizliği, tesislerin yetersiz oluşu ve yeterli tanıtımın yapılamamış olması sayılabilir.

UYGULAMA FAALİYETİ

Güneydoğu Anadolu Bölgesi'nin illerini, tarihi, doğal ve turistik varlıklarını araştırarak elde ettiğiniz dökümanları değerlendirerek eletronik ortamda power point sunusu hazırlayarak arkadaşlarınıza ve öğretmeninize sununuz.

İşlem Basamakları	Öneriler
<ul style="list-style-type: none">➤ Haritada üzerinde çalışırken fiziki harita kullanınız.➤ Güneydoğu Anadolu Bölgesi sınırları içinde yer alan illeri haritanın içine yerleştiriniz.➤ Bölgede bulunan önemli tarihi, doğal ve turistik varlıkları belirleyiniz.➤ Buraların en belirgin özelliklerini illere göre öğreniniz.➤ Her ildeki en önemli tarihi, doğal ve turistik varlıkları harita üzerinde gösteriniz.➤ Topladığınız bilgi ve materyaller ile rapor hazırlayınız.➤ Tüm materyallerinizi power point programına aktarınız.➤ Sınıf ortamında sunum yapabilecek tüm hazırlıklarını tamamlayınız.	<ul style="list-style-type: none">➤ Çizeceğiniz haritayı modül sonuna kadar kullanacağınız için dikkatli kullanınız.➤ Büyük Atlas'tan faydalanınız.➤ Harita içine illeri yerleştirirken her il için aynı sembolü kullanınız.➤ Bölgedeki tarihi, doğal ve turistik varlıkları belirlerken çeşitli renk, sembol ve simgeler kullanınız.➤ Topladığınız bilgileri derleyip rapor haline getirirken dikkat çekici anlatımlar kullanınız.➤ Sunum sırasında gülyüzlü olunuz.➤ Sunumda arkadaşlarınızdan gelebilecek sorulara karşı dikkatli ve hazırlıklı olunuz.➤ Beden dilini etkili kullanınız.➤ Canlı, hareketli ve esprituèel olunuz.➤ İnsanlarla etkili iletişim kurunuz.

ÖLÇME VE DEĞERLENDİRME

ÖLÇME SORULARI

Bu faaliyet kapsamında hangi bilgileri kazandığınızı belirleyebilmemiz için sorular verilmiştir.

Aşağıdaki sorulardan doğru olan seçeneği işaretleyiniz.

- 1- Güneydoğu Anadolu Bölgesinde hangi iklim görülmektedir?
A) Akdeniz iklimi B) Karadeniz iklimi
C) Karasal iklim D) Akdeniz ve karasal iklim
- 2- Peygamberler Şehri olarak bilinen şehrimiz aşağıdakilerden hangisidir?
A) Şanlı Urfa B) Adıyaman C) Muş D) İstanbul
- 3- Aşağıdaki illerimizin hangisinde hava alanı **yoktur**?
A) Adıyaman B) Gaziantep C) Şanlı Urfa D) Iğdır
- 4- Hititler döneminde kurulduğu sanılan va eski adı “Amid” olarak bilinen ilimiz aşağıdakilerden hangisidir?
A) Siirt B) Batman C) Diyarbakır D) Mardin
- 5- Aşağıdaki turistik varlıklardan hangisi Adıyaman ilimizde yer **almaz**?
A) Pirin Mağarası B) Cendere Köprüsü C) Nemrut Dağı D) Sağlarca Kaplıcası
- 6- Gedikli Höyük aşağıdaki illerimizin hangisindedir?
A) Gaziantep B) Diyarbakır C) Batman D) Siirt
- 7- **Hasankeyf** Kalesi aşağıdaki illerimizin hangisindedir?
A) Siirt B) Mardin C) Batman D) Adıyaman
- 8- Aşağıdaki şehirlerimizden hangisi Güneydoğu Anadolu Bölgesinde yer **almaz**?
A) Siirt B) Batman C) Sinop D) Mardin

DEĞERLENDİRME ÖLÇEĞİ

KONTROL LİSTESİ

KRİTERLER (ÖLÇÜTLER)	EVET	HAYIR
• Güney Doğu Anadolu Bölgesi içindeki illeri doğru bir şekilde gösterdiniz mi?		
• Bölgede bulunan tarihi, doğal ve turistik varlıkları doğru belirlediniz mi?		
• Bölgedeki önemli tarihi doğal turistik varlıkları harita üzerinde çeşitli semboller ile doğru gösterdiniz mi?		
• Konu hakkındaki tüm bilgi ve materyallerini rapor haline getirdiniz mi?		
• Hazırladığınız raporu power point programına aktardınız mı?		
• Sınıf ortamında sunum yapabilecek tüm hazırlıkları tamamladınız mı?		

DEĞERLENDİRME

Öğrenme faaliyetinde ,evet sayıları çoğunlukta ise başarılı olduğunuz için diğer bir öğrenme faaliyetine geçebilirsiniz.Hayır'larınız çok ise öğrenme faaliyetini tekrar uygulamak için öğretmenize başvurunuz.

CEVAP ANAHTARLARI

ÖĞRENME FAALİYETİ – 1 CEVAP ANAHTARI

1. D
2. B
3. B
4. A
5. C
6. B
7. A
8. C

ÖĞRENME FAALİYETİ – 2 CEVAP ANAHTARI

1. D
2. A
3. B
4. D
5. C
6. A
7. D
8. D

ÖĞRENME FAALİYETİ – 3 CEVAP ANAHTARI

1. B
2. C
3. D
4. D
5. A
6. C
7. C
8. A

ÖĞRENME FAALİYETİ – 4 CEVAP ANAHTARI

1. C
2. B
3. D
4. C
5. A
6. A
7. B
8. D

ÖĞRENME FAALİYETİ – 5 CEVAP ANAHTARI

1. D
2. A
3. C
4. B
5. A
6. D
7. D
8. D

ÖĞRENME FAALİYETİ – 6 CEVAP ANAHTARI

1. D
2. C
3. B
4. D
5. C
6. A
7. C
8. A

ÖĞRENME FAALİYETİ – 7 CEVAP ANAHTARI

1. D
2. A
3. D
4. C
5. D
6. A
7. C
8. C

DEĞERLENDİRME

Cevaplarınızı, cevap anahtarıyla karşılaştırınız ve doğru cevap sayınızı belirleyerek kendinizi değerlendiriniz. Yanlış cevapladığınız konularla ilgili öğrenme faaliyetlerini tekrarlayınız.

MODÜL DEĞERLENDİRME

Deniz turizmi olan merkezler ile ilgili olarak aşağıdaki konularda arařtırmalar yaparak tanıtım yapmak, amacıyla sonuçları rapor haline getiriniz.

Öğrencinin	Değerlendirmenin	
Adı Soyadı : Sınıfı : No :	Başlama Saati : Bitirme Saati : Kullanılan Süre :	
Türkiye’de deniz turizmi yapılan en az önemli turistik merkez harita üzerinde doğru olarak gösterildi mi?	EVET	HAYIR
Bu merkezlerin tarihi özellikleri sembollerle doğru olarak belirlendi mi?		
Bu merkezlerin turistik özellikleri sembollerle doğru olarak belirlendi mi?		
Bu merkezlerin doğal güzellikleri sembollerle doğru olarak belirlendi mi?		
Bu çalışmalar fotoğraf, resim vb. dökümanlar ile desteklendi mi?		
Elde edilen bu bilgiler tanıtım yapabilecek şekilde rapor haline getirildi mi?		

Not : Zümre kararı ile farklı bir uygulama konusu seçilebilir.

KAYNAKÇA

- ALP Ahmet, **Turizm Coğrafyası ve Turizm Bölgelerinin Özellikleri**, Yaykur, Ankara 1976
 - ARAS Seval, Ali DURU, İlhan BENLİGİRAYOĞLU, Semra DUAK, Sunay KILIÇARSLAN , **Lise Coğrafya Ders Kitabı** , Milli Eğitim Basımevi, İstanbul 2004
 - ÇOBAN Asım, **Lise Coğrafya Ders Kitabı** , Tutibay Yayınları, Ankara 2000
 - **Gezi Tatil Rehberi**, Ekin Yazım Merkezi, İstanbul 2002
 - GÜNGÖRDÜ Ersin, **Türkiye'nin Turizm Coğrafyası** , Nobel Yayın Dağıtım, Ankara 2003
 - **Orta Atlas**, Kurtuluş Yayınları, Ankara
 - ŞAHİN Cemalettin, **Liseler İçin Coğrafya 2**, Ders Kitapları Anonim Şirketi, İstanbul 2000
 - TUNCER Adem, **Turizm Coğrafyası**, Tuibay Yayınları, Ankara 2002
- <http://www.denizcilik.gov.tr>.
 - <http://www.dhmi.gov.tr>