

T.C.
MİLLÎ EĞİTİM BAKANLIĞI



MEGEP

(MESLEKÎ EĞİTİM VE ÖĞRETİM SİSTEMİNİN
GÜÇLENDİRİLMESİ PROJESİ)

GIYIM ÜRETİM TEKNOLOJİSİ

ERKEK İŞ GÖMLEĞİ KALIBI

ANKARA 2007

Milli Eğitim Bakanlığı tarafından geliştirilen modüller;

- Talim ve Terbiye Kurulu Başkanlığının 02.06.2006 tarih ve 269 sayılı Kararı ile onaylanan, Mesleki ve Teknik Eğitim Okul ve Kurumlarında kademeli olarak yaygınlaştırılan 42 alan ve 192 dala ait çerçeve öğretim programlarında amaçlanan mesleki yeterlikleri kazandırmaya yönelik geliştirilmiş öğretim materyalleridir (Ders Notlarıdır).
- Modüller, bireylere mesleki yeterlik kazandırmak ve bireysel öğrenmeye rehberlik etmek amacıyla öğrenme materyali olarak hazırlanmış, denenmek ve geliştirilmek üzere Mesleki ve Teknik Eğitim Okul ve Kurumlarında uygulanmaya başlanmıştır.
- Modüller teknolojik gelişmelere paralel olarak, amaçlanan yeterliği kazandırmak koşulu ile eğitim öğretim sırasında geliştirilebilir ve yapılması önerilen değişiklikler Bakanlıkta ilgili birime bildirilir.
- Örgün ve yaygın eğitim kurumları, işletmeler ve kendi kendine mesleki yeterlik kazanmak isteyen bireyler modüllere internet üzerinden ulaşılabilirler.
- Basılmış modüller, eğitim kurumlarında öğrencilere ücretsiz olarak dağıtılır.
- Modüller hiçbir şekilde ticari amaçla kullanılamaz ve ücret karşılığında satılamaz.

İÇİNDEKİLER

AÇIKLAMALAR	ii
GİRİŞ	1
ÖĞRENME FAALİYETİ – 1.....	3
1. ERKEK İŞ GÖMLEĞİ KALIBI.....	3
1.1. İş Gömleği Model Analiz İşlemleri.....	3
1.1.1. Erkek İş Gömleği Teknik Föyü.....	5
1.2. Erkek İş Gömleği Kalıbı Çizimi - 1/4	6
UYGULAMA FAALİYETİ.....	6
1.3 Erkek İş Gömleği Kalıp Açma İşlemleri	11
1.4. Erkek İş Gömleği Şablonu Hazırlama İşlemleri	15
ÖĞRENME FAALİYETİ - 2	19
2. ERKEK İŞ GÖMLEĞİ ANA VE YARDIMCI MALZEME HESAPLAMALARI	19
2.1. Erkek İş Gömleğinde Kullanılan Ana ve Yardımcı Malzemeler	19
2.2. Erkek İş Gömleği İçin Ana ve Yardımcı Malzeme Hesabı Yapma İşlemleri.....	20
UYGULAMA FAALİYETİ.....	20
2.2.1 Erkek İş Gömleği Kalıbını Kumaşa Yerleştirme	21
2.2.2 Tela Kalıbını Yerleştirme	22
MODÜL DEĞERLENDİRME.....	23
KAYNAKÇA	24

AÇIKLAMALAR

KOD	542TGD077
ALAN	Giyim Üretim Teknolojisi
DAL – MESLEK	Kadın Giyim Modelistliği-Hazır Giyim Model Makineci- Erkek Giyim Modelistliği - Erkek Terziliği-Kadın Terziliği
MODÜLÜN ADI	Erkek İş Gömleği Kalıbı
MODÜLÜN TANIMI	Erkek iş gömleği çiziminin anlatıldığı bir öğrenme materyalidir.
SÜRE	40 / 16
ÖN KOŞUL	“Tişört Kalıbı” modülünü başarmış olmak
YETERLİLİK	Erkek iş gömleği kalıbı çizmek
MODÜLÜN AMACI	Genel Amaç Bu modül ile gerekli ortam sağlandığında föy çizim tekniğine uygun erkek iş gömleği kalıbını hazırlayabileceksiniz. Amaçlar Ø Föy çizimi ile tekniğine uygun erkek iş gömleğini hazırlayabileceksiniz. Ø Verimlilik ilkeleri doğrultusunda erkek iş gömleği için ana ve yardımcı malzeme hesabı yapabileceksiniz.
EĞİTİM ÖĞRETİM ORTAMLARI VE DONANIMLARI	Çizim masası, kalem, kâğıt, cetvel, mezur, riga, pistole, yapıştırıcı, makas, silgi, model, ölçü tablosunun olduğu aydınlık bir ortam.
ÖLÇME VE DEĞERLENDİRME	Modülün içinde yer alan her öğrenme faaliyetinden sonra verilen ölçme araçları ile kendinizi değerlendirebileceksiniz. Modül sonunda kazandığınız bilgi ve becerileri belirlemek amacıyla uygun ölçme araçları ile değerlendirileceksiniz.

GİRİŞ

Sevgili Öğrenci,

İş hayatının birçok bölümünde kullanılan iş giysilerinin modelleri yapılan işin amacına uygun olarak tasarlanır.

İş giysileri çalışan kişilerin giysilerini çalışma ortamının olumsuz etkilerinden korurken, kişiye giydiği zaman çalışma rahatlığı sağlar. Kullanılan kumaş ve malzemeler model özelliğine göre değişiklik gösterirler. İş gömlekleri, is tulumları, iş elbiseleri gibi, yapıldığı işe göre isimler alır. Aynı zamanda toplu çalışan kişilerin iş disiplinini sergiler.

Bu modül çalışmasında başarılı olabilmeniz için çizimle ilgili temel bilgi ve beceriye sahip olmanız yeterlidir.

Bu modülü başarı ile tamamladığınızda erkek iş gömleğine ait ölçüleri, ölçüye uygun olarak föy çizim tekniği ile erkek iş gömleği kalıbı elde etme ile ilgili tüm işlemlerini, ana ve yardımcı malzeme hesaplamalarını verimlilik ilkeleri doğrultusunda yapabileceksiniz.

ÖĞRENME FAALİYETİ-1

AMAÇ

Bu faaliyette verilen bilgiler doğrultusunda uygun ortam sağlandığında föy çizimi ile erkek iş gömleği kalıbını tekniğine uygun bir şekilde çizebileceksiniz.

ARAŞTIRMA

Temel erkek iş gömleği kalıbının farklı tekniklere göre çizim şekillerini araştırınız. Elde ettiğiniz sonuçları arkadaşlarınızla paylaşınız.

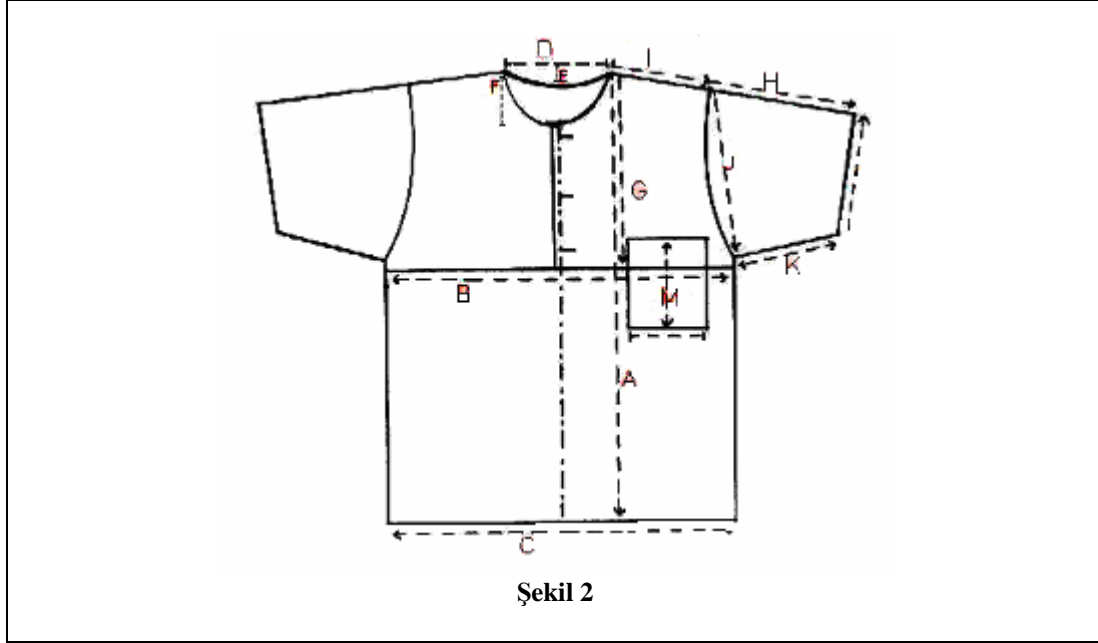
1. ERKEK İŞ GÖMLEĞİ KALIBI

1.1. İş Gömleği Model Analiz İşlemleri

ÜRÜN : Erkek İş Gömleği	BEDEN NU : 50
FORM : (...)	TARİH : .../.../.....
	
Şekil 1	

PARA LİSTESİ		BİÇİM TANIMLAMA
Para Adı (Kumaş)	Adet	Ø Ön ve arka beden robalı Ø Yuvarlak yakalı Ø Ön ortada düz kapama Ø 3 düğmeli Ø Kısa kollu Ø Yaka pervazlı Ø Tek cepli Ø Kol ağızı ve etek ucu 2.5 cm gaze dikişli Ø Cep boyutları: 12x14cm Ø Kapama payı 4 cm
✓ Ön roba	2 Adet	
✓ Arka roba	1 adet	
✓ Ön beden (KK)	1 Adet	
✓ Arka beden (KK)	1 Adet	
✓ Arka yaka pervazı	1 Adet	
✓ Kol	2 Adet	
✓ Cep	1 Adet	
TOPLAM	9 Adet	
ÜRÜN İÇİN GEREKLİ ANA VE YARDIMCI MALZEMELER		
Kumaş Örneđi Dikiş İplikleri Tela		Etiketler
		Beden Etiketi
		Firma Etiketi
		Yıkama Talimatı

1.1.1. Erkek İş Gömleği Teknik Föyü



Şekil 2

ÖLÇÜLER	46	48	50	52	54
A- Model Boyu (Omuzdan)	70	72	75	78	81
B- ½ Beden Genişliği	56	58	60	62	64
C- ½ Etek Ucu Genişliği	56	58	60	62	64
D- Arka Yaka	13	13.5	14	14.5	15
E- Arka Yaka Düşüklüğü	3	3.5	3.5	4	4
F- Ön yaka düşüklüğü	7	7.5	8	8.5	9
G- Roba Boyu (Omuzdan)	26	27	28	29	30
H- Omuzdan Kol Boyu	21	22	23	24	25
I- Omuz Genişliği	17	17.5	18	18.5	19
J- Kol Evi Yüksekliği	23	24	24.5	25	26
K- Kol Alt Uzunluğu	8	9	10	11	12
L- Kol Ağız Genişliği	16	17	18	19	20
M- Cep Boyutları (En, Boy)			12 x14		
Kol Oyuntu Çevresi	Kalıp üzerinden ölçünüz		25	Kalıp üzerinden ölçünüz.	

1.2. Erkek İş Gömleği Kalıbı Çizimi - 1/4

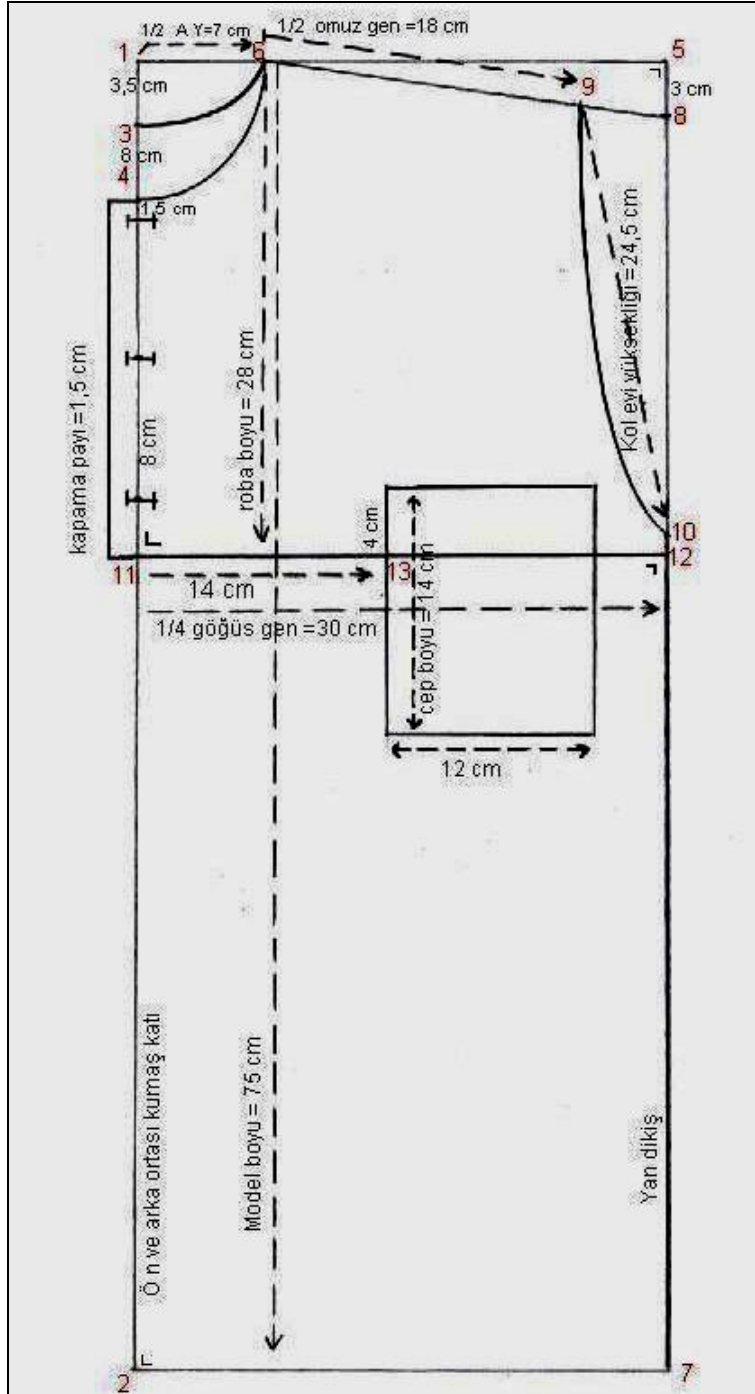
UYGULAMA FAALİYETİ

İşlem Basamakları	Öneriler
Ön-Arka Beden Ø Sol tarafa dik çizerek, yukarıda başlangıç noktası belirleyiniz (1 noktası).	Ø Sayfa düzenine dikkat ediniz.
Ø 1 noktasından aşağıya doğru model boyu ölçüsünü işaretleyiniz (2 noktası).	Ø 1 ve 2 noktaları arasındaki dik çizgi ön ve arka orta hattıdır.
Ø 1 noktasından aşağıya doğru arka yaka düşüklüğü ölçüsünü işaretleyiniz (3 noktası).	
Ø 1 ve 2 noktalarını hatta dik açı yaparak sağa doğru uzatınız.	
Ø 1 noktasından aşağıya doğru ön yaka düşüklüğü ölçüsünü işaretleyiniz (4 noktası).	
Ø 1 noktasından sağa doğru ¼ beden ölçüsünü işaretleyiniz (5 noktası).	
Ø 1 noktasından sağa doğru ½ arka yaka ölçüsünü işaretleyiniz (6 noktası).	
Ø 2 noktasından dik açı ile uzattığımız çizgiyi dik açı ile 5 noktasından inen çizgiyle birleştiriniz (7 noktası).	
Ø 5 noktasından aşağıya doğru 3cm ininiz (8 noktası).	
Ø 6 ve 8 noktalarını düz birleştiriniz.	
Ø Bu çizgi üzerinde 6 noktasından sağa doğru omuz genişliği ölçüsünü işaretleyiniz (9 noktası).	
Ø 3 ve 6 noktaları arasında arka yaka oyuntusunu çiziniz.	Ø Yuvarlak hatlarda pistole kullanınız.
Ø 9 noktasından aşağıya doğru yardımcı çizgi üzerinde kol evi yüksekliği ölçüsünü işaretleyiniz. (10 noktası).	
Ø 9 ve 10 noktaları arasında ön, arka kol oyuntusunu çiziniz.	Ø Riga ya da pistole kullanınız.
Ø 1 noktasından aşağıya doğru roba boyu ölçüsünü işaretleyiniz (11 noktası).	

Ø 11 noktasını hatta dik aç ı yapacak şekilde sa ğda kol oyuntusuna kadar uzatınız (12 noktas ı).	Ø Cetvel kullanınız.
Ø 4 ve 6 noktaları aras ını ön yakayı pistole ile birleřtiriniz.	Ø Yaka oyuntusu çizimi için şekle bakınız.
Ø Robanın ön ortasından d ıřarı paralel 1.5 cm kapama pay ı iřaretleyiniz ve yaka ucu ile tamamlayınız.	
Ø İlk ilik yeri için 1 dü ğme çap ı ařa ğı inerek dü ğme kalınl ı ğını ön ortasından d ıřarı ç ıkıp dü ğme çap ını (1.5 cm) yatay şekilde iřaretleyiniz.	
Ø 8 cm ara ile 3 ilik yeri iřaretleyiniz.	
Ø 11 noktasından roba çizgisi üzerinde sa ğa do ğru 14 cm girerek cep yerini belirleyiniz (13 noktas ı).	
Ø 13 noktasından yukarıya 4 cm ç ıkarak cep üst kenar çizgisini belirleyiniz.	
Ø Bulunan noktadan sola ve ařa ğıya do ğru cep boyutlarını iřaretleyerek cep çizimini yapınız.	Ø Cep eni 12 cm, Ø Cep boyu 14 cm'dir.
Ø Kol :Kol çizimi için beden üzerinden kol oyuntu çevresi ölçüsü alınız.	Ø Temel Beden Kalıb ı modülüne bakınız.
Ø Sol tarafa dik çizerek, yukarıda başlang ıç noktas ı belirleyiniz (1 noktas ı).	
Ø 1 noktasından ařa ğıya do ğru kol boyu ölçüsünü iřaretleyiniz (2 noktas ı).	
Ø 2 noktasını hatta dik aç ı yaparak sa ğa do ğru uzatınız.	
Ø Çizgi üzerinde 2 noktasından başlayarak kol a ğz ı genişli ği ölçüsünü iřaretleyiniz (3 noktas ı).	
Ø Pergelinizi kol oyuntu çevresi ölçüsünde açınız.	
Ø Pergelinizi 1 noktasına yerleřtirerek sa ğ tarafa do ğru bir yay çiziniz.	
Ø 3 noktasından yukarıya do ğru, çizilen yay ı kesecek şekilde kol alt ı dikiři ölçüsünde bir yay çiziniz (4 noktas ı).	
Ø 1- 4 noktaları aras ını yardımcı çizgi ile birleřtiriniz.	
Ø Bu noktalar arasında kol oyuntusunu çiziniz.	Ø Kol oyuntusu çizimi için şekle bakınız.
Ø 1, 2, 3 ve 4 noktaları arasında kol kesin hatlarını çiziniz.	

Erkek İş Gömleği Kalıbı Çizimi

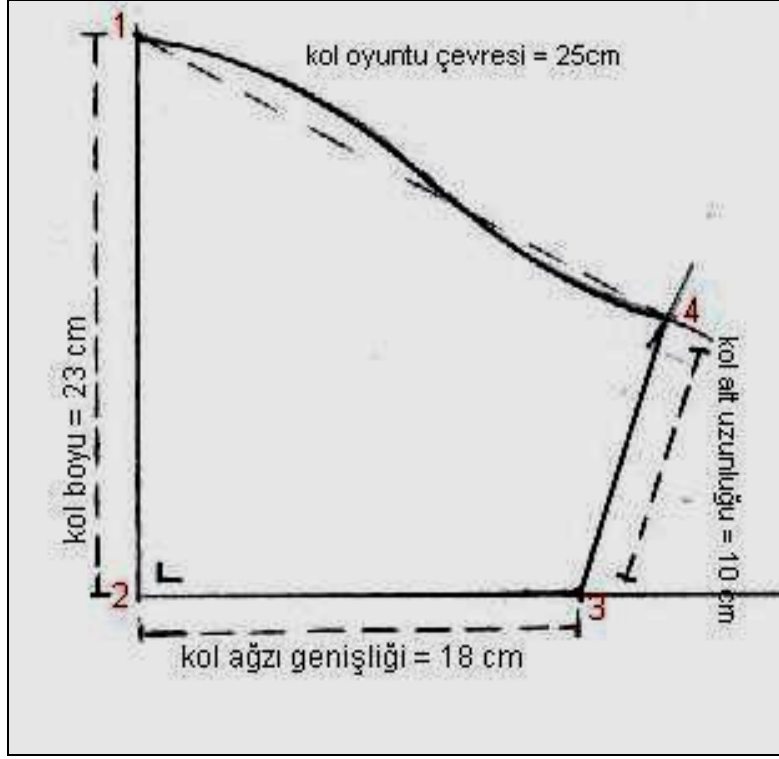
50 Beden



Şekil 3

Erkek İş G6mleđi Kol Kalıbı Cizimi

50 Beden



řekil 4

KONTROL LİSTESİ

Aşağıdaki kontrol listesinde yer alan kriterleri kendiniz veya bir arkadaşınızla değişerek değerlendiriniz.

DEĞERLENDİRME ÖLÇÜTLERİ		Evet	Hayır
1	Erkek iş gömleği modelini doğru analiz ettiniz mi?		
2	Erkek iş gömleği ölçülerini ölçü föyünden doğru olarak aldınız mı?		
3	Çizime başlarken sayfa düzenine dikkat ederek sol tarafta bir dik oluşturduğunuz mu?		
4	1 noktasından aşağıya doğru model boyu, arka ve ön yaka düşüklüğü ölçülerini doğru işaretlediniz mi?		
5	İşaretlediğiniz 1 ve 2 noktalarını sağa doğru dik açı ile uzattınız mı?		
6	1 noktasından sağa doğru ¼ göğüs genişliğini doğru olarak işaretlediniz mi?		
7	½ arka yaka ölçüsünü 1 noktasından sağa işaretleyerek ön ve arka yaka oyuntularını tekniğine uygun pistole ile çizdiniz mi?		
8	Roba boyu ölçüsünü doğru yerden işaretlediniz mi?		
9	Kol oyuntu çizimini yapabilmek için kol evi yüksekliği ölçüsünü 9 noktasından aşağıya yan dikiş üzerinde doğru ölçerek işaretlediniz mi?		
10	Kol evi çizimini formuna uygun çizdiniz mi?		
11	Kapama payını düğme çapına uygun verdiniz mi?		
12	Cep çizimini ölçülerine uygun olarak çizdiniz mi?		
13	Kol çizimi için beden üzerinden kol oyuntu çevresi ölçüsünü aldınız mı?		
14	Kol çizimi için sol kenarda dik çizgi oluşturduğunuz mu?		
15	Kol oyuntu çevresi ölçüsü ile kol alt uzunluğu ölçülerini pergel yardımı ile kesiştirdiniz mi?		
16	Bulduğunuz noktaları birleştirerek kol kesin hatlarını oluşturduğunuz mu?		
17	Zamanı iyi kullandınız mı?		

DEĞERLENDİRME

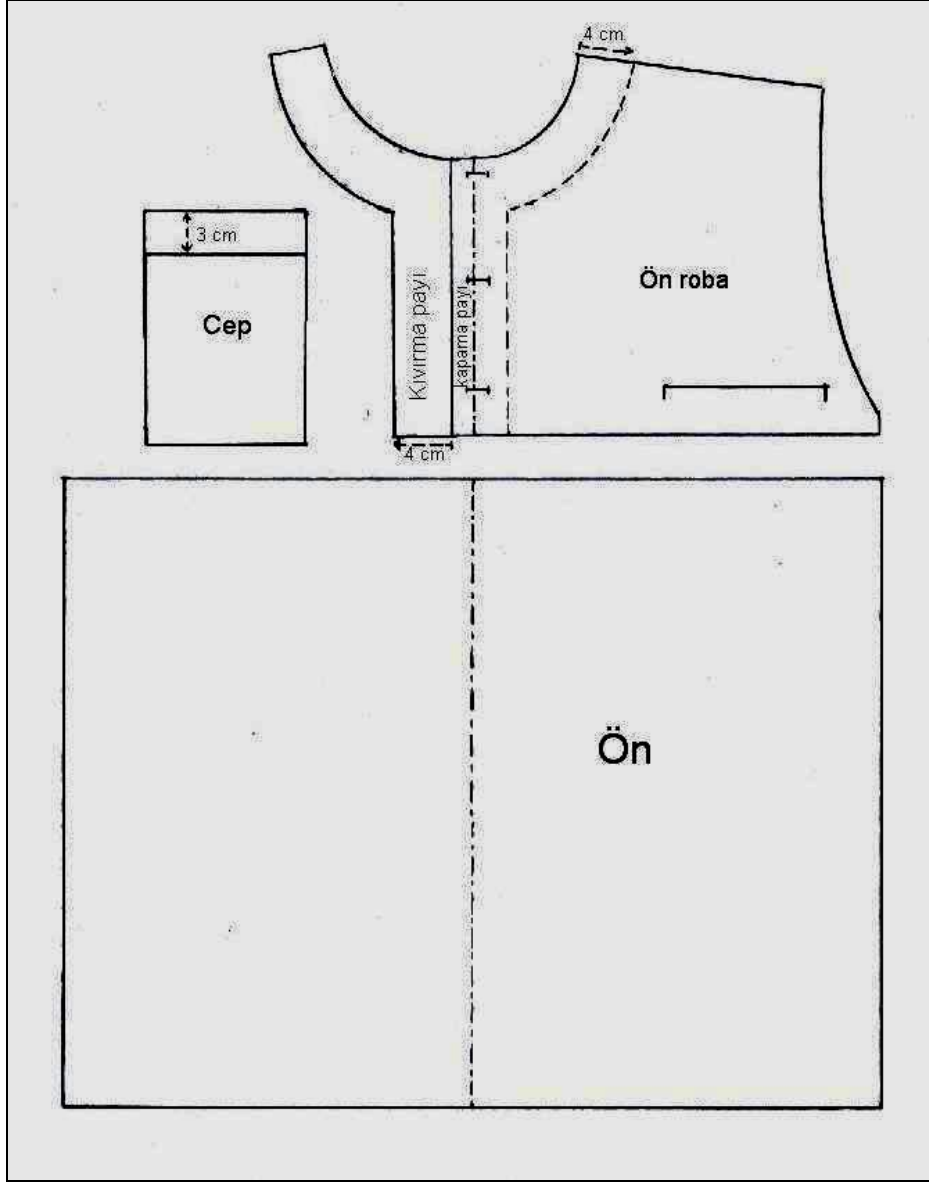
Yaptığımız değerlendirme sonunda eksikleriniz varsa öğrenme faaliyetinde ilgili konuya dönerek işlemleri tekrar ediniz.

1.3 Erkek İş Gömleği Kalıp Açma İşlemleri

İşlem Basamakları	Öneriler
Ø Erkek iş gömleği kalıbı üzerinden ön-arka bedenleri, kol ve cep kopyası alınız.	Ø Kopyalar üzerine düz boy iplik ve cep yeri işaretlerini alınız.
Ön Ø Ön bedeni roba çizgisinden keserek ayırınız.	
Ø Ön robanın kapama payından içeriye doğru kıvrırma payı kadar işaretleyiniz.	Ø Kıvrırma payı: düğme çapı = $1.5 \times 2 + 1 = 4$ cm'dir.
Ø Ön yaka çevresine paralel olacak şekilde içeriye doğru 4 cm işaretleyerek yaka pervazını kıvrırma payı ile birleştirerek çiziniz.	
Ø Çizdiğiniz pervaz ve kıvrırma payının kopyasını alınız kapama payının yanına ters çevirerek yerleştiriniz.	
Ø Ön robanın son şekliyle kopyasını alarak kalıp açılımını yapınız.	Ø Düz boy iplik işareti ve sayfa düzenine dikkat ediniz
Ø Ön ortası kumaş katı olacak şekilde kalıp açılımını yapınız.	
Ø Cepte, cep ağzından yukarıya doğru cep kıvrırma payı ölçüsünü işaretleyerek çiziniz.	
Arka Ø Arka bedeni roba çizgisinden keserek ayırınız.	
Ø Arka yaka çevresine paralel olacak şekilde içeriye doğru 4 cm işaretleyerek yaka pervazını çiziniz.	
Ø Arka roba, arka beden ve arka yaka pervazının arka ortası kumaş katı olacak şekilde kalıp açılımını yapınız.	
Kol Ø Kol ortası kumaş katı olacak şekilde kol kalıp açılımını yapınız.	
Ø Kol ağzından aşağıya doğru kol kıvrırma payının ölçüsünü işaretleyerek çiziniz.	Ø Kol ağzına paralel olacak şekilde kol kıvrırma payı ölçüsünü işaretleyiniz.
Ø Ölçü kontrolü yaparak kol altı dikişini kapatınız.	Ø Ölçü kontrolünde kesik çizginin ölçüsünü kol ortasından sağa ve sola doğru işaretleyiniz.
Ø Açılımı yapılan kalıp parçalarını isimlendiriniz.	Ø Parça İsimleri: Ön yaka bandı, ön roba, ön beden, küçük cep, büyük cep, arka beden, arka yaka pervazı, kol.

Erkek İş Gömleği Kalıp Açılımları

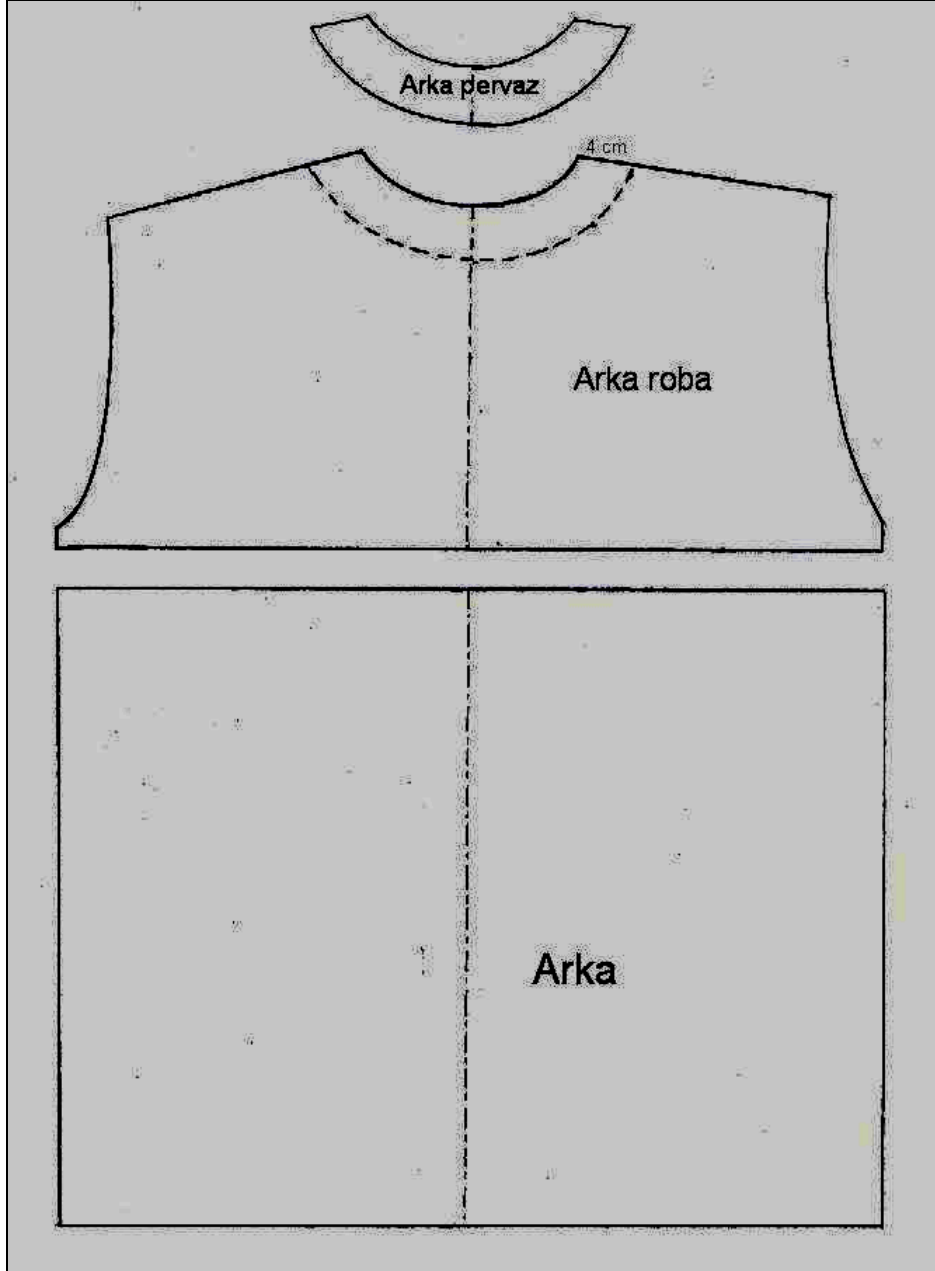
Ön



Şekil 5

Erkek İş Gömleği Kalıp Açılımları

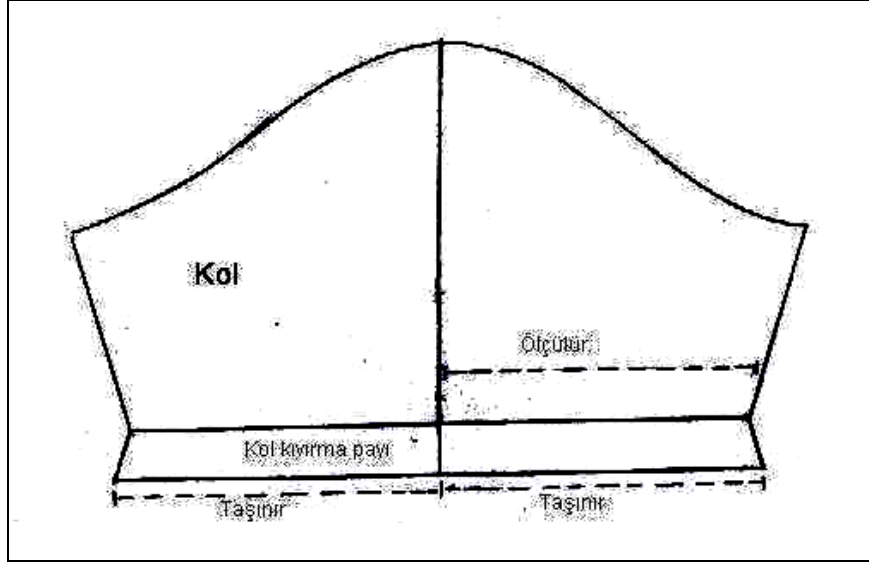
Arka



Şekil 6

Erkek İş Gömleği Kalıp Açılımları

Kol



Şekil 7

KONTROL LİSTESİ

Aşağıdaki kontrol listesinde yer alan kriterleri kendiniz veya bir arkadaşınızla değiştirerek değerlendiriniz.

DEĞERLENDİRME ÖLÇÜTLERİ		Evet	Hayır
1	Erkek iş gömleği kalıbı üzerinden ön-arka bedenler, kol ve ceplerin kopyalarını aldınız mı?		
2	Ön bedeni roba çizgisinden keserek ayırdınız mı?		
3	Robanın ön ortasında kıvrıma payını çizerek açılımını yaptınız mı?		
4	Ön yaka pervazını kıvrıma payı ile birleştirerek çizdiniz mi?		
5	Cep ağzına kıvrıma payı vererek çizdiniz mi?		
6	Arka bedeni roba çizgisinden keserek ayırdınız mı?		
7	Arka yaka pervazını işaretleyerek çizdiniz mi?		
8	Kol kıvrıma payını işaretleyerek tekniğine uygun çizdiniz mi?		
9	Kalıp açılımlarını doğru olarak yaptığınızı kontrol ettiniz mi?		
10	Zamanı iyi kullandınız mı?		

DEĞERLENDİRME

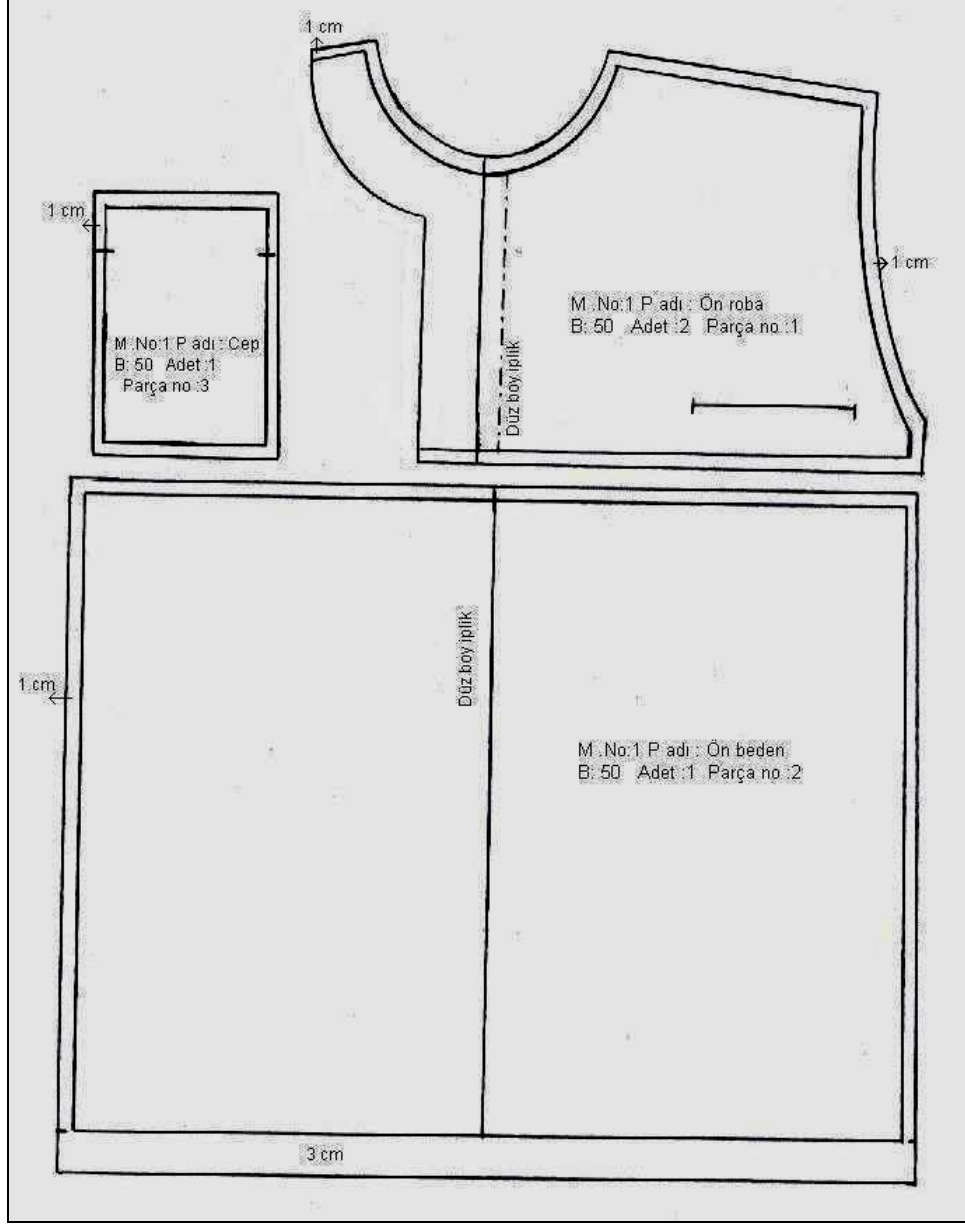
Yaptığımız değerlendirme sonunda eksikleriniz varsa öğrenme faaliyetinde ilgili konuya dönerek işlemleri tekrar ediniz.

1.4. Erkek İş Gömleği Şablonu Hazırlama İşlemleri

İşlem Basamakları	Öneriler
Erkek iş gömleği kalıp açılımları üzerinden kopya alınız.	Kopyalar üzerine gereken yazıları yazarak işaretleri alınız.
Kalıpları keserek sayfaya yapıştırınız.	Düz boy iplik işareti ve sayfa düzenine dikkat ediniz.
Ön Beden Ön robanın her tarafına 1cm dikiş payı veriniz.	
Ön bedende etek ucuna 3cm, diğer kenarlara 1cm dikiş payı veriniz.	
Ön yaka bandının her tarafına 1cm dikiş payı veriniz.	
Gerekli yazı ve işaretleri yazınız. Model nu Parça nu Parça adı Parçanın kaç adet kesileceği Beden nu Çıt yerleri Düz boy iplik yön işaretleri	
Arka Beden Arka bedende etek ucuna 3cm, diğer kenarlara 1cm dikiş payı veriniz.	
Arka yaka pervazında omuz ve yaka evine 1cm dikiş payı veriniz. Gerekli yazı ve işaretleri yazınız.	
Kol Kol kalıbının her yerine 1cm dikiş payı veriniz. Gerekli yazı ve işaretleri yazınız.	
Cep Cebin her tarafına 1cm dikiş payı veriniz. Gerekli yazı ve işaretleri yazınız	
Şablonları kartona geçirerek çıt yerlerini işaretleyiniz.	

Erkek İş Gömleği Şablon Çizimi

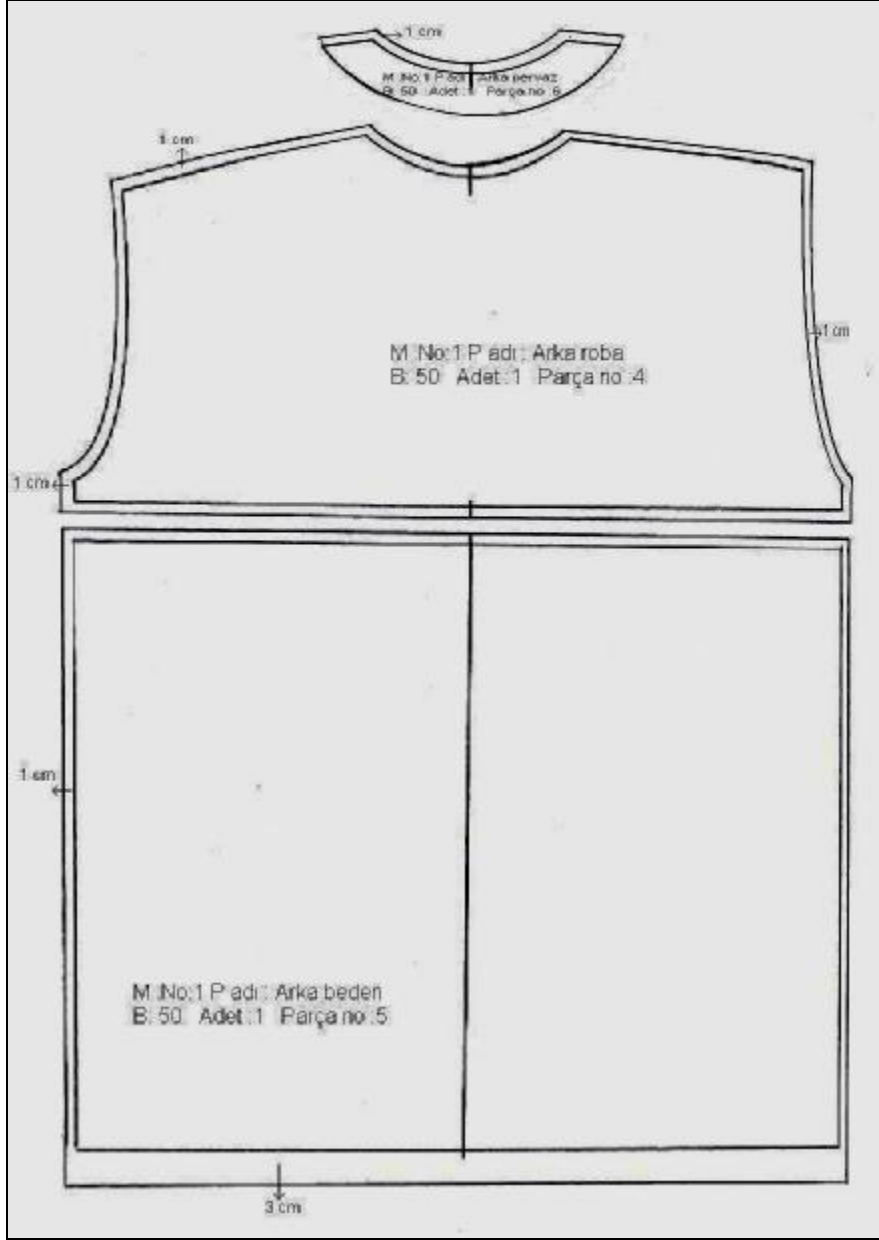
Ön



Şekil 8

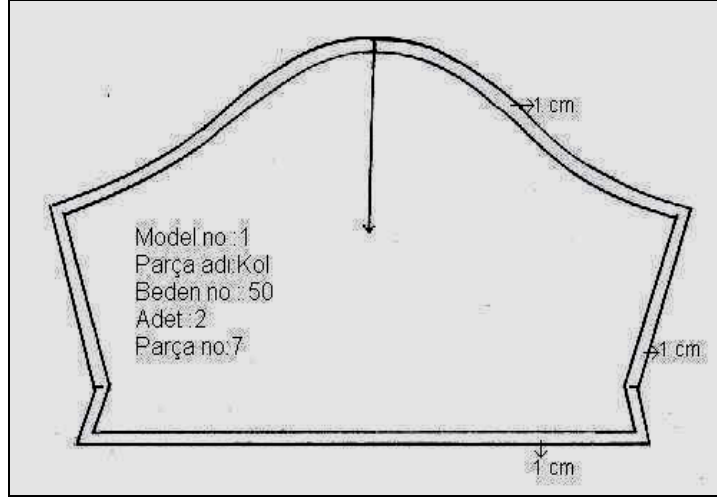
Erkek İş Gömleği Şablon Çizimi

Arka



Şekil 9

Erkek İş Gömleği Şablon Çizimi Kol



Şekil 10

KONTROL LİSTESİ

Aşağıdaki kontrol listesinde yer alan kriterleri kendiniz veya bir arkadaşınızla değiştirerek değerlendiriniz.

DEĞERLENDİRME ÖLÇÜTLERİ		Evet	Hayır
1	Erkek iş gömleği kalıp açılımları üzerinden kopya aldınız mı?		
2	Kalıpları kesip, düz boy iplik işareti ve sayfa düzenine dikkat ederek yapıştırdınız mı?		
3	Kalıpların kenarlarına 1cm, etek ucuna ve kol ağzına 3 cm dikiş paylarını vererek çizdiniz mi?		
4	Tüm şablonlar üzerine gerekli yazıları yazarak çit işaretlerini aldınız mı?		
5	Şablonları kartona geçirdiniz mi?		
6	Şablonları doğru olarak yaptığınızı kontrol ettiniz mi?		
7	Zamanı iyi kullandınız mı?		

DEĞERLENDİRME

Yaptığımız değerlendirme sonunda eksikleriniz varsa öğrenme faaliyetinde ilgili konuya dönerek işlemleri tekrar ediniz.

ÖĞRENME FAALİYETİ-2

AMAÇ

Bu faaliyette verilen bilgiler doğrultusunda uygun ortam sağlandığında erkek iş gömleği ana ve yardımcı malzeme hesabını hesaplayabileceksiniz.

ARAŞTIRMA

Temel erkek iş gömleği malzeme hesaplamasını farklı tekniklerde araştırınız. Elde ettiğiniz sonuçları arkadaşlarınızla paylaşınız.

2. ERKEK İŞ GÖMLEĞİ ANA VE YARDIMCI MALZEME HESAPLAMALARI

2.1. Erkek İş Gömleğinde Kullanılan Ana ve Yardımcı Malzemeler

İş gömleği hazırlanırken ana ve yardımcı malzemeler kullanılır.

Ana malzeme olan kumaşın, kolay ütü tutabilen, sık yıkamaya elverişli, düz kumaşlardan seçilmesi uygun olur.

Ana malzemeler;

- Ø İş gömleği kumaşı

Yardımcı malzemeler;

- Ø Makine iplikleri (dikiş ipliği, overlok ipliği)
- Ø Etiketler (Beden etiketi, firma etiketi, yıkama talimatı)
- Ø Düğme
- Ø Tela

2.2. Erkek İş Gömleği İçin Ana ve Yardımcı Malzeme Hesabı Yapma İşlemleri

UYGULAMA FAALİYETİ

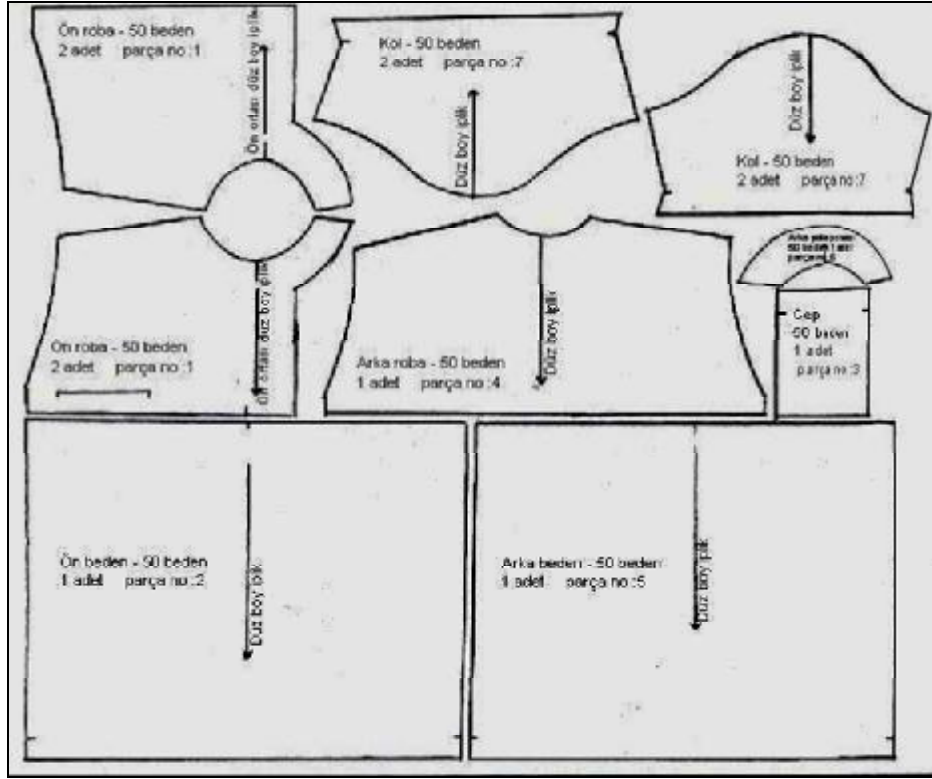
İşlem Basamakları	Öneriler
Ø Kâğıt üzerine kullandığımız ölçüyle kumaş enini belirleyiniz.	Ø Kalıpları yerleştirirken ekonomik olmaya özen gösteriniz.
Ø İş gömleği şablon parçalarını kumaşa düz boy iplik yönüne dikkat ederek yerleştiriniz.	
Ø Kalıpların kenarından çizerek şablonları kaldırınız.	
Ø Diğer kenarını kapatınız.	
Ø Elde ettiğiniz planın boyunu ölçünüz.	Ø Elde ettiğiniz ölçü size erkek iş gömleği için gerekli kumaş miktarını göstermektedir.
Ø Tela için gerekli olan ön kıvrıma payı ve pervazı, arka pervazı belirlediğiniz tela enine yerleştiriniz.	Ø Yerleştirirken düz boy ipliğine dikkat ediniz.
Ø Tela için gerekli metraj ölçüsünü alınız	Ø

Ana malzeme

Kumaş miktarı :

- Ø Kumaşın eni açık en 145 cm
- Ø Kumaşın boyu: 1 adet erkek iş gömleği için 120 cm dir.

2.2.1 Erkek İş Gömleği Kalıbını Kumaşa Yerleştirme



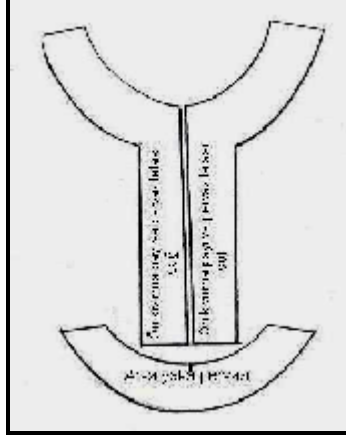
Kumaşın eni 145 cm açık en

Şekil 11

Yardımcı malzeme

- Ø Bir iş gömleği için
- Ø Tela: 35 cm
- Ø Düğme 3 adet (düğme çapı 1.5 cm)
- Ø Beden etiketi, firma etiketi, yıkama talimatı 1 adet

2.2.2 Tela Kalıbını Yerleştirme



Şekil 12

KONTROL LİSTESİ

Aşağıdaki kontrol listesinde yer alan kriterleri kendiniz veya bir arkadaşınızla değiştirerek değerlendiriniz.

DEĞERLENDİRME ÖLÇÜTLERİ		Evet	Hayır
1	Erkek iş gömleği ana ve yardımcı malzemelerini modele uygun olarak belirlediniz mi?		
2	Erkek iş gömleği kalıplarını yerleştirirken verimlilik ilkesine önem verdiniz mi?		
3	Pastal planını tekniğe uygun olarak hazırladınız mı?		
4	Erkek iş gömleği ana malzeme hesaplamalarını doğru olarak yaptınız mı? Metrajını doğru olarak aldınız mı?		
5	Erkek iş gömleği yardımcı malzeme hesaplamalarını doğru olarak yaptınız mı?		
6	Zamanı iyi kullandınız mı?		

DEĞERLENDİRME

Yaptığınız değerlendirme sonunda eksikleriniz varsa öğrenme faaliyetinde ilgili konuya dönerek işlemleri tekrar ediniz.

MODÜL DEĞERLENDİRME

Model föyünden 46 beden ölçülerini kullanarak;

Erkek iş gömleği kalıbı ve şablon çizimini 1/1 ölçekle çalışınız.

Süre: 3 Saat

PERFORMANS DEĞERLENDİRME

Uygulama faaliyetinde yapmış olduğunuz çalışmaları kendiniz ya da arkadaşınızla değiştirerek, değerlendirme ölçeğine göre değerlendiriniz.

DEĞERLENDİRME ÖLÇÜTLERİ		Evet	Hayır
1	Erkek iş gömleği ölçülerini ölçü föyünden doğru olarak aldınız mı?		
2	Ölçüm yerlerini tekniğe uygun belirlediniz mi?		
3	Uzunluk ölçülerini doğru olarak işaretlediniz mi?		
4	Genişlik ölçülerini doğru olarak işaretlediniz mi?		
5	Erkek iş gömleği ön ve arka beden kalıbını tekniğe uygun çizdiniz mi?		
6	Roba çizimini tekniğine uygun olarak yaptınız mı?		
7	Ön kapama payını tekniğine uygun çizdiniz mi?		
8	Cep çizimini ölçülerine göre doğru olarak çizdiniz mi?		
9	Kol için gereken ölçüleri doğru olarak aldınız mı?		
10	Kol kalıbını tekniğe uygun çizdiniz mi?		
11	Erkek iş gömleği kalıp açılımlarını tekniğe uygun yaptınız mı?		
12	Erkek iş gömleği şablonlarını tekniğe uygun hazırladınız mı?		
13	Zamanı iyi kullandınız mı?		

DEĞERLENDİRME

Yaptığınız değerlendirme sonucunda eksikleriniz varsa öğrenme faaliyetine geri dönerek işlemleri tekrarlayınız.

KAYNAKÇA

- Ø AĞAÇ, Saliha, Birsen Gül Çilerođlu, **Kalite Kontrol 1 Kalite ve Kalite Kavramları Hazır Giyim Üretiminde Ana ve Yardımcı Malzeme Kontrolü**, Ya-Pa Yayın Pazarlama San. ve Tic. A.Ş., İstanbul, 2004.
- Ø AĞAÇ, Saliha ve Şule Çivitci, **Kalite Kontrol 2 Hazır Giyim Üretim Sürecinde Kalite Kontrol**, Ya-Pa Yayın Pazarlama San. ve Tic. A.Ş., İstanbul 2004.
- Ø YAKARTEPE Mehmet, Zerrin Yakartepe, **T.K.A.M. Konfeksiyon Ansiklopedisi**, Tekstil ve Konfeksiyon Araştırma Merkezi Yayınları, İstanbul 1993.